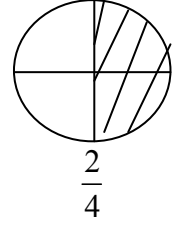
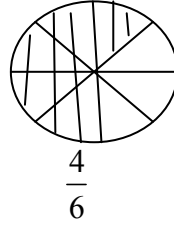
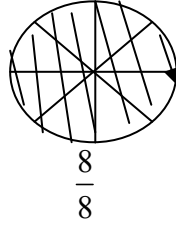
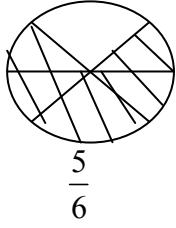


تصحيح اختبار الفصل الثالث في مادة الرياضيات

التمرين الأول: 1.5ن

ألون حسب الكسر ، ثم أجب على السؤال



- الكسر الذي يمثل الوحدة هو: $\frac{8}{8}$

- الكسر الذي يساوي النصف هو: $\frac{2}{4}$

التمرين الثاني:

اقرأ الجدول ثم أكمل الفراغات بما يناسب :

عدد أكياس الحليب	3	15	20	6	10
السعر (بالدينار)	75	375	500	150	250

التمرين الثالث : 1.5ن

- يقطع في اليوم : كيلومتر $375 \times 6 = 1050$

- يقطع في أسبوع : كيلومتر $1050 \times 7 = 7350$

التمرين الرابع :

- نتحصل على مربع

- عدد محاوره : 4 محاور

الوضعية :

$$(50 \times 9000) + (10 \times 25000) + (9 \times 7000) = 763000$$

ثمن المشتريات : 763000 دينار

$$800000 - 763000 = 37000$$

يبقى 37000 دينار