

التمرين الأول:

في نهاية الحمل تنمو الغدد الثديية عند المرأة و تنقسم خلاياها لتركيب مجموعة هامة من المواد تدخل في تركيب الحليب.

1- تحضن مجموعة من الخلايا الغدية.

-المجموعة الأولى: في وجود اليوراسيل المشع U.

-المجموعة الثانية: في وجود الحمض الأميني اللوسين المشع Leu.

نستخلص كل ساعتين الARN لخلايا المجموعة الأولى

و بروتينات المجموعة الثانية و نقيس نسبة الاشعاع داخل هذه

الجزينات، النتائج المحصل عليها ممثلة في الوثيقة 1

1- حل وفسر النتائج المحصل عليها؟

2- علل التتابع الزمني لظهور هاتين الجزينتين؟

3- سم المراحل المشكلة للجزينتين محددًا مقر كل منها؟

2- يعتبر الكازين من البروتينات المفرزة في الحليب. حيث يلاحظ عند بعض النساء غياب هذا البروتين في حليبهن حيث تتميز المورثة المسؤولة عن تركيب هذا البروتين بالقطعة التالية:

TAC TCC CTC AAT CTT ATT TTG

1- فسر غياب الكازين في حليب هذه النسوة.

التمرين الثاني:

الليزوزيم بروتين يتكون عند الانسان من 130 حمض أميني اكتشف صدفة من العالم ألكسندر فليمينغ حيث اتضح أن له القدرة على تخريب جدران البكتيريا، لدراسة بنية انزيم الليزوزيم و العوامل المؤثرة على نشاطه نقدم الوثائق التالية:

1- يمثل الشكل (أ) من الوثيقة 1 البنية ثلاثية الأبعاد لانزيم الليزوزيم بينما الشكل (ب) يبين البنية الأولية لهذا الانزيم و ترتب الأحماض الأمينية الداخلة في تركيب العنصر (ك)

الشكل ب: البنية الأولية لهذا الإنزيم وتمثل الاشرطة الأحماض الأمينية الداخلة في تشكيل العنصر ك

الشكل أ: البنية ثلاثية الأبعاد للإنزيم الليزوزيم

● ذرات
● لأحماض أمينية
● من العنصر ك

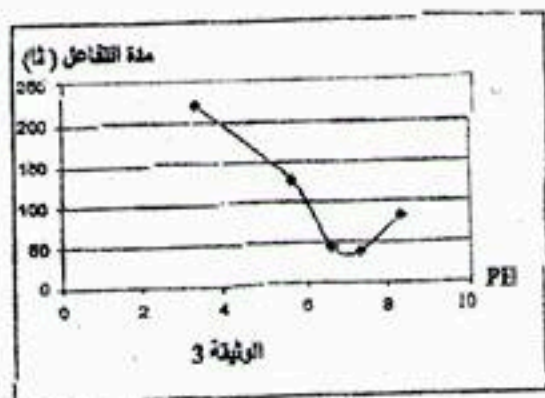
الوثيقة 1

- 1- علل تسمية الإنزيم بالوسيط الحيوي.
 - 2- تعرف على العنصر (ك) ثم بين ميزته التي تمكن الإنزيم من أداء وظيفته.
 - 3- كيف تفسر وجود أحماض أمينية ذات مراتب متباعدة في الشكل (ب) في مواقع متقاربة من العنصر (ك) في الشكل (أ)؟
 - 4- إذا علمت أن مادة التفاعل هي سكريات لمحفظة البكتيريا. حدد نوع التفاعل مدعما إجابتك بمعادلة.
- 2- تمثل الوثيقة 2 مقارنة باستعمال برنامج الأناجين لتتابع 30 حمض أميني الأخيرة للسلاسل البيبتيدية لثلاث ليزوزيمات.

الإنزيم الطبيعي	1.0
الإنزيم أ	1.0
الإنزيم ب	1.0

الوثيقة 2

- 1- ماذا تستنتج من تحليلك للوثيقة؟
 - 2- إذا علمت أن الإنزيم (أ) يعمل بنفس كفاءة الإنزيم الطبيعي بينما الإنزيم (ب) نشاطه معدوم اعتمادا على ما سبق فسر اختلاف نشاط الإنزيمين أ و ب؟
 - 3- لدراسة تأثير درجة الحموضة PH على النشاط الإنزيمي نقدم التجربة، الموالية :
نضع في أوساط مختلفة الحموضة نفس الكمية من المحفظة السكرية للبكتيريا (30 مغ/ل) و كمية ثابتة من الليزوزيم ثم نتبع المدة اللازمة لحدوث التفاعل. النتائج المحصل عليها موضحة في الوثيقة 3.
- 1- حلل منحنى الوثيقة 3 وماذا تستنتج؟
 - 2- نمذج حالة الإنزيم في الوسط و علاقته بمادة التفاعل في PH=3 و PH=7.
 - 3- فسر الية تأثير درجة PH على النشاط الإنزيمي.

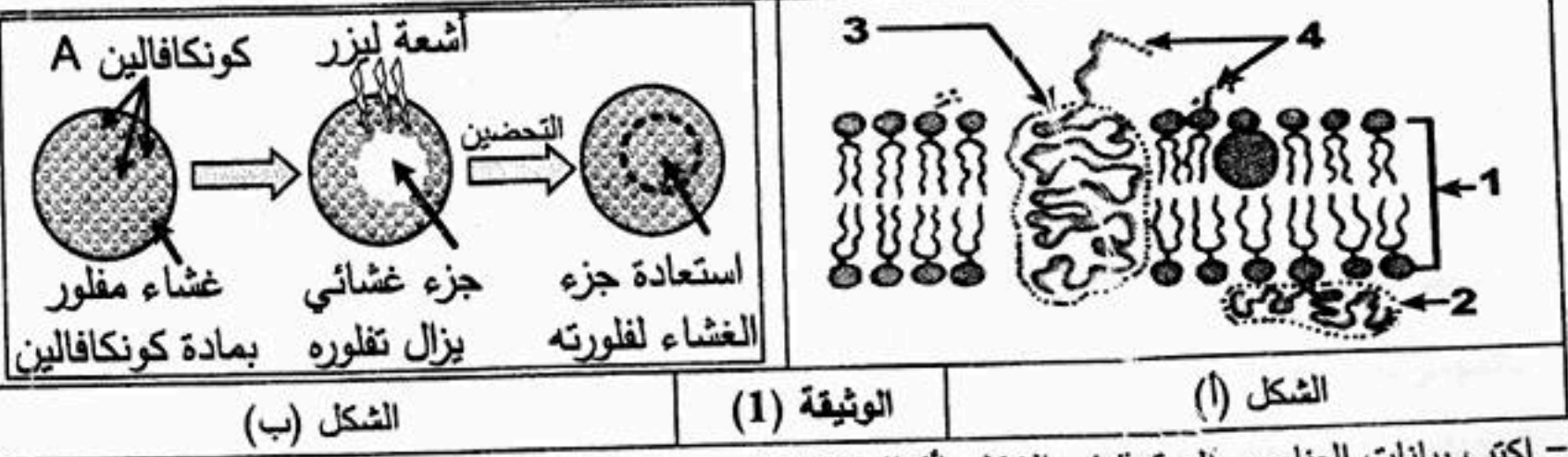


التمرين الثالث :

للعضوية قدرة التمييز بين مكوناتها (الذات) والمكونات الغريبة عنها (اللاذات)، بفضل جزيئات خاصة محمولة على الأغشية الهيولية للخلايا.

I - لإبراز مميزات الغشاء الهيولي تقترح الوثيقة (1) حيث:

- الشكل (أ) يمثل جزء من بنية الغشاء الهيولي للخلية.
- الشكل (ب) يوضح خطوات ونتائج تجربة أجريت على الغشاء الهيولي (تجربة استرجاع الفلورة) حيث تثبت مادة مفلورة (كونكافالين A) على العناصر (4) للوثيقة (1) ثم تسلط على غشاء الخلية حزمة أشعة ليزر التي تزيل المادة المفلورة لجزء من الغشاء الهيولي، تُحضر بعدها الخلية المعالجة في وسط ملائم.



الوثيقة (1)

الشكل (أ)

الشكل (ب)

1- اكتب بيانات العناصر المرقمة في الشكل (أ) للوثيقة (1).

2- أ- هل مادة الكونكافالين (A) ترتبط بالسطح الخارجي أم الداخلي للغشاء الهيولي؟ علّل.
ب- فسر هذه النتيجة. ماذا تستنتج؟

3- استخرج من الوثيقة (1) مميزات الغشاء الهيولي.

II - تتواجد جزيئات نظام CMH على السطح الخارجي لأغشية خلايا العضوية وهي محددة وراثيا والوثيقة (2) تمثل دراسة لبعض هذه الجوانب:

1- الشكل (1) يمثل نتائج معاملة ثلاث خلايا (خلية كبدية، كرية دم حمراء، خلية لمفاوية LB) بتقنية الوسم المناعي: تستعمل أجسام مضادة موصولة بعناصر ذهبية مختلفة القطر.

جسم مضاد CMH I قطرها 15 نانومتر
وجسم مضاد CMH II قطرها 30 نانومتر.

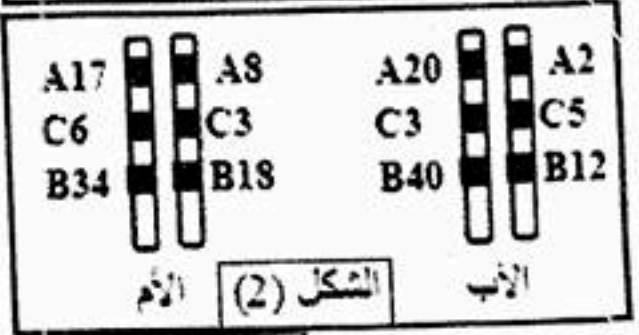
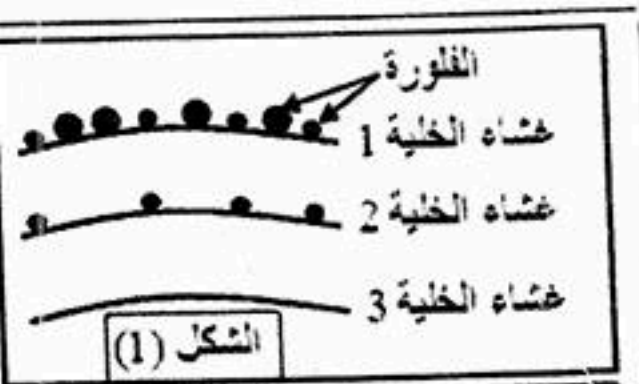
- أنسب الأغشية 1، 2، 3 إلى الخلايا الثلاث مع تعليل الإجابة.

2- انشك (2) يمثل النمط الوراثي (تركيبية أليلية) لـ CMH I.

أ- قارن بين النمط الوراثي للأب والأم، ثم احسب نسبة التوافق بينهما.

ب- مثل نمط وراثي محتمل لأحد أبناء هذه العائلة بحيث نسبة التوافق مع كل من الأب والأم تساوي 50%.

III - مما سبق ومعلوماتك، اكتب نصا علميا تبرز فيه كيف تتفرد كل عضوية بهوية بيولوجية خاصة بها.



الوثيقة (2)