

العلامة:

2019 / 12 /

مدرسة: الإخوة نوارية - المقطع - الرصيفة.

السنة الدراسية: 2020/2019.

الأستاذ: عوج عبد الصمد

الاسم:


اللقب:

المستوى: الثانية ابتدائي.

إختبار الفصل الأول في مادة الرياضيات

الأسئلة:


1- التمرين الأول: اكتب العدد:



حبة حلوى.....



نجمة.....



قلمًا.....

2- التمرين الثاني: اكتب الأعداد بالحروف أو بالأرقام:

.....	10
.....	25


.....	سبعة
.....	خمسة عشر

3- التمرين الثالث: احسب العمليات التالية:

$$8 + 5 = \dots\dots\dots \quad 11 + 5 = \dots\dots\dots \quad 23 + 2 = \dots\dots\dots \quad 20 + 10 = \dots\dots\dots$$

$$15 - 6 = \dots\dots\dots \quad 9 - 9 = \dots\dots\dots \quad 29 - 29 = \dots\dots\dots \quad 28 - 18 = \dots\dots\dots$$

4- التمرين الرابع: أكمل الشريط العددي:



5- التمرين الخامس: قارن بين الأعداد باستعمال الرمزين: < أو >:

$$18 \dots\dots 25 \quad 19 \dots\dots 12 \quad 15 \dots\dots 25 \quad 15 \dots\dots 30$$

$$15 \dots\dots 10 \quad 26 \dots\dots 27 \quad 29 \dots\dots 19 \quad 28 \dots\dots 13$$

الوضعية الإدماجية:

- قطف مريم 30 تفاحة في الصباح، وفي 10 المساء. كم عدد حبات التفاح الذي صار لديها؟

- أصبح عند مريم تفاحة.

$$\dots\dots\dots = \dots\dots\dots$$

بالتوفيق

أبنائي وبناتي