

## اختبار مادة الرياضيات الفصل الأول

1- اربط (02)

121

112

102

120

- - مئة و عشرون
- - مئة و إثنان
- - مئة و إثنا عشر
- - مئة و واحد و عشرون

2- أجد العدد الناقص : (02)

$18 + \bullet = 20$

$57 + \bullet = 60$

$91 + \bullet = 100$

$104 + \bullet = 110$

3- أقرن: (02)

$95 \bullet 59$

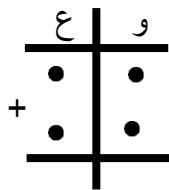
$06 \bullet 60$

$130 \bullet 103$

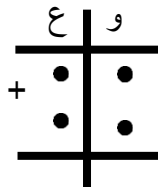
$82 \bullet 82$

4- أنجز عموديا: (1)


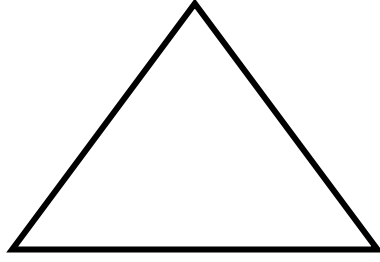
$13 + 31 =$



$25 + 71 =$



5- ألون المثلث بالأصفر و المربع بالأحمر (1.5ن)

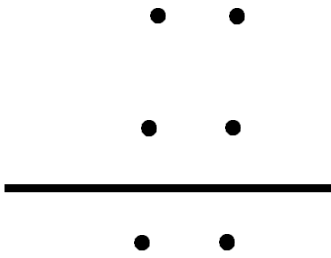


6- مشكلة: (1.5ن)

عند أحمد 50 كرية و ربح 32 كرية

ما هو عدد الكريات ؟

الحل



الأجوبة:

..... = .....

.....

كرية .....