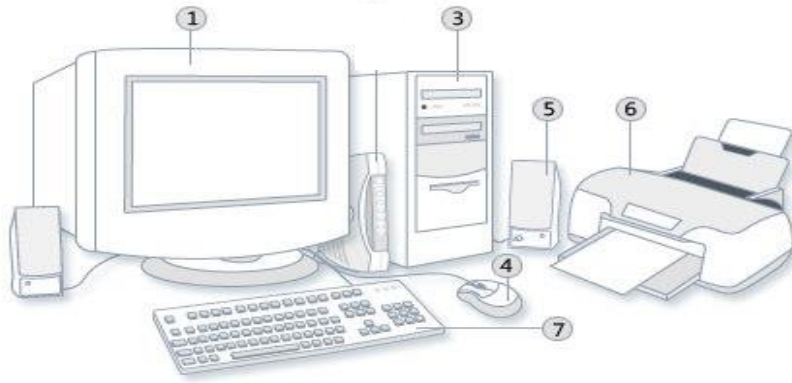


التمرين الأول: 6ن

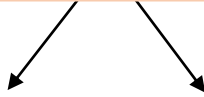
ماذا تمثل العناصر المرقمة؟
- اذكر دورها.



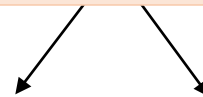
- 1 ← دوره (ها) -----
3 ← دوره (ها) -----
4 ← دوره (ها) -----
5 ← دوره (ها) -----
6 ← دوره (ها) -----
7 ← دوره (ها) -----

التمرين الثاني: 6ن

Informatique



معلوماتية



أ / أكمل:

ب/ ماذا يلزم الحاسوب كي يشتغل؟

التمرين الثالث: 8ن

أ/ مراحل إيقاف الحاسوب هي:

- 1 -----
3 -----
ب/ مراحل الدخول الى برنامج الحاسبة هي:
1 -----
3 -----
- 2 -----
4 -----
2 -----
4 -----