


الاسم واللقب:



النصف

السنة الأولى ابتدائي

أقسم الحوض الى نصفين بوضع خط ثم أكمل





نصف 8 هو



نصف 2 هو

لون نصف البالونات بالأصفر والنصف الآخر بالأخضر ثم أكمل




نصف 6 هو

ألون نصف السمك بالأحمر والنصف الآخر بالبرتقالي ثم أكمل



نصف 4 هو



نصف 12 هو

أكمل الجدول

| 10 | 8 | 6 | 4 | 2 | العَدَدُ |
|-----|-----|-----|-----|-----|----------|
| ... | ... | ... | ... | ... | نصفه |



الأستاذ محمد

الاسم واللقب:

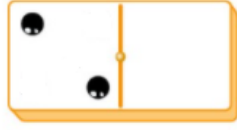
الضعف

السنة الأولى ابتدائي

أكمل رسم الدومينو ثم أجد الضعف

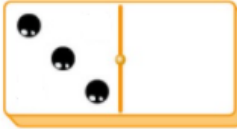
الون كل بطاقتين بنفس اللون تعبران عن الضعف وحسابه

$2+2=...$



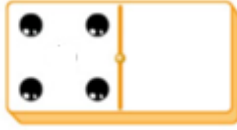
$3+3$

$3+3=...$



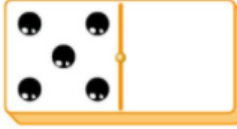
$4+4$

$4+4=...$


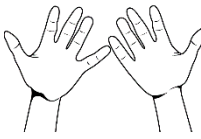


$2+2$

$5+5=...$



$5+5$



أكمل الجدول

| 5 | 4 | 3 | 2 | 1 | العدد |
|-----|-----|-----|-----|-----|-------|
| ... | ... | ... | ... | ... | ضعفه |

أكمل الجدول

| 9 | 8 | 7 | 6 | العدد |
|------|------|------|-----|-------|
| | | | ... | ضعفه |

| 18 | 16 | 14 | 12 | العدد |
|------|------|------|-----|-------|
| | | | ... | نصفه |



$5+5=10$

$6+6=12$

$7+7=14$

$8+8=16$

$9+9=18$



الأستاذ محمد