

الجمهورية الجزائرية الديمقراطية الشعبية

وزارة التربية الوطنية

الديوان الوطني للامتحانات والمسابقات

امتحان بكالوريا التعليم الثانوي

دورة: 2024

الشعبة: علوم تجريبية، رياضيات، تقني رياضي، فنون

المدة: 03 سا و 30 د

اختبار في مادة: التاريخ والجغرافيا

على المترشح أن يختار أحد الموضوعين الآتيين:

الموضوع الأول

يحتوي الموضوع على صفتين (02) (من الصفحة 1 من 5 إلى الصفحة 2 من 5)

التاريخ:

الجزء الأول: (06 نقاط)

(1) "... نظرا للسلطات التي حولها المجلس الوطني للثورة الجزائرية إلى لجنة التنسيق والتنفيذ، فإن لجنة التنسيق والتنفيذ قد قررت تكوين حكومة مؤقتة للجمهورية الجزائرية. وجاء في البيان الأول للحكومة المؤقتة بعد أن تعهدت بأن تبقى وفية للمبادئ السامية للثورة التحريرية، التي سطرها بيان أول نوفمبر، نددت بالسياسة الفرنسية الزامية إلى إدماج الشعب الجزائري بفرنسا...".
المرجع: محمد حسن زغدي. مؤتمر الصومام وتطور ثورة التحرير الوطني الجزائرية (1962/1956). دار هومة للطباعة والنشر والتوزيع الجزائر. عام 2009. صفحة 191.

المطلوب: اشرح ما تحته خط في النص.

(2) أكمل الجدول التالي:

التاريخ	الحدث
08 سبتمبر 1954
.....	إضراب الطلبة المسلمين الجزائريين
13 أوت 1961

الجزء الثاني: (04 نقاط)

لم يكن لينتهي صراع القطبين بعد الحرب العالمية الثانية، والذي استمر حتى عام 1989 دون أن تكون له انعكاسات مختلفة على مسار العلاقات الدولية.

المطلوب: انطلاقا من العبارة واعتمادا على ما درست، اكتب مقالا تاريخيا تبين فيه:

(1) طبيعة الصراع بين القطبين.

(2) انعكاساته على مسار العلاقات الدولية.

الجغرافيا:

الجزء الأول: (06 نقاط)

(1) '... في ظلّ تمتّع الولايات المتّحدة الأمريكية بتّخذاد سكاني كبير وارتفاع في الدّخل الفردي، فهي تُشكّل أكبر سوق استهلاكية في العالم... وهو ما يُتميّز هذا الاقتصاد الذي يعتمد على الاستهلاك قبل الانتاج والاستثمار، كآلية لدفع مسيرة النمو الاقتصادي، ولذلك تتهاافت مختلف الدول على التصدير للولايات المتّحدة الأمريكية...'

المرجع: المواقع الزاهنة للقوى في النظام الاقتصادي العالمي. قراءة في التقارير الدولية.

مجلة المنياسة الدولية. العدد: 173. المجلد: 43. جويلية 2008. صفحة 57.

المطلوب: اشرح ما تحته خط في النص.

(2) إنك جنولا يمتل قيمة تجارة البضائع للاتحاد الأوروبي مع بعض الشركاء التجاريين عامي 2021 و2022.

الوحدة: مليار دولار.

المنتجات	التول	الو.م. الأمريكية	الصين	روسيا	سويسرا	اليابان
2021	633.07	697.29	252.84	280.75	124.60	
2022	867.99	856.91	258.52	333.47	141.55	

المصدر: La Suisse et L'UE en chiffres. Statistiques relatives au commerce, à la population et au transport. Août 2023.P12.

المطلوب: مثل المعطيات الإحصائية الواردة في الجدول بأعمدة بيانية في مجال واحد بمقياس رسم:

1 سم لكل 80 مليار دولار.

1 سم لكل عمود.

الجزء الثاني: (04 نقاط)

يُشير التطور الاقتصادي الكبير الذي تعرفه منطقة شرق وجنوب شرق آسيا اهتمام الكثير، فرغم المعوقات التي تعترضها، إلا أنها حيزت لنفسها مكانة اقتصادية بين اقتصادات العالم.

المطلوب: انطلاقا من العبارة واعتمادا على ما درست، اكتب مقالا جغرافيا تبين فيه:

(1) عوامل التطور الاقتصادي لمنطقة شرق وجنوب شرق آسيا.

(2) المعوقات الداخلية التي تعترض اقتصادها.

الموضوع الثاني

يحتوي الموضوع على (03) صفحات (من الصفحة 3 من 5 إلى الصفحة 5 من 5)

التاريخ:

الجزء الأول: (06 نقاط)

(1) "... تعرض حلف شمال الأطلسي لمطّارِقٍ نُفِذَ عَنيفَةً انبجالت عليه من قِبَلِ الذول الاشتراكية ودول عدم الانحياز... فأما الذول الاشتراكية فتزى أن الحلف يُناقِضُ في جوهره قضية السلام ومبادئ الأمم المتحدة... أما أنصار عدم الانحياز فإنهم يُنْعَوْنَ على الحلف... أنه أكّد انقسام العالم إلى كتلتين متناهضتين... ولأنه يدعو إلى السّباق نحو التسلّح... ولأنه استُخِدم في تدعيم الاستعمار وقمع الحركات التحررية...".

المرجع: د/ محمد عزيز شكري. الأحلاف والتكتلات في السياسة العالمية.

عالم المعرفة 07. صفحة 42.

المطلوب: اشرح ما تحته خط في النص.

(2) على خريطة العالم المرفقة، وقّع دولتين من دول حلف شمال الأطلسي ودولتين من دول حركة عدم الانحياز.

الجزء الثاني: (04 نقاط)

اعتمدت الثورة الجزائرية عبر مراحل كفاحها على استراتيجيات داخلية وخارجية، فداخليا اعتمدت على مخططات عسكرية أفضلت بها كل استراتيجيات المستعمر في القضاء عليها، وخارجيا على نشاط دبلوماسي عزفت به العالم بالقضية الجزائرية وأكسبها تأييدا دوليا.

المطلوب: انطلاقا من العبارة واعتمادا على ما درست، اكتب مقالا تاريخيا تبين فيه:

(1) المخططات العسكرية التي اعتمدت عليها الثورة داخليا.

(2) وسائل التعريف بالقضية الجزائرية خارجيا.

الجغرافيا:

الجزء الأول: (06 نقاط)

(1) "... أصبح الاتحاد الأوروبي ساري المفعول ابتداء من سنة 1993 طبقا لمُقْتَضِيَاتِ معاهدة ماستريخت... حيث عمل على تحرير عمليات الدَفْع وحركة رؤوس الأموال بين الدول الأعضاء، وزيادة التّعاون بين الهيئات العامة، ومزيدا من التّطابق في السّياسة الاقتصاديّة... داخل المجموعة الأوروبيّة وصولا إلى إنشاء البنك المركزي الذي يقوم برسم السّياسة النّقديّة وإصدار العملة الموحّدة... ثم تابعت الدول الأوروبيّة عملية الاندماج والوحدة وضمّ دول جديدة من أوروبا الشّرقيّة..."

المراجع: وليد إبراهيم حذيفة. القوى الاقتصاديّة الصّاعدة في ظلّ العولمة. (2015/2014). صفحة 46.

المطلوب: اشرح ما تحته خطّ في النّص.

(2) إليك جدولا يمثّل نسبة مساهمة بعض الدول في إنتاج الغاز الطبيعي في العالم عام 2022.

الدول	الو.م. الأمريكيّة	روسيا	إيران	الصّين	كندا	قطر	م.ع.السعودية	الجزائر
النسبة %	24.2	15.3	6.4	5.5	4.6	4.4	3.0	2.4

المصدر: Source: The Energy Institute Statistical Review of World Energy 2023.

المطلوب: علّق على المعطيات الإحصائيّة الواردة في الجدول.

الجزء الثاني: (04 نقاط)

يتظاهر عالم الشّمال (المتقدّم) بمساعدة عالم الجنوب (المتخلف) للخروج من دائرة التّخلف، إلا أنّ الواقع يُشير أنّه يريد بقاءه على حاله لاستغلال ثرواته الهائلة خدمة لاقتصاده.

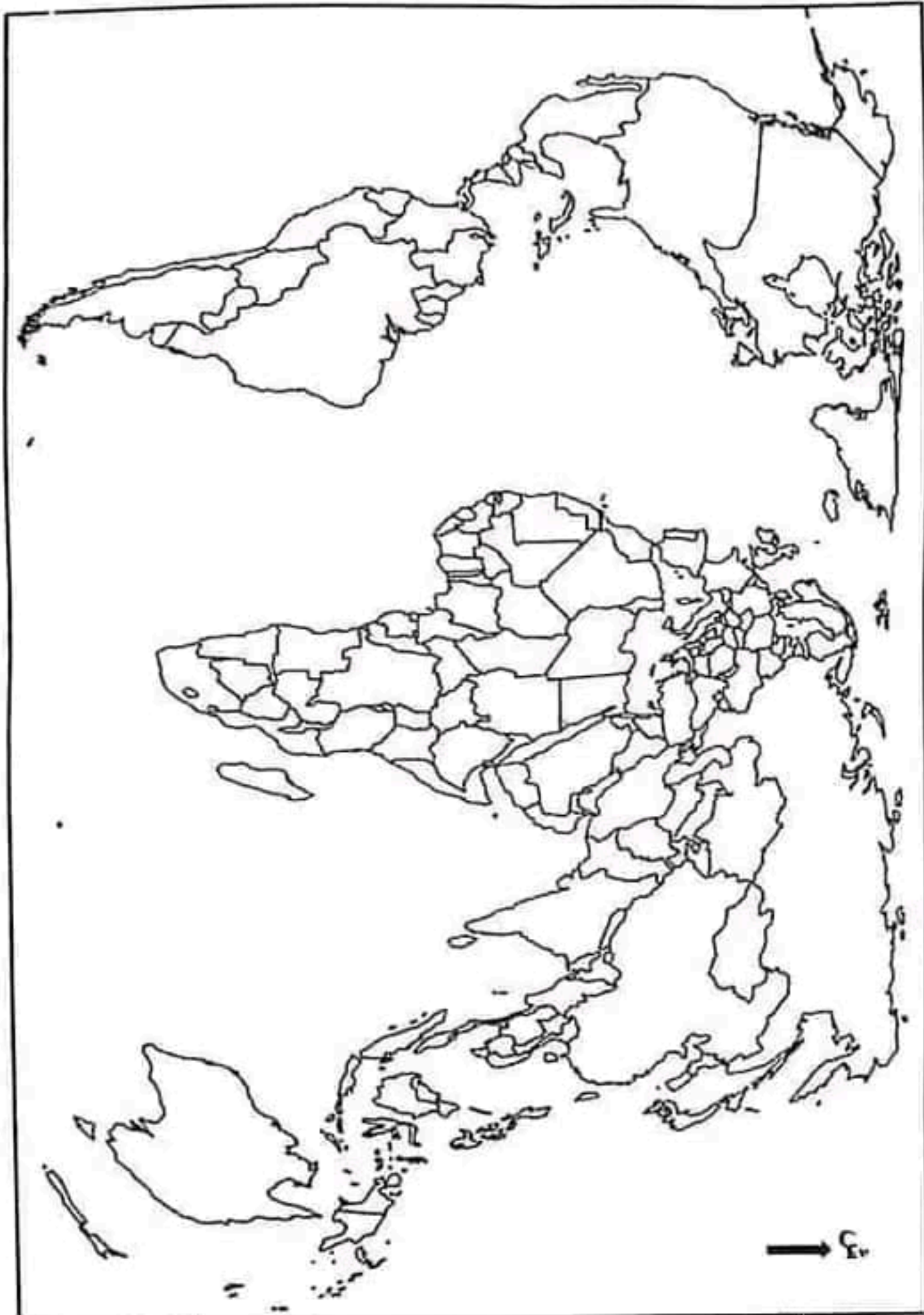
المطلوب: انطلاقا من العبارة واعتمادا على ما درست، اكتب مقالا جغرافيا تبين فيه:

(1) مظاهر التّخلف الاقتصاديّة لعالم الجنوب.

(2) أهميّة عالم الجنوب الاقتصاديّة بالنسبة لعالم الشّمال.

اختبار في مادة: التاريخ والجغرافيا // الشعبة: علوم تجريبية، رياضيات، تقني رياضي، فنون // بكالوريا 2024

الخريطة تابعة للموضوع الثاني (تاريخ). خريطة العالم



انتهى الموضوع الثاني

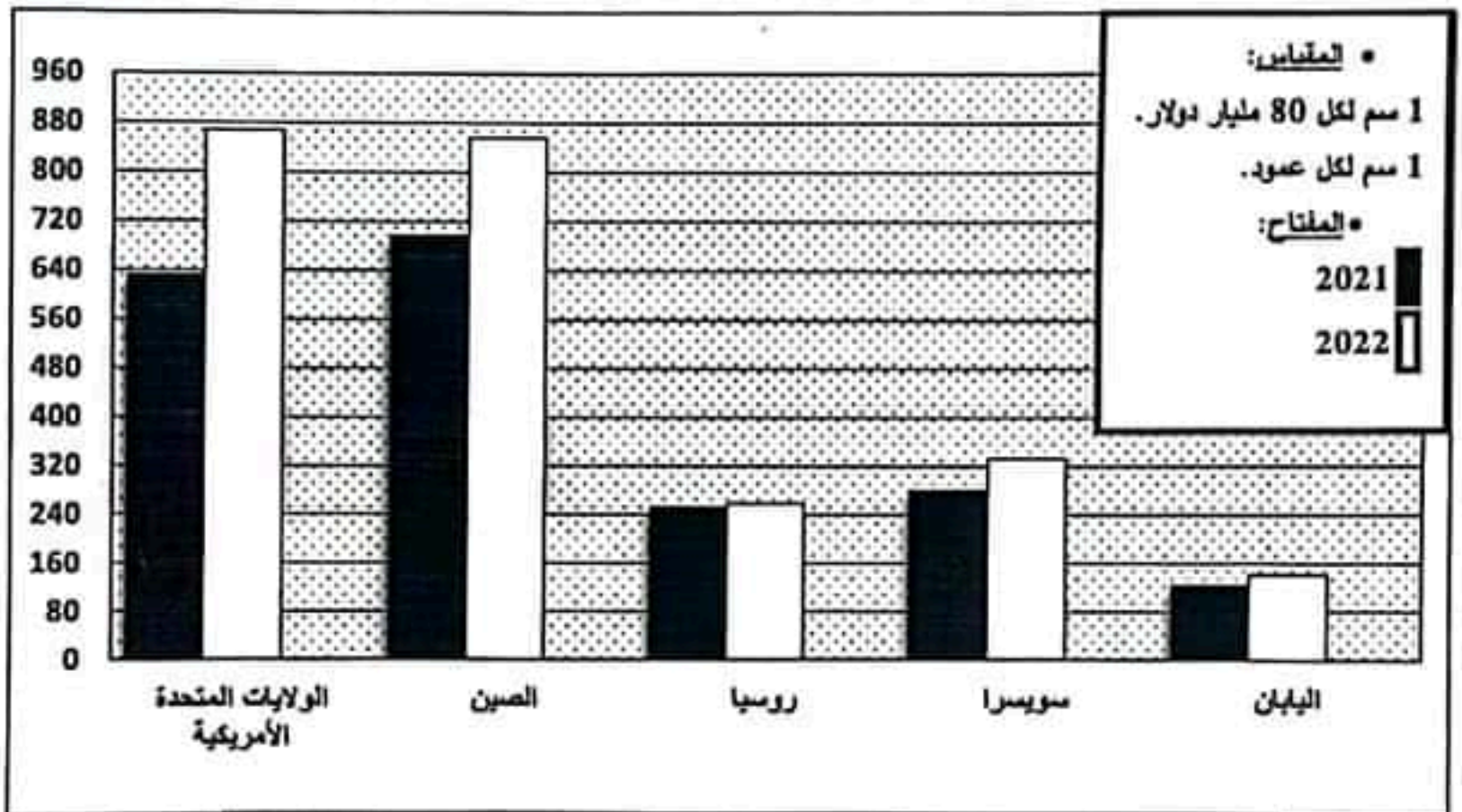
ينجز العمل المطلوب على الخريطة وتعاد مع أوراق الإجابة

العلامة		عناصر الإجابة: الموضوع الأول.								
مجموع	مجزأة									
06	01	<p>التاريخ: الجزء الأول: (1) <u>شرح ما تعنيه خط في النص:</u> <ul style="list-style-type: none"> المجلس الوطني للثورة الجزائرية: هيئة تشريعية للثورة الجزائرية (برلمان الثورة) انبثقت عن مؤتمر الصومام عام 1956، وهو أعلى سلطة، جاء تجسيدا لمبدأ القيادة الجماعية، اتخذ القرارات الهامة والحاسمة تكوّن من 34 عضو تم توسع إلى 52 عضو... لجنة التنسيق والتنفيذ: هيئة تنفيذية للثورة الجزائرية انبثقت عن مؤتمر الصومام عام 1956، جاءت لتنفيذ قرارات المجلس الوطني للثورة والتنسيق بين الولايات الثورية، تكوّنت من 05 أعضاء تم توسع إلى 09 أعضاء... الثورة التحريرية: رد فعل الشعب الجزائري ضدّ الوجود الاستعماري الفرنسي وهي أحد أهم الثورات في العالم، امتدت من 1954 إلى 1962 وانتهت بتحقيق الاستقلال واستعادة السيادة الوطنية.... </p>								
	01	<p>(2) <u>اكمل الجدول:</u></p> <table border="1" style="margin-left: auto; margin-right: auto;"> <thead> <tr> <th>التاريخ</th> <th>الحدث</th> </tr> </thead> <tbody> <tr> <td>08 سبتمبر 1954</td> <td>تأسيس جبهة جنوب شرق آسيا</td> </tr> <tr> <td>19 ماي 1956</td> <td>إضراب الطلبة المسلمين الجزائريين</td> </tr> <tr> <td>13 أوت 1961</td> <td>بناء جدار برلين</td> </tr> </tbody> </table>	التاريخ	الحدث	08 سبتمبر 1954	تأسيس جبهة جنوب شرق آسيا	19 ماي 1956	إضراب الطلبة المسلمين الجزائريين	13 أوت 1961	بناء جدار برلين
	التاريخ	الحدث								
08 سبتمبر 1954	تأسيس جبهة جنوب شرق آسيا									
19 ماي 1956	إضراب الطلبة المسلمين الجزائريين									
13 أوت 1961	بناء جدار برلين									
01	<p>الجزء الثاني: <u>مقدمة:</u> العلاقات الثنائية بين صراع القطبين وانعكاساته عليها. (تقبل كل مقنعة وظيفية) (1) <u>طبيعة الصراع بين القطبين:</u> كانت طبيعة الصراع على الشكل التالي: <ul style="list-style-type: none"> صراع إيديولوجي عنائدي: بين نظامين متناقضين الشيوعي بقيادة الاتحاد السوفياتي والرأسمالي بقيادة الولايات المتحدة الأمريكية. صراع عسكري: سمي كمن قطب للشرق العسكري (التباني نحو التسلح) والتبيطرة على الآخر. صراع ثقافي: رغبة كل قطب في استقطاب القبول لتوسيع نفوذه ونشر مذهبه... صراع مسلحي: سمي كمن قطب للنزاع عن مصالحه بكل الوسائل... </p>									
04	<p>(2) <u>انعكاساته على مسد العلاقات الثنائية:</u> تمكّنت في: <ul style="list-style-type: none"> توتر العلاقات الثنائية من خلال الأزمات والتباني نحو التسلح ونشر الأحلاف والتواعد العسكرية... انفراج في العلاقات الثنائية وانخفاض حدّة التوتر من خلال ظهور سياسة التعايش السلمي... ظهور سياسة جديدة في العلاقات الثنائية تمكّنت في سياسة عدم الانحياز (مؤتمر بالندونغ). ظهور كتلة العالم الثالث وتأسيسها لعركة عدم الانحياز التي رفضت دولها السبل لأحد المعسكرين. تراجع مكانة أوروبا دولها حيث أصبحت تابعة للقوتين. تفكك المعسكر الشرقي وظهور نظام دولي جديد. </p> <p><u>خاتمة:</u> كلما نشد الصراع توترت العلاقات الثنائية وكلما خفت انفجرت. (تقبل كل خاتمة وظيفية)</p>									
		(تقبل كل الإجابات الصحيحة الأخرى)								

		<p>الحرفائيا: الجزء الأول:</p> <p>(1) شرح ما تحته خط في النص:</p> <p>• النخل الفردي: نصيب الفرد من الثروة المحققة في بلد ما خلال سنة، يُحسب بتقسيم الناتج (النخل) الوطني الخام على عدد سكان ذلك البلد، ويحسب بالدولار وهو مؤشر دال على مستوى المعيشة...</p> <p>• سوق استهلاكية: فضاء يلتقي فيه عارضو السلع والخدمات مع المشتريين وتتم فيه عملية البيع والشراء...</p> <p>• النمو الاقتصادي: التحسن والتطور الذي يحدث في اقتصاد دولة ما على مجموعة من المؤشرات وتشمل كل القطاعات (الزراعة، الصناعة، الخدمات) مثل الزيادة في الناتج الداخلي...</p> <p>(2) تمثيل البياني: (أعدة بيانية):</p> <p>* العنوان: 0.50 * المفتاح: 0.50 * المقياس: 0.50 * الإنجاز: 01.50</p> <p>ملاحظة: يقبل التمثيل البياني في حالة الفصل بين عمودي الصلوات والواردات.</p>
06	01 01 01 03	
	0.50	<p>الجزء الثاني:</p> <p>مقدمة: منطقة شرق وجنوب شرق آسيا بين عوامل قزة اقتصادها والمعوقات التي تعرضه.</p> <p>(تقبل كل مقدمة وتطبيقية)</p> <p>(1) عوامل التطور الاقتصادي لمنطقة شرق وجنوب شرق آسيا:</p> <p>• الززن الديمغرافي للمنطقة (سوق استهلاكية واسعة، يد عاملة كبيرة تتميز بالانضباط والالتقان في العمل...).</p> <p>• التطور التكنولوجي الكبير وسرعة تكيف الفرد الآسيوي مع التكنولوجيا الحديثة...</p> <p>• تدفق رؤوس أموال العمال المهاجرين...</p> <p>• الانفتاح على الاقتصاد العالمي واستقطاب الاستثمارات الأجنبية...</p> <p>• تشابه الثقافات سهل عملية الاندماج والتنقل (الآسيان)...</p> <p>• وفرة البنية التحتية مثل الموانئ والأساطيل البحرية...</p> <p>(2) المعوقات الداخلية التي تعرض اقتصادها:</p> <p>• تباين مستوى التقدم بين دول المنطقة .</p> <p>• المنافسة الداخلية بين بلدان المنطقة.</p> <p>• افتقار المنطقة للموارد الطبيعية...</p> <p>• تعرض المنطقة لكوارث طبيعية (فيضانات، براكين، زلازل وأعاصير...).</p> <p>• انتشار ظاهرة التلوث البيئي...</p> <p>• الصدمات المالية مثال أزمة 2007-2008 باندونيسيا.</p>
04	0.25 6* 0.25 6*	
	0.50	<p>خاتمة: تزداد منطقة شرق وجنوب شرق آسيا تقدما رغم المعوقات التي تعرضها. (تقبل كل خاتمة وتطبيقية)</p> <p>(تقبل كل الإجابات الصحيحة الأخرى)</p>

أعدت بيانية تمثل قيمة تجارة البضائع في الاتحاد الأوروبي مع بعض الشركاء التجاريين عامي 2021 و2022.

مليار دولار

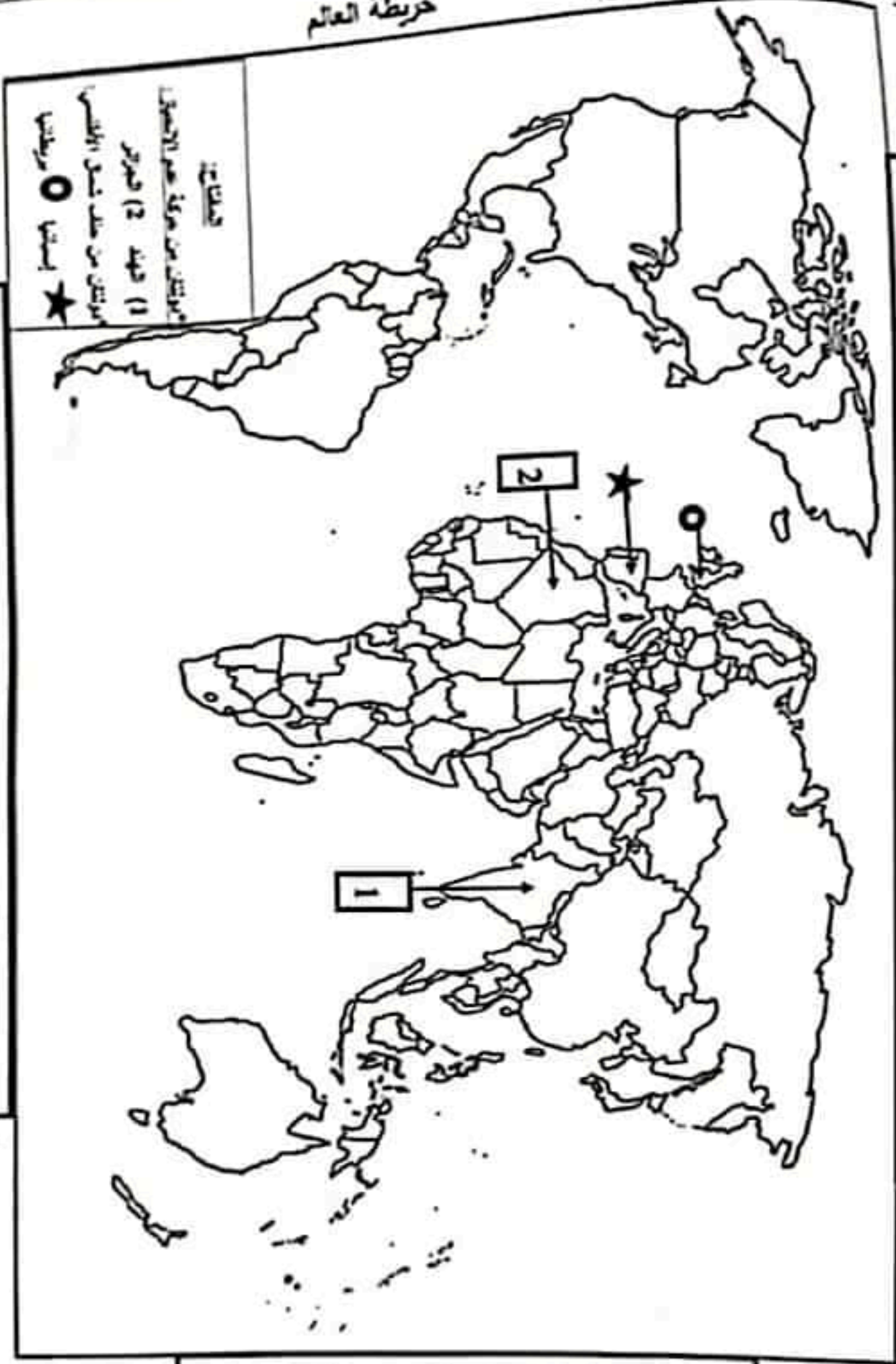


ملاحظة: يقبل التمثيل البياني في حالة الفصل بين عمودي الصادرات والواردات.

العلامة		عناصر الإجابة: (الموضوع الثاني)
مجموع	مجزأة	
06	01	<p>التاريخ: الجزء الأول: (1) شرح ما تعنيه خط في الشعر: • الأمم المتحدة: هيئة دولية تأسست عام 24 أكتوبر 1945، مقرها نيويورك (و.م.أ) تتكون من عدة أجهزة أهمها الجمعية العامة، مجلس الأمن الدولي وسكسة العدل الدولية، هدفها تحقيق السلم والأمن في العالم... • عدم الانحياز: سياسة ظهرت أثناء الحرب الباردة، تبنتها مجموعة من الدول الإفريقية والآسيوية حديثة الاستقلال وتعني عدم الميل إلى أحد المعسكرين المتصارخين الشرقي أو الغربي... • التسليح نحو التسليح: استراتيجية عسكرية انتهجتها القوتان خلال الحرب الباردة، تقوم على إنتاج وتطوير أسلحة القمار الشامل (الأسلحة النووية والهيدروجينية...) بهدف انتصار أحدهما على الآخر...</p>
	01	<p>(2) التوقيع على الخريطة: * العنوان: 0.50 * الملتاح: 0.50 * الإيجاز: 0.50 * 4 = 0.50 * 02</p> <p>[ملاحظة: تامل كّن الدول الأخرى التي تنتمي لحلف شمال الأطلسي والتي تنتمي لحركة عدم الانحياز.]</p>
	03	<p>الجزء الثاني: ملزمة: الثورة الجزائرية بين تنفيذ مخططاتها العسكرية داخليا ووسائل التعرف بها خارجيا. (تامل كّن مقدمة وقلبية) (1) المخططات العسكرية التي اعتمدت عليها الثورة داخلنا: • تجنب المواجهة المباشرة مع المستعمر لعدم تساوي القوتين. (اعتماد حرب الكف والفز والكمان) • لترك الشعب في الهجمات العسكرية ضد العدو (هجمات الشمال التونسي 1955/8/20) وتوسيع نطاق الثورة عبر كّن أرجاء الوطن لتثبيت فزت العدو. • تصفير وحدت جيش التحرير الوطني لمواجهة المخططات العسكرية الفرنسية (مخطط شال 1959). • تنظيم جيش التحرير الوطني بتحديد المسؤوليات والزتب والمهام بموجب قرارات مؤتمر الصومام 1956/8/20 • نقل الثورة من الأرياف إلى المدن (معركة الجزائر 1957). • تقسيم الجزائر إلى مناطق وولايات عسكرية للتسيق ولتنظيم الثورة.</p>
04	0.50	<p>(2) وسائل التعرف بالقضية الجزائرية خارجنا: • تشكيل الوفد الخارجي للتعرف بالثورة • فتح مكاتب دبلوماسية للثورة في الدول الصديقة والشقيقة. • تأسيس الحكومة المؤقتة في 1958 في القاهرة (مصر). • المشاركة في المعافل الدولية (مؤتمر بانديونغ عام 1955...) • ابراج القضية الجزائرية في الثورة المباشرة لهيئة الأمم المتحدة عام 1955/9/30. • تأسيس إذاعة صوت الجزائر في القاهرة وتأسيس وكالة الأنباء الجزائرية. خاتمة: نجاح الثورة تحقق بفضل العمل الداخلي والخارجي . (تامل كّن خاتمة وقلبية)</p>
	0.25	<p>(تامل كّن الإجابات الصحيحة الأخرى)</p>

		<p>الجغرافيا: الجزء الأول:</p> <p>(1) شرح ما تحته خط في النص:</p> <p>• معاهدة ماستريخت: صُنيت في مدينة ماستريخت بهولندا 07 فيفري 1992، أعلن فيها عن تحول التسمية من المجموعة الاقتصادية الأوروبية إلى الاتحاد الأوروبي، دخلت حيز التنفيذ في 1 نوفمبر 1993، تقرر فيها الاتفاق على توحيد العملة (الأورو).</p> <p>• حركة رؤوس الأموال: حرية انتقال رؤوس الأموال عن طريق البنوك والاستثمارات والمبادلات التجارية المتنوعة بين الدول دون قيود جمركية أو عراقيل إدارية...</p> <p>• الاندماج: أعلى درجات التكامل فيه تمسح الدول المتكثفة في سياسة اقتصادية واحدة مثل (دول الاتحاد الأوروبي) وتقوم على التعاون والتكامل بهدف تحقيق وحدة سياسية واقتصادية والرفاهية للشعوب...</p> <p>(2) اشرح على المعطيات الإحصائية الواردة في الجدول:</p> <p>• التقسيم: الوثيقة جغرافية اقتصادية عبارة عن جدول احصائي تمثل نسبة مساهمة بعض الدول في إنتاج الغاز الطبيعي في العالم عام 2022 مسدرا The Energy Instutical Review of World Energy 2023.</p> <p>• التحليل: تبين نسب مساهمة الدول الواردة في الجدول في إنتاج الغاز الطبيعي</p> <p>- تتصدر الولايات المتحدة الأمريكية قائمة الدول المنتجة بحوالي ربع الإنتاج العالمي لضخامة الاحتياطيات وضخامة الاستثمارات وتقنيتها التكنولوجية.</p> <p>- تأتي روسيا في المرتبة 2 بأكثر من 15% لضخامة الاحتياطيات وضخامة الاستثمارات وتقنيتها التكنولوجية.</p> <p>- تتوزع الدول المنتجة للغاز الطبيعي الأخرى الواردة في الجدول بين دول متقدمة ودول مساعدة ودول نامية تختلف في قدراتها الإنتاجية لاختلاف التطور التكنولوجي والاختلاف احتياطياتها...</p> <p>• الاستنتاج: تسيطر الدول الواردة في الجدول على 65.9% من الإنتاج العالمي للغاز الطبيعي...</p> <p>الجزء الثاني:</p> <p>مقدمة: عالم الجنوب بين تغلغه الاقتصادي وبين خدمته لاقتصاد عالم الشمال. (تقبل كمن مقدمة وتطبيقية)</p> <p>(1) مظاهر التغلغ الاقتصادي لعالم الجنوب:</p> <p>• تهيمنه للعالم المتقدم في مختلف المجالات...</p> <p>• ضعف النقل القومي والقردي وارتفاع حجم المديونية في معظم بلدانه...</p> <p>• اختلال التوازن بين النمو السكاني والإنتاج الزراعي والصناعي وغياب الاكتفاء الذاتي والأمن الغذائي.</p> <p>• ضعف الاستثمار المحلية في مختلف القطاعات.</p> <p>• اعتماد بلدانه على الصناعة الاستخراجية.</p> <p>• ضعف التكنولوجيا والبحث العلمي...</p> <p>(2) أهمية عالم الجنوب الاقتصادي بالنسبة لعالم الشمال:</p> <p>• مصدر مهم للثروات الطبيعية المتنوعة (طاقة، معدنية...).</p> <p>• مصدر مهم لجلب اليد العاملة منخفضة الأجر...</p> <p>• سوق استهلاكية واسعة.</p> <p>• سوق مهم لاستثمار رؤوس الأموال لوفرة اليد العاملة والمواد الأولية...</p> <p>• مصدر لاستقطاب الأيدي العاملة (هجرة الأيدي) ...</p> <p>• سوق هامة لتغذية شركاته متعددة الجنسيات...</p> <p>(تقبل كمن الإجابات الصحيحة الأخرى)</p> <p>خاتمة: استغلال عالم الشمال لعالم الجنوب كرس مظاهر التغلغ فيه. (تقبل كمن خاتمة وتطبيقية)</p>
06	01	
	01	
	01	
	0.50	
	0.50	
	0.50	
	0.50	
	0.50	
	0.50	
	0.50	
	0.50	
	0.50	
	0.50	
04	0.25	
	6x	
	0.25	
	6x	
	0.50	

خريطة العالم



التوقيع على خريطة العالم دولتين من دول حلف شمال الأطلسي ودولتين من دول حركة عدم الانحياز.

(ملاحظة: تظن عن الدول الأخرى التي تنتمي لحلف شمال الأطلسي والتي تنتمي لحركة عدم الانحياز.

ينجز العمل المطلوب على الخريطة وتعاد مع أوراق الإجابة