



الجمهورية الجزائرية الديمقراطية الشعبية
وزارة التربية الوطنية

الديوان الوطني للامتحانات والمسابقات
امتحان بكالوريا التعليم الثانوي
الشعبة: آداب وفلسفة

دورة: 2022

المدة: 04 سا و 30 د

اختبار في مادة: التاريخ والجغرافيا

على المترشح أن يختار أحد الموضوعين الآتيين:

الموضوع الأول

يحتوي الموضوع على (03) صفحات (من الصفحة 1 من 6 إلى الصفحة 3 من 6)

التاريخ:

الجزء الأول: (06 نقاط)

(1) "...إنَّ انتهاء الأزمة الكورية دون غالب أو مغلوب لم يُفَعِّع الولايات المتحدة الأمريكية ولا الاتحاد السوفياتي بالتوقف عن الحرب الباردة بمختلف مناطق العالم، لا سيما بعد هزيمة كل من فرنسا وبريطانيا في حرب 1956 ضد مصر، إذ أدَّى ذلك إلى ظهور نتائج مهمة على صعيد العلاقات الدولية تمثَّلت باضمحلال دور القوى الدَّولية السابقة وبرز دور الولايات المتحدة والاتحاد السوفياتي، إذ تسابق كلٌّ منهما لمحاولة ملء الفراغ النَّاتج عن هذا الوضع...".
المرجع: العالم المعاصر بين حريين من الحرب.ع.1 إلى الحرب الباردة. من 1914 إلى 1991.

موسى محمد آل طويرش. ص: 160 طبعة 2009

المطلوب: اشرح ما تحته خط في النَّص.

(2) أكمل الجدول التَّالي:

التاريخ	الحدث
	تأسيس حلف وارسو
1962/03/19	
	تحطيم جدار برلين

(3) على خريطة الجزائر التاريخية للمناطق العسكرية المرفقة، وقَّع الحدثين التاريخيين التَّالين في منطقة وقوعهما مع ذكر اسم المنطقة الخاصة بكلِّ حدث: - هجومات 20 أوت 1955، - انعقاد مؤتمر الصومام 1956.

الجزء الثاني: (04 نقاط)

اندلعت الثَّورة الجزائرية عام 1954 وسط ظروف إقليمية ودولية متعددة، ورغم ردود فعل الاستعمار الفرنسي العسكرية والسياسية للقضاء عليها عند اندلاعها إلا أنَّه فشل في مسعاه.

المطلوب: انطلاقا من العبارة واعتمادا على ما درست، اكتب مقالا تاريخيا تبين فيه:

(1) الظروف الدَّولية والإقليمية التي اندلعت فيها الثَّورة الجزائرية.

(2) ردود فعل الاستعمار السياسية والعسكرية للقضاء عليها عند اندلاعها.



خريطة الجزائر التاريخية تمثل المناطق العسكرية (1954)



ينجز العمل المطلوب على الخريطة وتعاد مع أوراق الإجابة



الجغرافيا:

الجزء الأول: (06 نقاط)

(1) " ... الدول المتقدمة تعتمد في تقدمها على الدول الفقيرة المنتجة غالبا للمواد الأولية اللازمة للصناعة... كما أنها في نفس الوقت تُعدّ الأسواق الرئيسية المستهلكة لصناعة الدول المتقدمة... ولذلك تسعى الدول النامية لفرض بعض الرسوم الجمركية على الواردات الأجنبية لحماية منتجاتها المحلية...".

المرجع: جغرافية الصناعة. د/ علي أحمد هارون. صفحة: 66.

دار الفكر العربي. الطبعة الأولى 2002.

المطلوب: اشرح ما تحته خط في النص.

(2) إليك جدولاً يمثل أكبر البلدان المستهلكة للغاز الطبيعي بين سنتي 2020 و 2021. (الوحدة: مليار م³)

البلدان	الو م أ	روسيا	الصين	كندا	اليابان	ألمانيا	بريطانيا
كمية الاستهلاك	832	411.4	330.6	112.6	104.4	86.5	72.5

المصدر: Bp Statistical Review Of World Energy 70 th Edition 2021. P38

المطلوب:

(أ) مثل المعطيات الإحصائية الواردة في الجدول بأعمدة بيانية بمقياس: 1 سم لكل 100 مليار م³.

1 سم لكل عمود.

(ب) علق على الرسم البياني.

الجزء الثاني: (04 نقاط)

يتمتع الاتحاد الأوربي بواجهة بحرية شمالية وغربية هامة ساهمت إلى جانب سياسة التكتل التي انتهجها في احتلاله مكانة اقتصادية عالمية.

المطلوب: انطلاقاً من العبارة واعتماداً على ما درست، اكتب مقالا جغرافيا تبين فيه:

(1) مساهمة الواجهة البحرية الشمالية والغربية في الاقتصاد الأوربي.

(2) أهمية سياسة التكتل في تطور الاتحاد الأوربي اقتصاديا.



الموضوع الثاني

يحتوي الموضوع على (03) صفحات (من الصفحة 4 من 6 إلى الصفحة 6 من 6)

التاريخ:

الجزء الأول: (06 نقاط)

(1) "... لقد كان **لحوادث 8 ماي 1945** أثر كبير على الفكر السياسي **للأحزاب الوطنية الجزائرية** آنذاك. فبعض القادة قد حاولوا الوصول إلى الاستقلال عن طريق المرونة وسياسة الخطوة خطوة، في حين ارتأى آخرون أسلوبا يتميز بالتعاون مع السلطات الفرنسية، أما الطائفة الثالثة فقد رفضت هذه الطرق... وفضلت انتهاج وسيلة ثورية تعتمد على **الكفاح المسلح**..."

المرجع: القانون الدولي العام وحرب التحرير الجزائرية. محمد بوسلطان وحمدان بكاي. ص:124. المؤسسة الوطنية للكتاب 1986.

المطلوب: اشرح ما تحته خط في النص.

(2) أكمل الجدول التالي:

التاريخ	الحدث
	انعقاد مؤتمر باندونغ
	إعلان مبدأ جودانوف
1961/10/17	

(3) عرّف بالشخصيات التالية:

-العربي بن مهدي -جورج بوش الأب -هوارى بومدين.

الجزء الثاني: (04 نقاط)

ظنّ العالم أنه بانتهاء المواجهة العسكرية الثانية قد تخلّص من شبح الحرب، لكنّه سرعان ما وجد نفسه أمام صراع جديد (الحرب الباردة) دار بين قوتين مختلفتين إيديولوجيا (الولايات المتحدة الأمريكية والاتحاد السوفياتي) كانت له انعكاسات مست كلّ العالم.

المطلوب: انطلاقا من العبارة واعتمادا على ما درست، اكتب مقالا تاريخيا تبين فيه:

(1) أسباب الصراع بين القوتين.

(2) انعكاساته على العالم الثالث.



الجغرافيا:

الجزء الأول: (06 نقاط)

(1) "... فمنذ زوال النظام الاشتراكي مالت الكفة لصالح الرأسماليين والمُمثّلين للدول العظمى المسيطرة على النظام الاقتصادي عبر المنظّمات الدولية والمُتمثّلة في الأساس في صندوق النقد الدولي والبنك الدولي والمنظمة العالمية للتجارة... فهذه الهيئات الدولية أسّست لخدمة مصالح الدول الصناعية الكبرى... من خلال الدعوة لتحرير التجارة الخارجية. وأمام هذا الوضع وجدت الدول النامية نفسها أمام تحدٍّ جديّ، حيث جُلّ الدول النامية تعتمد على الميزان التجاري في تحقيق التوازن الكلي لميزان المدفوعات...".

المرجع: أثر تحرير التجارة الخارجية على الميزان التجاري في الدول النامية.
مجلة البديل الاقتصادي. صفحة: 149 العدد الثالث.

المطلوب: اشرح ما تحته خطّ في النصّ.

(2) إليك جدولاً يمثّل أهم الشركاء التجاريين للولايات المتحدة الأمريكية عام 2020.

البلدان	كندا	المكسيك	الصين
الصادرات %	17.8 %	14.9 %	8.7 %
الواردات %	11.5 %	13.7 %	19.0 %

المصدر: Edition 2021. n° 45. serieV p 97. Livres de poche des statistiques mondiales

المطلوب: علّق على المعطيات الإحصائية الواردة في الجدول.

(3) على خريطة العالم المرفقة، وقّع دولتين مصدريتين للبترول ودولتين مستورديتين له.

الجزء الثاني: (04 نقاط)

القمح مادة استراتيجية تتحكّم في أسعاره عوامل عديدة، ولأهميته البالغة في غذاء الشعوب، ولما له من انعكاسات سلبية في نقص إنتاجه تسعى بلدان عالم الجنوب جاهدة لتوفيره.

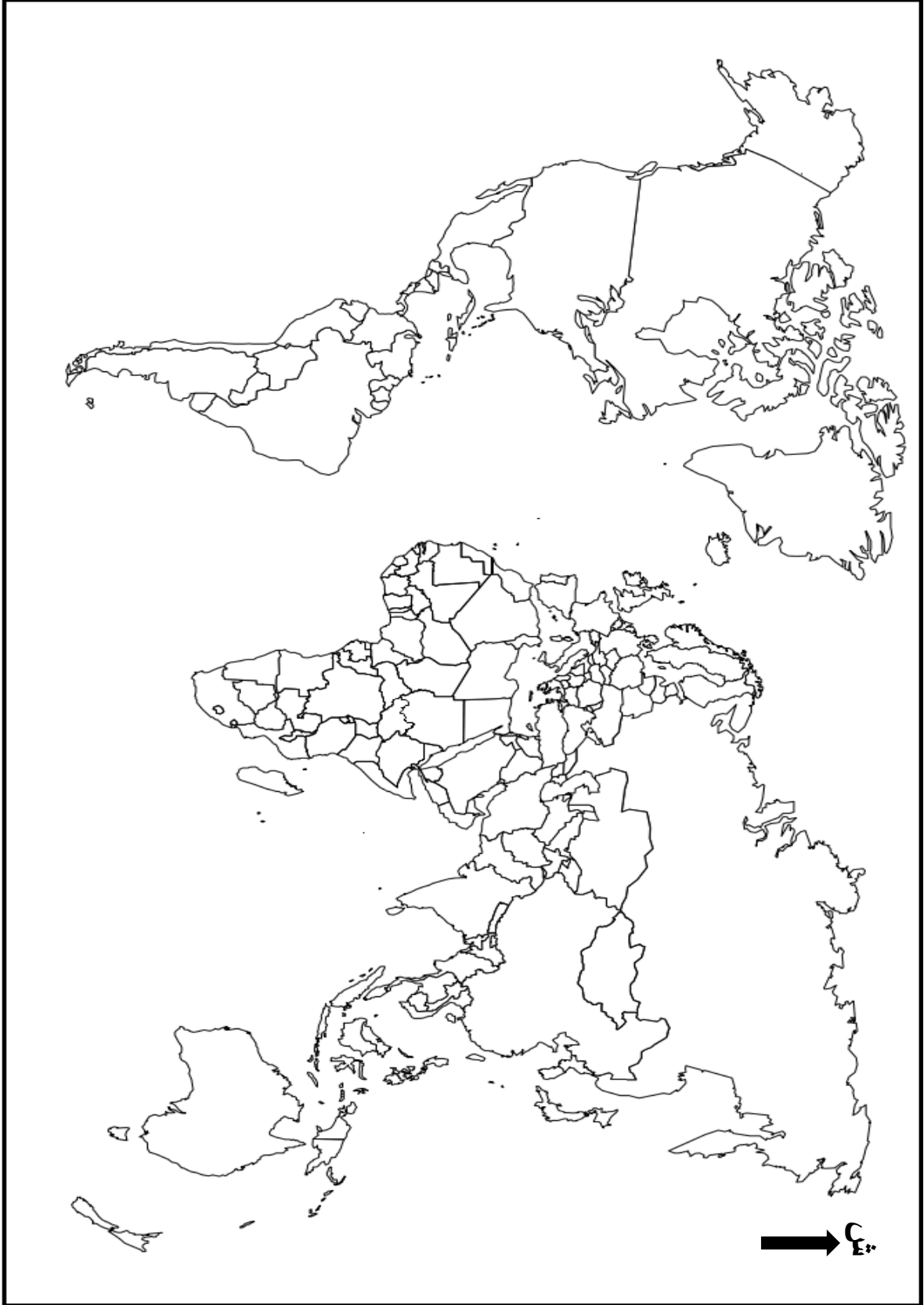
المطلوب: انطلاقاً من العبارة واعتماداً على ما درست، اكتب مقالا جغرافيا تبين فيه:

(1) العوامل المتحكّمة في أسعار القمح.

(2) الانعكاسات السلبية في نقص إنتاجه على دول الجنوب.



خريطة العالم



ينجز العمل المطلوب على الخريطة وتعاد مع أوراق الإجابة

العلامة		عناصر الإجابة: (الموضوع الأول)								
مجموع	مجزأة									
06		<p>*التاريخ: *الجزء الأول: (1) شرح ما تحته خط في النص:</p> <p>❖ الأزمة الكورية: حرب أهلية وأزمة من أزمات الحرب الباردة (1953/1950) انتهت دون غالب أو مغلوب، مما أدى إلى تقسيم كوريا إلى دولتين عند خط 38° شمالا، كوريا الجنوبية الرأسمالية وكوريا الشمالية الشيوعية.</p> <p>❖ العلاقات الدولية: مختلف المبادئ والضوابط والروابط السياسية والعسكرية والاقتصادية... التي يتم بموجبها تنظيم العلاقات بين الدول وتنظيمها المعاهدات والاتفاقيات والمنظمات الدولية...</p> <p>❖ ملء الفراغ: سياسة تبنتها الولايات المتحدة الأمريكية في عهد ايزنهاور خلال الحرب الباردة لمنع المد الشيوعي وتراجع الاستعمار التقليدي (فرنسا وبريطانيا) في مستعمراتها في الشرق الأوسط فيتنام.... أو يقصد به تعويض التواجد العسكري (للاستعمار التقليدي) في العديد من مناطق العالم أثناء الحرب الباردة بتواجد امريكي أو سوفياتي .</p>								
		<p>(2) إكمال الجدول التالي:</p> <table border="1"> <thead> <tr> <th>التاريخ</th> <th>الحدث</th> </tr> </thead> <tbody> <tr> <td>1955/05/14</td> <td>تأسيس حلف وارسو</td> </tr> <tr> <td>1962/03/19</td> <td>سريان وقف إطلاق النار (عيد النص)</td> </tr> <tr> <td>1989/11/09</td> <td>تحطيم جدار برلين</td> </tr> </tbody> </table>	التاريخ	الحدث	1955/05/14	تأسيس حلف وارسو	1962/03/19	سريان وقف إطلاق النار (عيد النص)	1989/11/09	تحطيم جدار برلين
	التاريخ	الحدث								
	1955/05/14	تأسيس حلف وارسو								
	1962/03/19	سريان وقف إطلاق النار (عيد النص)								
	1989/11/09	تحطيم جدار برلين								
		<p>(3) التوقيع على خريطة الجزائر التاريخية الحدثين - العنوان: 0.25 - المفتاح: 0.25 . 02 - التوقيع والإنجاز: توقيع الحدثين: 0.50 × 2 - ذكر اسم المنطقتين: 0.25 × 2</p>								
		<p>*الجزء الثاني: * مقدمة: الثورة الجزائرية بين ظروف اندلاعها ورد فعل الاستعمار الفرنسي. (تقبل كل مقدمة وظيفية)</p> <p>(1) الظروف الدولية والإقليمية التي اندلعت فيها الثورة الجزائرية:</p> <p>أ) الدولية:</p> <p>❖ انتشار موجة التحرر في العالم....</p> <p>❖ انهزام فرنسا في معركة ديان بيان فو في الفيتنام عام 1954...</p> <p>❖ ظهور هيئة الأمم المتحدة ودعوتها لحق الشعوب في تقرير مصيرها وانفراج العلاقات الدولية...</p>								
		<p>ب) الإقليمية:</p> <p>❖ انتصار الثورة المصرية عام 1952 ودعمها لثورة الجزائر...</p> <p>❖ اندلاع الثورة في تونس والمغرب واستقلال بعض الدول مثل سوريا ولبنان عام 1946...</p> <p>❖ ظهور جامعة الدول العربية ودعم حركات التحرر في الوطن العربي...</p>								
		<p>(2) ردود فعل الاستعمار الفرنسي السياسية والعسكرية للقضاء عليها عند اندلاعها:</p> <p>أ- السياسية:</p> <p>❖ حل حركة الانتصار للحريات الديمقراطية...</p> <p>❖ قيام بحملة اعتقالات واسعة والتعقيم الإعلامي</p> <p>❖ الدعاية المغرضة واعتبار الثوار متمردين وعملاء من الخارج... (تقبل كل الإجابات الصحيحة الأخرى)</p>								

	<p>0.25 3 ×</p>	<p>ب-العسكرية:</p> <ul style="list-style-type: none"> ❖ محاصرة منطقة الأوراس عسكريا... ❖ توزيع الأسلحة على المعمرين... ❖ رفع عدد الجيش الفرنسي... <p>*خاتمة: رغم إجراءات الاستعمار الفرنسي إلا أنّ الثورة الجزائرية نجحت في انطلاقها. (تقبل كلّ خاتمة وظيفية)</p>
<p>06</p>	<p>0.50</p>	<p>*الجغرافيا:</p> <p>*الجزء الأول:</p> <p>(1) شرح ما تحته خط في النص:</p> <ul style="list-style-type: none"> ❖ الدول المتقدمة: مجموعة الدول التي تعرف تطورا اقتصاديا كبيرا تتحكم في الاقتصاد العالمي إنتاجا وتسويقا، وفي رؤوس الاموال، يقع معظمها في شمال الكرة الأرضية مثل (الولايات المتحدة الأمريكية، دول الاتحاد الأوروبي، دول آسيا...). ❖ المواد الأولية: مواد خام معدنية، طاقوية، ونباتية تستخدم في النشاط الصناعي ولا يمكن استهلاكها إلا بعد تحويلها إلى مواد مصنعة.... <p>الأسواق: الفضاءات التي يتم فيها تبادل السلع والخدمات بين الدول في شكل صادرات وواردات أو الدول المتخلفة التي يتم فيها تصريف المواد المصنعة مقابل تصديرها للمواد الأولية</p>
	<p>0.50</p>	<p>(2) أ) تمثل المعطيات الإحصائية الواردة في الجدول والتي تمثل أكبر البلدان المستهلكة للغاز الطبيعي بين عامي 2020 و 2021 بأعمدة بيانية.</p> <p>❖ الانجاز: 01 ن - العنوان: 0.50 ن - المقياس: 0.25 ن - المفتاح: 0.25 ن</p> <p>ب) التعليق على الرسم البياني (أعمدة بيانية تمثل أكبر البلدان المستهلكة للغاز ط بين عامي 2020 و 2021.</p> <ul style="list-style-type: none"> ❖ تباين كمية استهلاك الغاز الطبيعي بين الدول الواردة في الجدول. ❖ هيمنة الدول المتقدمة على استهلاك الغاز الطبيعي (5 دول من مجموعة G7+روسيا). ❖ ضخامة كمية استهلاك الولايات المتحدة الأمريكية (أكثر من باقي دول G7 مجتمعة). ❖ تنامي قوة الصين الصناعية وضخامة استهلاكها للغاز الطبيعي.
<p>04</p>	<p>0.50 0.25 6 ×</p>	<p>*الجزء الثاني:</p> <p>*مقدمة: دور الواجهة البحرية وسياسة التكتل في تحقيق المكانة الاقتصادية للاتحاد الأوروبي.</p> <p>(تقبل كلّ مقدمة وظيفية)</p> <p>(1) مساهمة الواجهة البحرية الشمالية والغربية في الاقتصاد الأوروبي:</p> <ul style="list-style-type: none"> ❖ ربطت بين بعض بلدان الاتحاد الأوروبي وبعض مدنه عبر نهر الراين. ❖ جعلت الاتحاد الأوروبي منفتحا على العالم الخارجي (كثرة الموانئ...). ❖ وفرت مواد أولية طاقوية (بحر الشمال...). ❖ وفرت مجالا واسعا للصيد... ❖ أصبحت منطقة جذب سياحي كبير... ❖ ربطت بين بلدانه وبعض مدنه عبر نهر الراين إلى ميناء روتردام... <p>(2) أهمية سياسة التكتل في تطور الاتحاد الأوروبي اقتصاديا:</p> <ul style="list-style-type: none"> ❖ وضعت سياسة مشتركة في جميع المجالات حققت بها التكامل الاقتصادي... ❖ سهلت استغلال إمكانياته المشتركة المتعددة...

<p>6 ×</p> <p>0.50</p>	<p>❖ وُحِدَتْ جهود دوله في كل القطاعات وأزالت كل العراقيل...</p> <p>❖ حولت الاتحاد الأوربي إلى فضاء منفتح على العالم الخارجي...</p> <p>❖ قللت من الفروقات الاقتصادية والاجتماعية بين بلدانه...</p> <p>❖ جعلت منه سوقا استهلاكية واسعة (ثقل ديمغرافي...).</p> <p>*خاتمة: إلى جانب الواجهة البحرية كان للتكتل دور في التطور الاقتصادي للاتحاد. (تقبل كل خاتمة وظيفية)</p>
------------------------	---

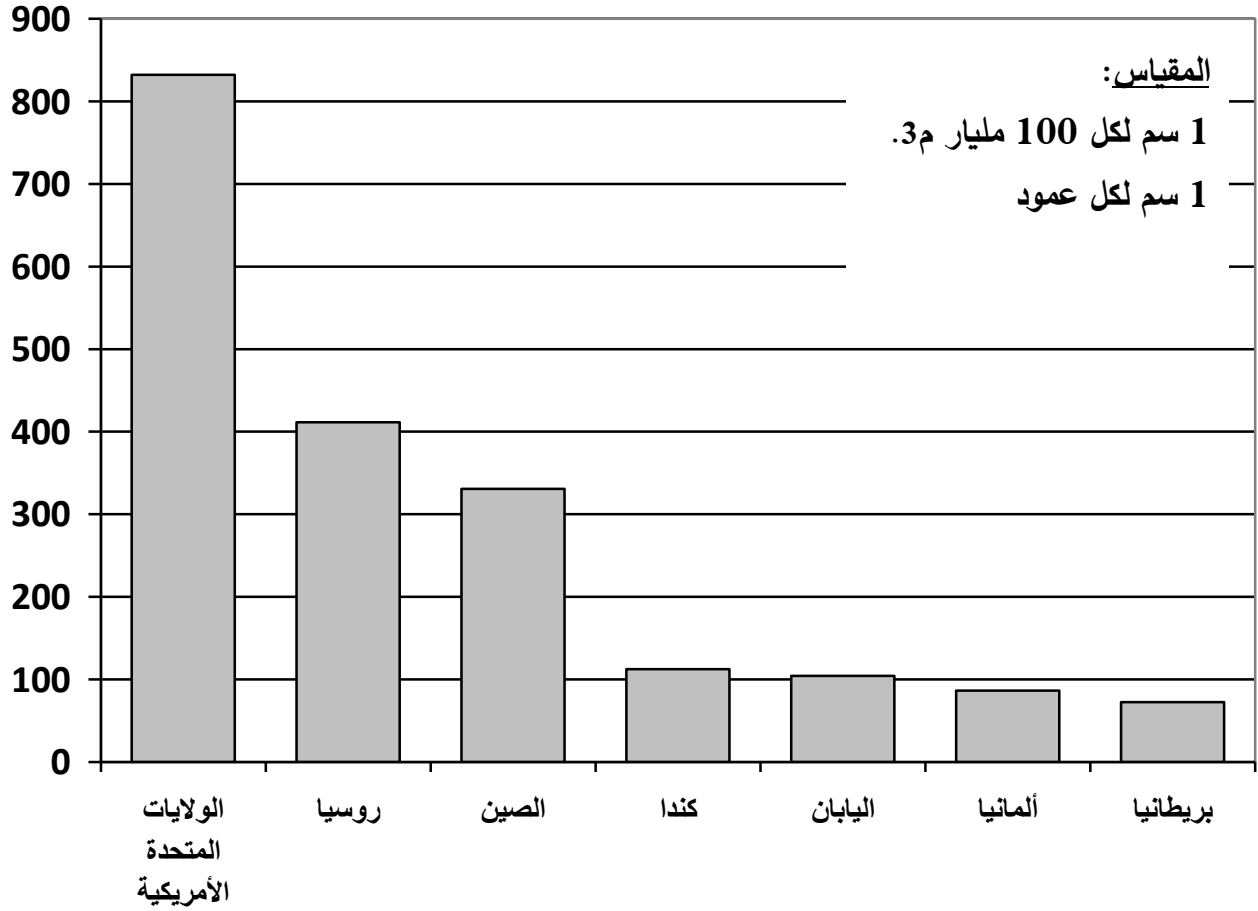
العلامة		عناصر الإجابة: (الموضوع الثاني)								
مجموع	مجزأة									
06		<p>*التاريخ:</p> <p>*الجزء الأول:</p> <p>(1) شرح ما تحته خط في النص:</p> <p>❖ حوادث 8 ماي 1945: مجازر ارتكبتها الاستعمار الفرنسي في حق الشعب الجزائري بعد خروجهم في مظاهرات في العديد من المدن خاصة قالمة، سطيف، خراطة... يحتفلون بانتصار الحلفاء في الحرب العالمية الثانية ومطالبين فرنسا الوفاء بوعودها، وهي جريمة ضد الانسانية راح ضحيتها أكثر من 45 ألف شهيد جزائري...</p> <p>❖ الأحزاب الوطنية الجزائرية: مختلف التشكيلات السياسية التي كانت تنشط في الجزائر بعد الحرب العالمية الثانية مثل الاتحاد الديمقراطي للبيان الجزائري، حركة الانتصار للحريات الديمقراطية...</p> <p>❖ الكفاح المسلح: أسلوب مقاومة (كفاح) يعتمد على السلاح (القوة)، تبنته الجزائر في ثورتها التحريرية (1962/1954) ضد الاستعمار الفرنسي بعد فشل النضال السياسي وذلك لتحقيق الاستقلال واسترجاع السيادة الوطنية...</p> <p>(2) إكمال الجدول التالي:</p> <table border="1" style="margin-left: auto; margin-right: auto;"> <thead> <tr> <th>تاريخه</th> <th>الحدث</th> </tr> </thead> <tbody> <tr> <td>1955/04/24-18</td> <td>انعقاد مؤتمر باندونغ</td> </tr> <tr> <td>1947/10/6-5</td> <td>إعلان مبدأ جدانوف</td> </tr> <tr> <td>1961/10/17</td> <td>مظاهرات المهاجرين الجزائريين في فرنسا</td> </tr> </tbody> </table> <p>(3) التعريف بالشخصيات التالية:</p> <p>❖ العربي بن مهيدي: (1957/1923) مناضل وثوري جزائري، كان عضو في حركة الانتصار للحريات الديمقراطية، وفي المنظمة الخاصة، ثم عضو في اللجنة الثورية للوحدة والعمل، ومجموعة 22، ومجموعة 06، أحد مفجري الثورة التحريرية، قائد المنطقة الخامسة وهران، ترأس مؤتمر الصومام 1956، عضو لجنة التنسيق والتنفيذ، استشهد عام 1957...</p> <p>❖ جورج بوش الأب: رئيس الولايات المتحدة الأمريكية (1993/1989)، شهدت فترة حكمه نهاية الحرب الباردة وتفكك الاتحاد السوفياتي والكتلة الشرقية، حضر مؤتمر مالطا 1989 ومؤتمر باريس 1990، قاد العدوان على العراق عام 1991، صاحب فكرة النظام الدولي الجديد...</p> <p>❖ هوارى بومدين: زعيم عسكري وسياسي جزائري، من قادة الثورة التحريرية، عضو المجلس الوطني للثورة عام 1958، قائد أركان جيش التحرير الوطني عام 1960، وزيرا للدفاع من (1965/1962)، ثم رئيسا لمجلس الثورة (1976/1965) ورئيسا للجمهورية (1978/1976)، دعم حركات التحرر في العالم، أحد أقطاب حركة عدم الانحياز، نادى بنظام دولي اقتصادي جديد 1974...</p> <p>*الجزء الثاني:</p> <p>❖ مقدمة: صراع القوتين وانعكاساته على العالم الثالث. (تقبل كل مقدمة وظيفية)</p> <p>(1) أسباب الصراع بين القوتين:</p> <p>❖ زوال مبررات التحالف الذي كان قائما بينهما خلال الحرب العالمية 2.</p> <p>(تقبل كل الإجابات الصحيحة الأخرى)</p>	تاريخه	الحدث	1955/04/24-18	انعقاد مؤتمر باندونغ	1947/10/6-5	إعلان مبدأ جدانوف	1961/10/17	مظاهرات المهاجرين الجزائريين في فرنسا
	تاريخه	الحدث								
	1955/04/24-18	انعقاد مؤتمر باندونغ								
	1947/10/6-5	إعلان مبدأ جدانوف								
	1961/10/17	مظاهرات المهاجرين الجزائريين في فرنسا								
	0.75									
	0.50									
	0.75									
	0.75									
	0.75									
0.75										
0.75										
0.75										
0.75										
0.50										

	<p>0.25 6 ×</p>	<p>❖ الاختلاف الايديولوجي بين القوتين (الاتحاد السوفياتي الشيوعي والولايات المتحدة الامريكية الرأسمالي). ❖ بروزهما كقوتين جديدتين بعد الحرب العالمية 2 والبحث عن مناطق النفوذ ❖ تراجع مكانة القوى التقليدية (فرنسا وبريطانيا)... ❖ سيطرة الاتحاد السوفياتي على أوروبا الشرقية وانتشار الأفكار الشيوعية داخل أوروبا وخارجها. ❖ وجود رؤساء متشددين (ستالين في الاتحاد السوفياتي وترومان في الولايات المتحدة الأمريكية). (2) انعكاساته على العالم الثالث:</p>
<p>04</p>	<p>0.25 6 ×</p>	<p>❖ دعم الاتحاد السوفياتي للعديد من حركات التحرر في العالم الثالث لأضعاف الكتلة الغربية ... ❖ أصبحت دول العالم الثالث مسرحا للصراع (أزمات دولية مثال :لقناة السويس ، أزمة كوريا ...). ❖ تعرض العديد من دول العالم 3 للتدخل في شؤونها الداخلية(تغيير الأنظمة، الاغتيالات...). ❖ انتهاج الو م ا سياسة ملئ الفراغ في بعض الدول (الفيتنام...). ❖ احتضان بعضها لمقرات الاحلاف العسكرية (مثال وحلف جنوب شرق اسيا 1954 و حلف بغداد 1955) ❖ ظهور حركة عدم الانحياز . *خاتمة: رغم سلبيات الصراع إلا أنه مكن كتلة العالم الثالث من رفضه وتبني سياسة الحياد الايجابي... (تقبل كل خاتمة وظيفية)</p>
	<p>0.50</p>	<p>*الجغرافيا: *الجزء الأول: (1) شرح ما تحته خط في النص: ❖ النظام الاشتراكي: نظام سياسي واقتصادي واجتماعي يقوم على الملكية العامة لوسائل الإنتاج ويسعى لتحقيق المنفعة العامة، تبناه الاتحاد السوفياتي عام 1917 (نجاح الثورة البلشفية).... ❖ صندوق النقد الدولي: مؤسسة مالية عالمية تأسست عام 1945، بموجب مؤتمر بروتون وودز الذي انعقد في عام 1944، مقره واشنطن الولايات المتحدة الأمريكية، يهدف إلى تسيير النقد الدولي، وتقديم الاستشارة والدعم للدول التي تواجه مشاكل مالية واقتصادية.... ❖ الميزان التجاري: الفرق بين قيمة الصادرات وقيمة الواردات لدولة ما خلال سنة ويكون في حالة فائض أو عاجز أو توازن ... (2) التعليق على المعطيات الإحصائية الواردة في الجدول والتي تمثل أهم الشركاء التجاريين للو.م. الأمريكية عام 2020.</p>
<p>06</p>	<p>0.50 4 ×</p>	<p>❖ تباين نسب الصادرات ونسب الواردات بين شركاء الولايات المتحدة الأمريكية. ❖ ارتفاع نسب صادرات الولايات المتحدة الأمريكية لكل من كندا والمكسيك. ❖ ارتفاع نسب واردات الولايات المتحدة الأمريكية مع الصين. ❖ ارتفاع نسب المبادلات التجارية الامريكية مع الدول الثلاثة مجتمعة: الواردات 42.2 %، الصادرات 41.4 %. (3) التوقيع على خريطة العالم المرفقة دولتين مصدرتين للبترول ودولتين مستوردتين له. - العنوان: 0.50 ن. - المفتاح: 0.50 ن. - الإنجاز أو التوقيع: * دولتان مصدرتان:(الجزائر، المملكة العربية السعودية....) (0.25 × 2 = 05.0 ن. - دولتان مستوردتان: (الو.م.أ، ألمانيا....) 0.25 × 2 = 0.50 ن. *ملاحظة: (تقبل كل الدول المصدرة والمستوردة الأخرى). (تقبل كل الإجابات الصحيحة الأخرى)</p>

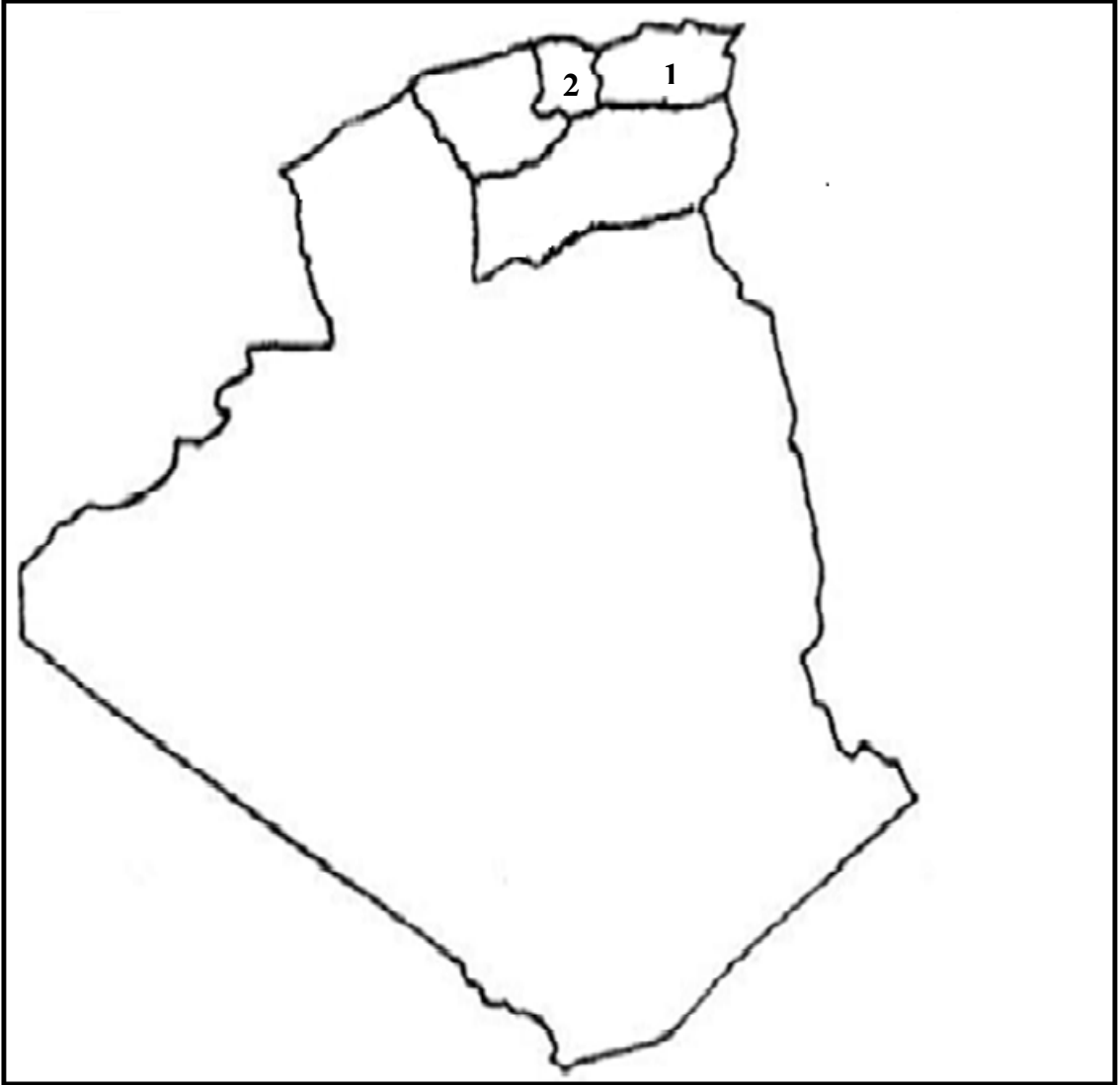
04	0.50	<p>*الجزء الثاني:</p> <p>*مقدمة: القمح بين العوامل المتحكمة في أسعاره وانعكاسات نقص إنتاجه على دول الجنوب. (تقبل كل مقدمة وظيفية)</p> <p>(1) العوامل المتحكمة في أسعار القمح:</p> <ul style="list-style-type: none"> ❖ خضوعه لقانون السوق (العرض والطلب)... ❖ نوعية القمح وجودته (القمح اللين والصلب...). ❖ دور الشركات الاحتكارية (كارتل القمح) في تحديد أسعاره... ❖ الأزمات السياسية التي تحدث في مناطق إنتاجه (مثلا: الحرب بين روسيا وأوكرانيا) ❖ تحكم الظروف الطبيعية والمناخية في إنتاجه... ❖ ضعف الاستثمارات في إنتاجه في دول الجنوب .
	0.25	
	6 ×	
	0.50	<p>(2) الانعكاسات السلبية في نقص إنتاجه على دول الجنوب:</p> <ul style="list-style-type: none"> ❖ ارتفاع فاتورة الاستيراد (إنهاك الخزينة) وارتفاع المديونية لبعض الدول ... ❖ حدوث اضطرابات اجتماعية (غياب الاستقرار...). ❖ تعرض الدول المستوردة للضغوطات والتدخلات (السلح الأخضر)... ❖ انتشار سوء التغذية والأمراض والمجاعات...
	0.25	
	0.25	
	0.50	
	0.50	
		<p>*خاتمة: يبقى القمح الغذاء الأساسي والاستراتيجي يستوجب توفيره... (تقبل كل خاتمة وظيفية)</p> <p>(تقبل كل الإجابات الصحيحة الأخرى)</p>

العنوان: أعمدة بيانية تمثل أكبر البلدان المستهلكة للغاز الطبيعي في العالم بين سنتي 2020 و 2021.

مليار م3



العنوان: توقيع الحدثين التاريخيين على خريطة الجزائر التاريخية.



المفتاح: * 1) هجومات 20 أوت 1955 (المنطقة الثانية الشمال القسنطيني).
* 2) انعقاد مؤتمر الصومام 20 أوت 1956 (المنطقة الثالثة القبائل).

العنوان: التوقيع على خريطة العالم المرفقة دولتين مصدرتين للبترول ودولتين مستوردتين له

المفتاح:

- ❖ دولتان مصدرتان للبترول:
 - أ) الجزائر.
 - ب) المملكة العربية السعودية.
- ❖ دولتان مستوردتان للبترول:
 - 1) الولايات المتحدة الأمريكية.
 - 2) ألمانيا.