

موضوع التاريخ و الجغرافيا شعبة آداب و فلسفة بكالوريا 2011

الجمهورية الجزائرية الديمقراطية الشعبية

الديوان الوطني للامتحانات والمسابقات

دورة: جوان 2011

وزارة التربية الوطنية

امتحان بكالوريا التعليم الثانوي

الشعبة: آداب وفلسفة

المدة: 04 ساعات ونصف

اختبار في مادة: التاريخ والجغرافيا

على المترشح أن يختار أحد الموضوعين التاليين:

الموضوع الأول

التاريخ:

الجزء الأول: (06 نقاط)

« ... إن اللجنة الثورية ليست بمنظمة ولا هي بحزب، و لا فريق على شاكلة المركزيين في ذلك الوقت، لقد كانت إسما على مسمى "اللجنة الثورية للوحدة والعمل" كان هدفها إطلاق حركة رأي عام قادر على تحقيق تلاحم القاعدة النضالية للحيلولة دون وقوعها في التحالف وراء هذا أو ذاك من الأطراف المتصارعة ... »

المرجع: محمد بوضياف / الجزائر إلى أين. ص 76

المطلوب:

- 1- عرّف المصطلحات التي تحتها خط.
- 2- عرّف بالشخصيات التالية: ديدوش مراد - هوشي منه - جورج مارشال.
- 3- أربط كل حدث بتاريخه:

التاريخ	الحدث
1949-04-04	هجوم الشمال القسنطيني
1955-08-20	مؤتمر باندونغ
1955-04-(24، 18)	تأسيس الحلف الأطلسي

- 4- على الخريطة المرفقة (شكل 01) وقّع الدول التي تأسست بها الأحلاف العسكرية التالية:
- جنوب شرق آسيا - بغداد - وارسو.

الجزء الثاني: (04 نقاط)

« ... إن الولايات المتحدة الأمريكية وحدها من بين دول العالم، تملك من المستوى الأخلاقي ومن الإمكانيات ما يكفي لخلق نظام دولي جديد ... إنه نظام دولي سلمي، يرفض ابتلاع الدول الكبرى لجاراتها الصغرى ... »

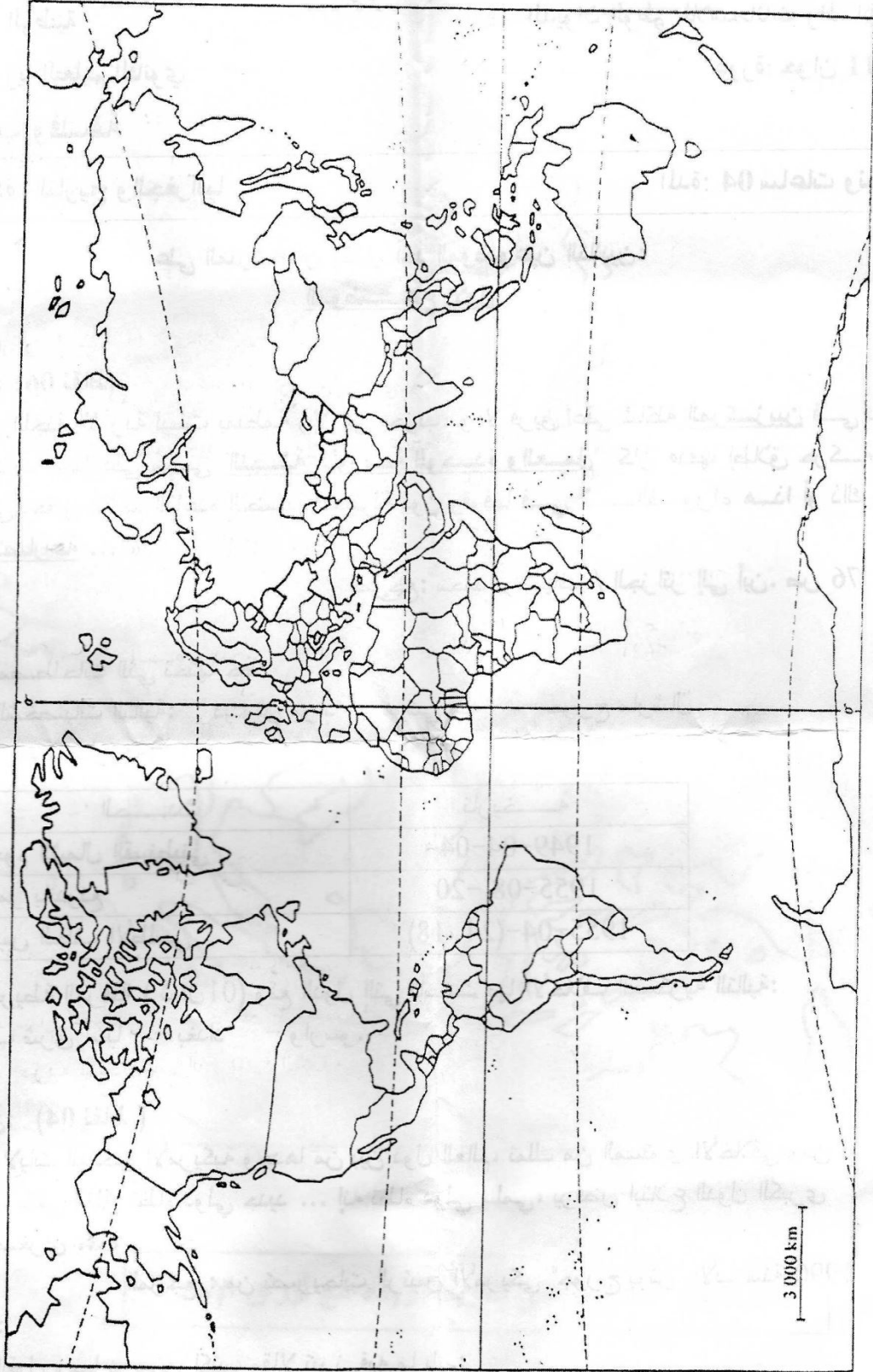
المرجع: من تصريحات الرئيس الأمريكي "جورج بوش" الأب سنة 1990

المطلوب:

انطلاقا من القول ومما درست، اكتب مقالا تبرز فيه ما يلي:

- 1- أهداف النظام الدولي الجديد.
- 2- مؤسساته الفاعلة.

خريطة العالم (شكل 01)



ينجز العمل على الخريطة وتعاد مع أوراق الإجابة

الجغرافيا :

الجزء الأول: (06 نقاط)

«... آسيا متعددة الأقطاب ... القطب الاقتصادي الأول هو اليابان الذي يشكل ثاني قوة اقتصادية في العالم

يعتمد في نجاحه على قوة الشركات المتعددة الجنسيات ... ويتمثل القطب الثاني في التنينات التي استفادت من

التحول التكنولوجي الياباني، وهي بذلك دول ذات دخل وطني مرتفع، وقوة تجارية ومراكز مالية هامة ...»

المرجع: الكتاب المدرسي/ جغرافيا للسنة الثالثة ثانوي/ ص 108

المطلوب :

1- عرف المصطلحات التي تحتها خط.

2- على الخريطة المرفقة (شكل 02) وقع دول التنينات.

3- إليك جدولاً يمثل الخمس دول الأولى المستهلكة للبترول لسنة 2005

الدولة	الولايات المتحدة	الصين	اليابان	ألمانيا	الهند
الكمية / مليون ط	498	245	242	127	97

المرجع : صور اقتصادية للعالم 2005

- ممل الجدول بأعمدة بيانية. بمقياس رسم : اسم ← 50 مليون طن

اسم ← دولة

الجزء الثاني: (04 نقاط)

تعتبر السهول الوسطى الأمريكية خزاناً للحبوب، وموطناً لتموين السكان بالألبان واللحوم.

المطلوب :

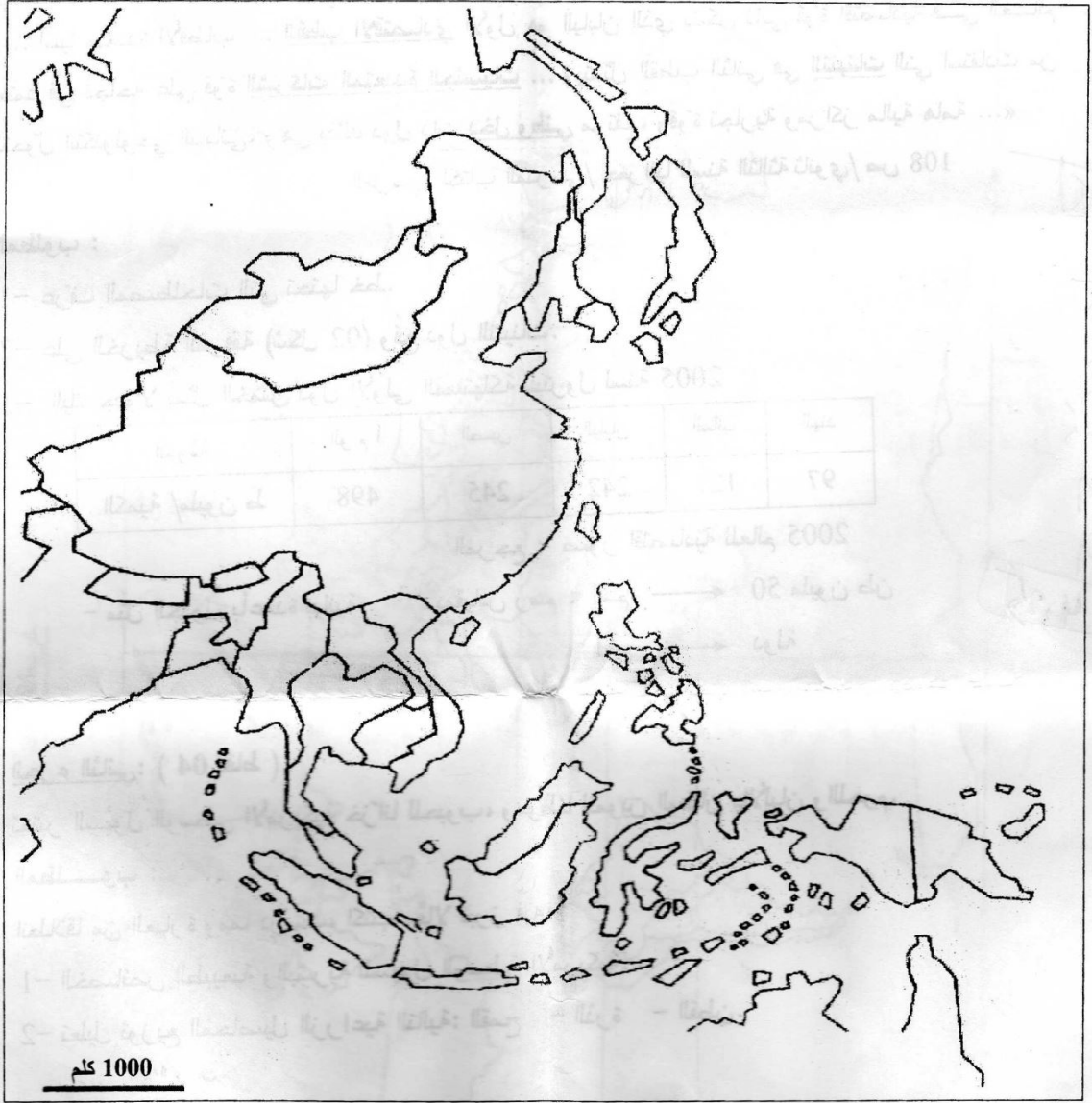
انطلاقاً من العبارة ومما درست، اكتب مقالا تبرز فيه:

1- الخصائص الطبيعية والبشرية للسهول الوسطى الأمريكية.

2- تحليل توزيع المحاصيل الزراعية التالية: القمح - الذرة - القطن.

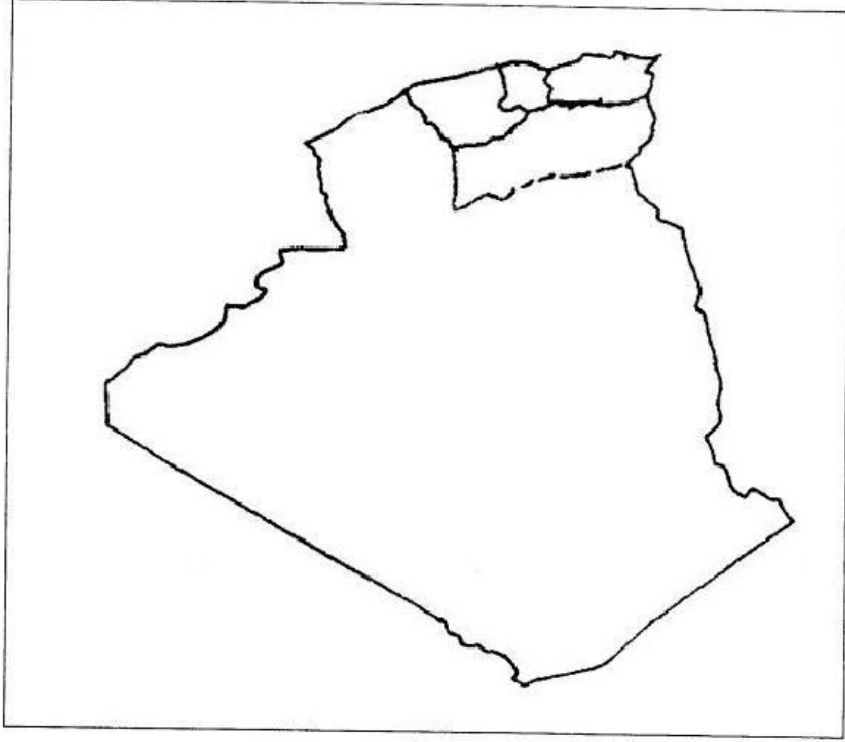
شرق وجنوب شرق آسيا

(الشكل 02)



ينجز العمل المطلوب على الخريطة ويعاد مع أوراق الإجابة

خريطة المناطق العسكرية في الجزائر (شكل 03)



ينجز العمل المطلوب على الخريطة ويعاد مع أوراق الإجابة

الجغرافيا

الجزء الأول: (06 نقاط)

«... إن الإمضاء على اتفاق الشراكة مع الاتحاد الأوروبي وانضمام الجزائر لمنظمة التجارة العالمية سيؤدي حتما إلى انفتاح كبير لحدودنا الاقتصادية، مما يفرض علينا: - تأهيل أداتنا الإنتاجية - حيازة مواقع في الأسواق العالمية - تشجيع الاستثمار وتوسيع رقعته في البلاد...»
المرجع : الكتاب المدرسي للسنة الثالثة ثانوي جغرافيا / ص 169

المطلوب:

- 1- عرّف المصطلحات التي تحتمها خط.
- 2- على خريطة العالم المرفقة (شكل 04) وقّع الدول التي تقع فيها المدن الاقتصادية التالية: سيدني - ساو باولو - دبي - باريس - نيويورك - فرتكفورت - هونغ كونغ.
- 3- إليك جدولا يمثل تطور قيمة المبادلات التجارية العالمية، بمليار دولار

السنة	1975	1980	1985	1990	1995	2000
القيمة	950	1897	1819	3430	5200	7621

المرجع : الفضاء العالمي

- ممثّل أرقام الجدول بمنحنى بياني بمقياس رسم: 1 سم ← 1000 مليار دولار
1 سم ← 5 سنوات

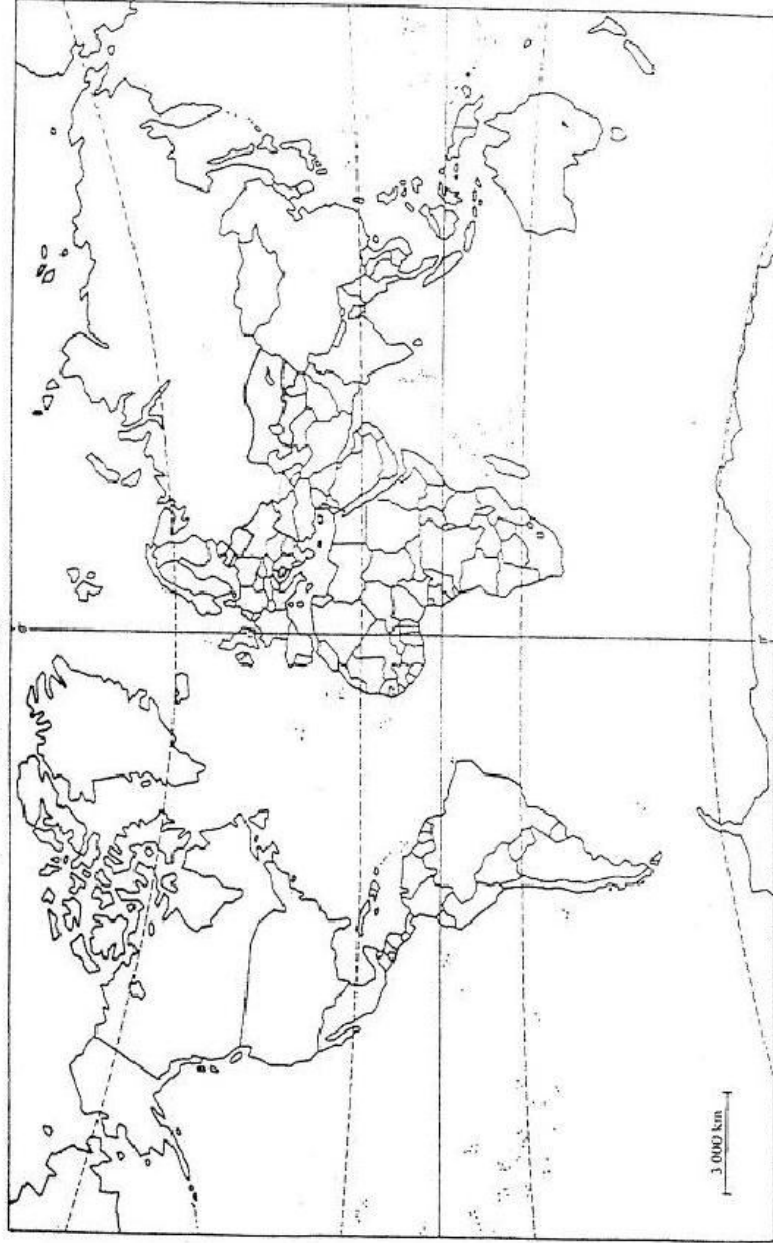
الجزء الثاني: (04 نقاط)

يعرف عالم اليوم تزايدا هائلا لمبادلات السلع والخدمات، وتنقلا واسعا لحركة رؤوس الأموال والإعلام.

المطلوب: انطلاقا من الفقرة، واعتمادا على ما درست، اكتب مقالا جغرافيا تبرز فيه:

- 1- واقع حركة رؤوس الأموال في العالم.
- 2- دور التكنولوجيا والإعلام في المبادلات.

خريطة العالم (شكل 04)



ينجز العمل المطلوب على الخريطة وتعاد مع أوراق الإجابة

الإجابة النموذجية و تقديم التلميذ
 امتحان شهادة البكالوريا دورة : 2011
 المادة : تاريخ و جغرافيا الشعبة: آداب وفلسفة

العلامة		عناصر الإجابة (الموضوع الأول)	محاور الموضوع	
المجموع	مجزأة			
06	0.5	التاريخ 1- تعريف المصطلحات التي تحتها خط : - المركزيين :- مجموعة وطنية ثورية برزت مع ظهور أزمة حركة الانتصار للحريات الديمقراطية ويمثلون أعضاء اللجنة المركزية في الحزب - اللجنة الثورية للوحدة و العمل : (crua) هي الجماعة التي أخذت على عاتقها التحضير و الإعداد للعمل المسلح ، والتي تحولت لجبهة التحرير الوطني سنة 1954. - الأطراف المتصارعة: هي أقطاب الصراع التي ظهرت مع بداية أزمة حركة الانتصار للحريات الديمقراطية و المتمثلة في جناحي المصاليين و المركزيين . 2- التعريف بالشخصيات :	الجزء الأول :	
	0.5	- ديدوش مراد : أحد مفجري الثورة التحريرية ، شارك في اجتماع 22 من مؤسسي اللجنة الثورية للوحدة و العمل ، تولّى قيادة منطقة الشمال القسنطيني ، استشهد في 1955 . - هوشي منه : سياسي فيتنامي ، قائد الحركة التحريرية في الهند الصينية ضد الاستعمار الفرنسي و الأمريكي ، مؤسس الحزب الشيوعي الفيتنامي 1931 ، أسس جمهورية فيتنام الشمالية بعد الاستقلال ، توفي 1969م .		
	0.5	- جورج مارشال : رئيس هيئة أركان الجيش الأمريكي بين 1939-1945 ، ثم وزيرا للخارجية في عهد الرئيس الأمريكي هاري ترومان 1947-1949 وصاحب مشروع مارشال الذي يهدف إلى إعادة أعمار أوروبا بعد الحرب 3- ربط الأحداث المعطية :		
	0.5	التاريخ		
	0.5	الحدث		
	0.5	هجوم الشمال القسنطيني 1955 / 08 / 20		
	0.5	مؤتمر باندونغ 1955/04/ 24+18		
	0.5	تأسيس الحلف الأطلسي 1949 / 04 / 04		
	01	04 - توقيع الدول التي تأسست بها الأحلاف العسكرية المطلوبة		الجزء الثاني
	0.25	الانجاز		
0.25	المفتاح			
0.5	العنوان			
0.25	المقدمة : التعريف بالنظام الدولي الجديد (أو أي مقدمة وظيفية للموضوع) هو نظام أحادي القطب و التصور وفق المنظور الأمريكي ، ظهر بعد نهاية الحرب الباردة ، أعلن عنه الرئيس الأمريكي جورج بوش الأب في مؤتمر باريس 1990 العرض :			
0.25	01- أهداف النظام الدولي الجديد			
0.25	1- الأهداف المعلنة :			
0.25	• فرض و نشر الديمقراطية و حماية حقوق الإنسان			
0.25	• حل النزاعات الدولية بالطرق السلمية			
0.25	• احترام سيادة الدول و استقلالها			

العلامة		عناصر الإجابة (الموضوع الأول)	محاور الموضوع
المجموع	مجزأة		
04	0.25	ب: الأهداف الخفية:	
	0.25	• الهيمنة و السيطرة على العالم	
	0.25	• السيطرة على منابع الثروات و الموارد الطبيعية خاصة النفط	
	0.25	• تكريس التخلف بمنع العالم الثالث من امتلاك أدوات للإقلاع الحضاري	
	0.25	02 - المؤسسات الفاعلة :	
	0.25	أ - اقتصاديا :	
	0.25	• صندوق النقد الدولي	
	0.25	• البنك العالمي للإنشاء و التعمير	
	0.25	• منظمة التجارة العالمية	
	0.25	• الشركات المتعددة الجنسيات	
0.25	ب - عسكريا :		
0.25	• الحلف الأطلسي + القوات الأممية		
0.25	ج - سياسيا :		
0.25	• هيئة الأمم المتحدة خاصة مجلس الأمن الدولي		
0.5	الخاتمة :		
0.5	خطورة تجسيد الأحادية القطبية على العالم الثالث خاصة و العالم عامة (أو أي خاتمة وظيفية للموضوع)		
06	الجغرافيا		الجزء الأول
	الجزء الأول		
	0.5	1- تعريف المصطلحات التي تحتها خط:	
	0.5	* القطب الاقتصادي : منطقة أو دولة أو مجموعة دول تساهم مساهمة فعالة و معتبرة في الاقتصاد العالمي	
	0.5	* الشركات المتعددة الجنسيات : هي شركات تتميز ببعدها العالمي و طابعها الاقتصادي و تعدد أنشطتها ، و يطلق عليها الشركات العابرة للقارات	
	0.5	* التثنيات : مصطلح جغرافي اقتصادي ، يطلق على أربعة دول آسيوية : كوريا الجنوبية - هونغ كونغ - سنغافورة - تايوان ، تتميز بنمو اقتصادها السريع .	
	0.5	* الدخل الوطني : هو قيمة ما تنتجه مختلف القطاعات الاقتصادية داخل و خارج البلد الواحد خلال سنة .	
	0.2	2- التوقيع على الخريطة :	
	0.25	الانجاز	
	0.25	المفتاح	
0.25	العنوان		
0.1	3- تمثيل المعطيات في أعمدة بيانية :		
0.25	الانجاز		
0.25	المفتاح		
0.25	العنوان		

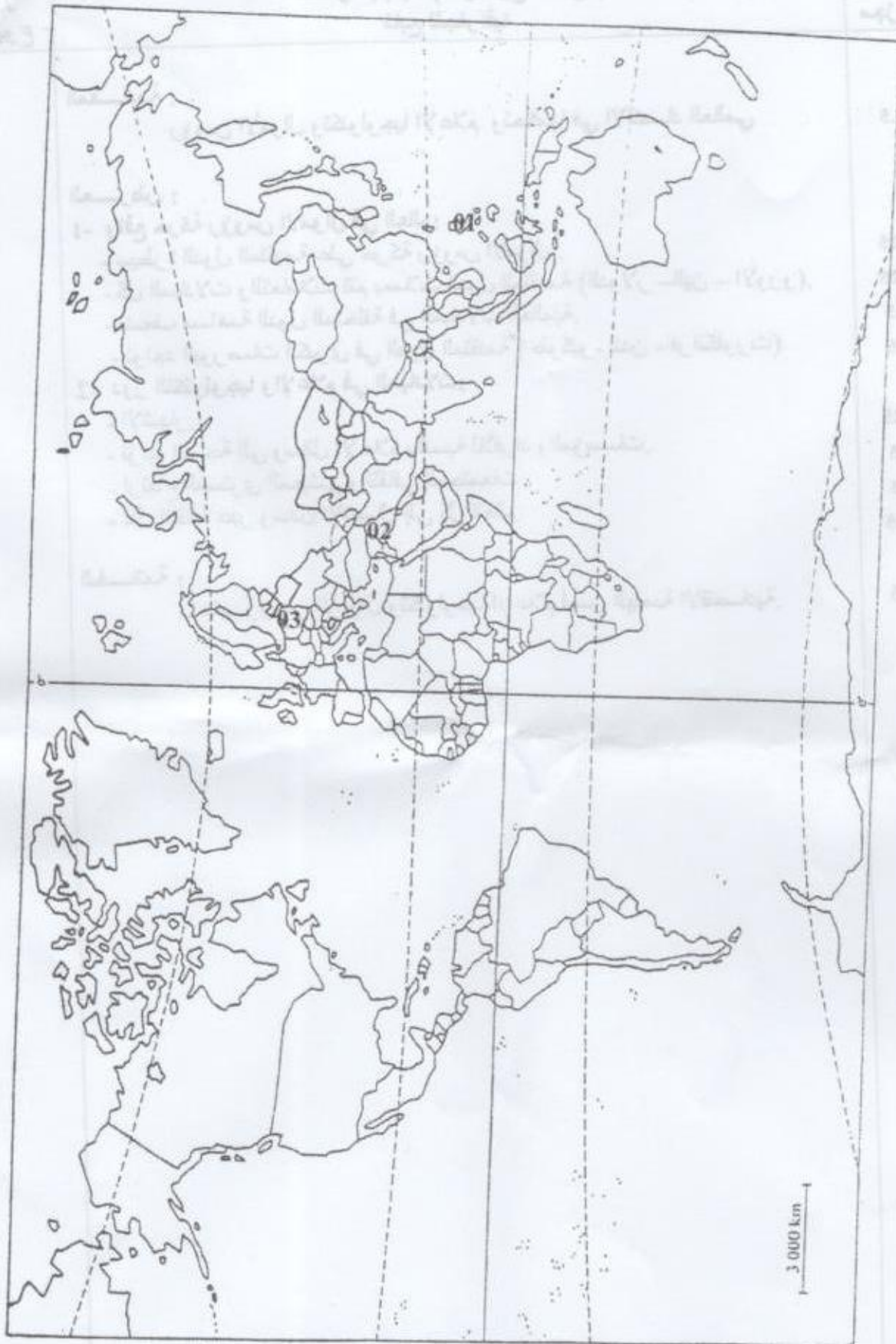
العلامة		عناصر الإجابة (الموضوع الأول)	محاور الموضوع
المجموع	مجزأة		
04	0.5	المقدمة : التعريف بمنطقة السهول الوسطى أو أي مقدمة وظيفية للموضوع	الجزء الثاني
	0.25	العرض :- 01- الخصائص الطبيعية و البشرية للسهول الوسطى الأمريكية :	
	0.25	أ- الخصائص الطبيعية : - اتساع المساحة	
	0.25	- وفرة الشبكة المائية وارتفاع التساقط	
	0.25	- المناخ الملائم و خصوبة التربة	
	0.25	ب- الخصائص البشرية: - وفرة اليد العاملة المؤهلة	
	0.25	- وفرة وتنوع طرق النقل و المواصلات	
	0.25	- اتساع السوق الاستهلاكية	
	0.5	02- تعليل توزيع المحاصيل الزراعية :	
	0.5	- القمح : سهول و اسعة و مناخ قاري	
0.5	- الذرة : التربة و فرة المياه		
0.5	- القطن : المناخ المداري الرطب - التربة		
0.5	الخاتمة : تعتبر السهول الوسطى القلب النابض للزراعة الأمريكية أو أي خاتمة وظيفية للموضوع		

الموضوع الثاني

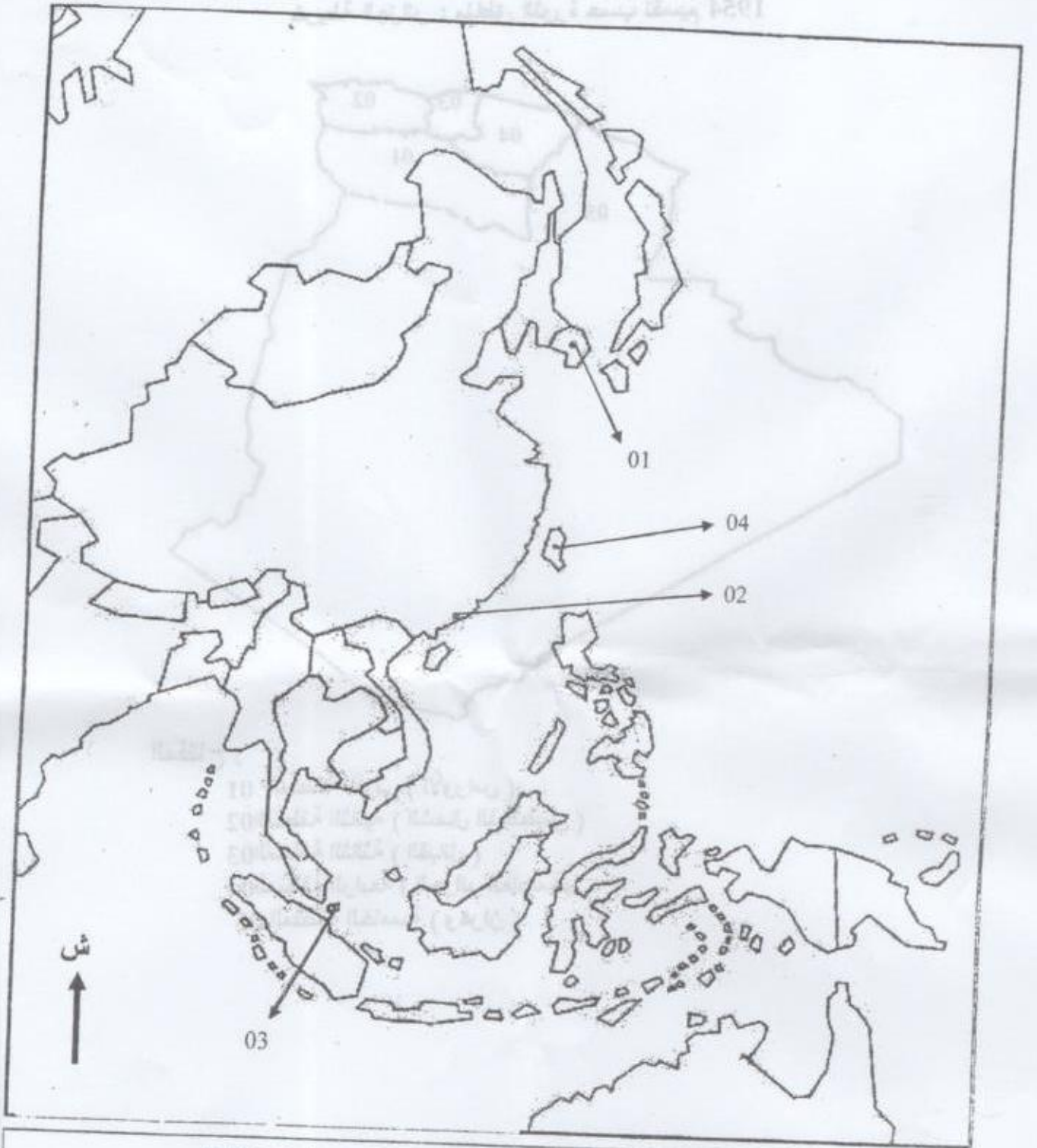
06	0.5	1- تعريف المصطلحات التي تحتمها خط • الحرب الباردة: صراع أيديولوجي بين المعسكرين الشرقي الشيوعي بزعامة الاتحاد السوفيتي و الغربي الرأسمالي بزعامة الوم أ استخدمت فيه كل الوسائل ما عدا السلاح برز خلال الفترة (1989/1945)	الجزء الأول								
	0.5	• القطبية الثنائية: نمط في العلاقات الدولية خلال الحرب الباردة تصارعت فيه قوتان مختلفتان أيديولوجيا هما الوم أ و الإتحاد السوفيتي									
	0.5	• التعايش السلمي : سياسة جديدة في العلاقات الدولية بمبادرة من الإتحاد السوفيتي وتبناها الغرب ، تؤمن بتعدد الإيديولوجيات في المجتمع الدولي أساسها التقارب و التفاهم بين الكتلتين									
	0.5	2- التعريف بالشخصيات :- • كريم بلقاسم : أحد مفجري الثورة التحريرية ، تولى قيادة الولاية الثالثة ، شارك في مؤتمر الصومام ، رئيس الوفد الجزائري في اتفاقيات إيفيان									
	0.5	• الجنرال جياب: عسكري فيتنامي ، قائد القوات الفيتنامية في معركة ديان بيان فو ضد القوات الفرنسية عام 1954م									
	0.5	• جون كندي : رئيس الولايات المتحدة الأمريكية بين 1961-1963 دافع عن حقوق الزنوج ، شهد عهده أزمة الصواريخ بكوبا									
	0.5	3- جدول الأحداث :									
	لكل حدث	<table border="1"> <thead> <tr> <th>الحدث</th> <th>إنشاء المنظمة الخاصة</th> <th>تمرد الجيش الفرنسي في الجزائر</th> <th>مؤتمر مالطا</th> </tr> </thead> <tbody> <tr> <td>التاريخ</td> <td>1947-02-15</td> <td>1958-05-13</td> <td>1989-12-04</td> </tr> </tbody> </table>		الحدث	إنشاء المنظمة الخاصة	تمرد الجيش الفرنسي في الجزائر	مؤتمر مالطا	التاريخ	1947-02-15	1958-05-13	1989-12-04
	الحدث	إنشاء المنظمة الخاصة		تمرد الجيش الفرنسي في الجزائر	مؤتمر مالطا						
	التاريخ	1947-02-15		1958-05-13	1989-12-04						
01	04- التوقيع على الخريطة :										
0.25	الانجاز										
0.25	المفتاح										
0.25	العنوان										

العلامة		عناصر الإجابة (الموضوع الثاني)	محاور الموضوع
المجموع	مجزأة		
04	0.5	المقدمة: انطلاق الثورة و محاولة فرنسا إجهاضها في بدايتها أو أي مقدمة وظيفية للموضوع	الجزء الثاني
	0.5	العرض : 1- إستراتيجية فرنسا للقضاء على الثورة في عامها الأول:	
	0.5	• حصار الثورة خارجيا (التعتيم الإعلامي - معارضة مناقشة القضية الجزائرية في الأمم المتحدة)	
	0.25	• حصار الثورة داخليا (حصار عسكري على المناطق الساخنة مثل الأوراس و القبائل	
	0.25	• إعلان حالة الطوارئ و دعمها بمشروع سوستيل	
	0.5	• التقليل من شأن الثورة و تقزيمها واعتبارها أحداث معزولة ضيقة ردود فعل الثورة الجزائرية :	
	0.5	• فك الحصار الخارجي بالمشاركة في المحافل الدولية (مؤتمر باتدونغ)	
	0.5	• هجومات الشمال القسنطيني 20 أوت 1955	
	0.25	• التعبئة الشعبية (الشمولية و الشعبية)	
	0.25	• الاعتماد على حرب العصابات	
0.5	الخاتمة : نجاح الثورة في إفشال المخططات الاستعمارية الفرنسية أو أي خاتمة وظيفية للموضوع		
06	الجغرافيا		الجزء الأول
	0.5	الجزء الأول : 1- تعريف المصطلحات التي تحتها خط	
	0.5	• الشراكة : اتفاق بين دولتين أو أكثر لإقامة مشاريع مشتركة قصد الاستفادة المتبادلة مثل الشراكة الأورومتوسطية	
	0.5	• منظمة التجارة العالمية : منظمة دولية مقرها جنيف (سويسرا) تأسست في جانفي 1995 خلفا للغات تهدف إلى تنظيم التجارة العالمية	
	0.2	• الاستثمار : توظيف الإمكانيات المادية و البشرية لخلق مشاريع اقتصادية تنموية	
	0.25	2- التوقيع على الخريطة :	
	0.25	الانجاز	
	0.15	المفتاح	
	0.25	العنوان	
	0.25	3- التمثيل البياني :	
0.25	الانجاز		
		المقياس	
		العنوان	

العلامة		عناصر الإجابة (الموضوع الثاني) تابع للجغرافيا	محاور الموضوع
المجموع	مجزأة		
04	0.5	المقدمة : رؤوس الأموال وتكنولوجيا الإعلام وتحكمها في الاقتصاد العالمي	الجزء الثاني
	0.25	العرض : 1- واقع حركة رؤوس الأموال في العالم: - سيطرة الدول المتقدمة على حركة رؤوس الأموال .	
	0.25	- كل المبادلات والتعاملات تتم بعملة الدول المتقدمة (الدولار - الين - الأورو).	
	0.5	- ضعف مساهمة الدول المتخلفة في المبادلات العالمية.	
	0.5	- تواجد البورصات الكبرى في الدول المتقدمة (طوكيو - لندن - فرانكفورت)	
	0.25	2- دور التكنولوجيا والإعلام في المبادلات: - الإشهار.	
	0.5	- تزايد الحاجة إلى وسائل الإعلام بالنسبة للأفراد والمؤسسات.	
	0.5	- ارتفاع المستوى المعيشي والثقافي للمجتمعات .	
	0.25	- نقل الثقافة عبر وسائل الاتصال إلى كل العالم.	
	0.5	الخلاصة : تعتبر رؤوس الأموال وتكنولوجيا الإعلام أسس الهيمنة الاقتصادية.	



المفتاح: 1: ج ش آسيا (الفلين) - 2: بغداد (العراق) - 3: وارسو (بولونيا)



يحدد العمل المطلوب على الخريطة المرفقة وتعاد مع أوراق الإجابة

المفتاح :

- 01 - كوريا الجنوبية.
- 02 - هونغ كونغ.
- 03 - سنغافورة.
- 04 - تايوان.

خريطة الجزائر : مناطق الثورة حسب تقسيم 1954

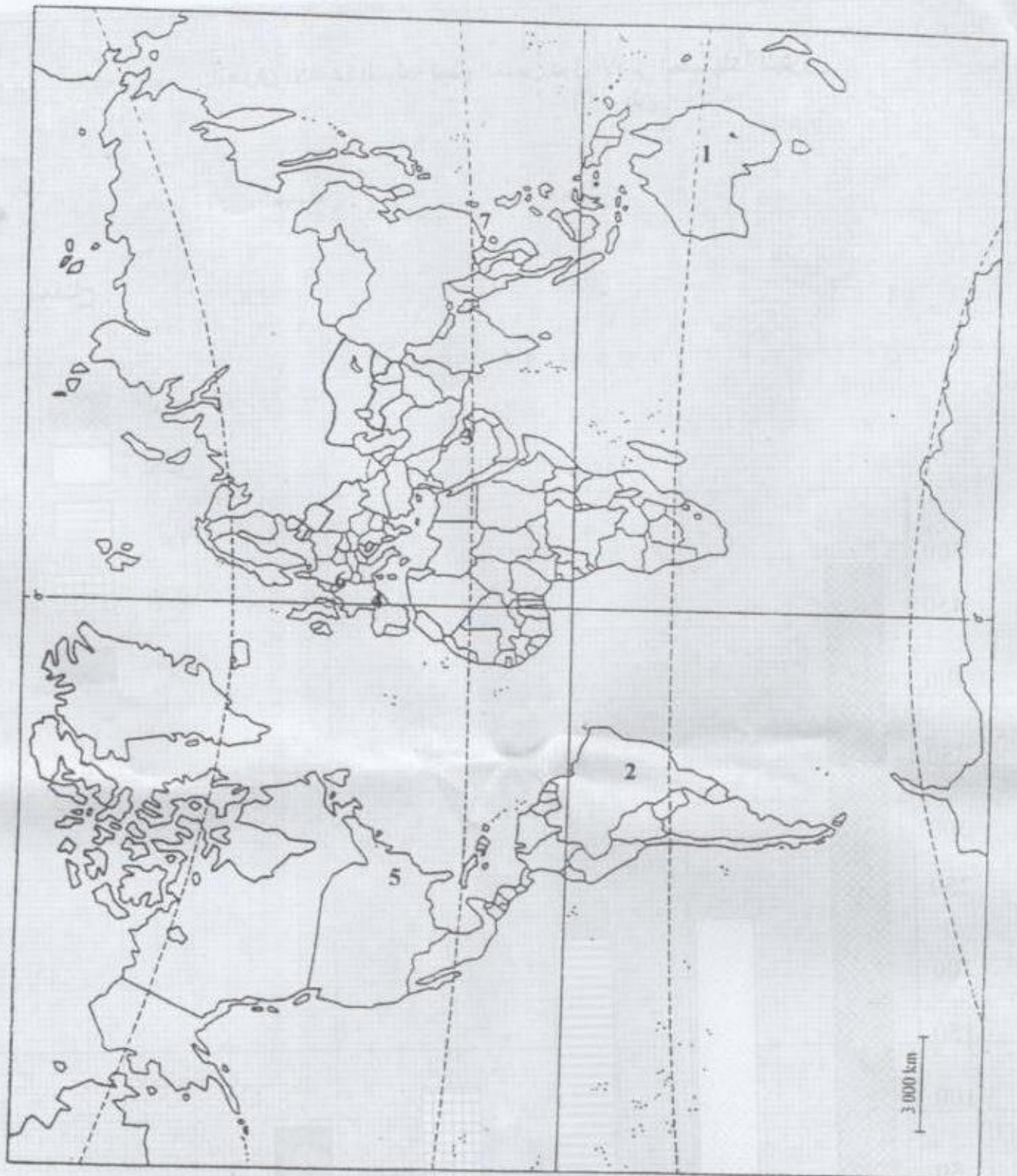


المفتاح :

- 01 المنطقة الأولى (الأوراس)
- 02 المنطقة الثانية (الشمال القسنطيني)
- 03 المنطقة الثالثة (القبائل)
- 04 المنطقة الرابعة (الجزائر العاصمة)
- 05 المنطقة الخامسة (وهران)

والضما :

- 10 - 10 كيلومتر
- 20 - 20 كيلومتر
- 30 - 30 كيلومتر
- 40 - 40 كيلومتر



المفتاح : 1- سيدني
2- ساو باولو
3- نبي
4 - باريس


5- نيويورك
6- فرانكفورت
7- هونغ كونغ

العنوان الأعمدة البنائية تمثل الخمس دول الأولى المستهلكة للبتروك
50 م طن

المقاييس :
الوزن

المفتاح :

- الولايات المتحدة
- الصين
- اليابان
- ألمانيا
- الهند



العنوان : المنحنى البياني للمبادلات التجارية العالمية 1975-2000

