

الجمهورية الجزائرية الديمقراطية الشعبية

الديوان الوطني للامتحانات والمسابقات

دورة: جوان 2015

وزارة التربية الوطنية

امتحان بكالوريا التعليم الثانوي

الشعبة: لغات أجنبية

المدة: 03 سا و30 د

اختبار في مادة: التاريخ والجغرافيا

على المترشح أن يختار أحد الموضوعين التاليين:

الموضوع الأول

التاريخ:

الجزء الأول: (06 نقاط)

1- "... استطاعت أمريكا أن تحقق هيمنة كاملة على شؤون العالم، نجد أنها استطاعت تحقيق العديد من الإنجازات الفائقة، مثل مشروع مارشال وتأسيس الناتو وإنشاء الأمم المتحدة وتأسيس النظام الاقتصادي العالمي؛ وهو ما يشكل العالم كما نعرفه حالياً. إلا أنه بالمقابل كانت هناك لحظات من الانتكاس، ففي عام 1949 نجحت الثورة الشيوعية في الصين، وكسرت الاتحاد السوفييتي الاحتكار الأمريكي للسلح النووي، ثم تورطت الولايات المتحدة الأمريكية في الحرب الكورية... وفي الخمسينيات اجتاحت الأمريكين القلق من التدهور النسبي لقوتهم إزاء صعود قوة المعسكر الاشتراكي...". روبرت كاجان/ لماذا لن تتراجع الهيمنة الأمريكية في العالم؟

المطلوب:

أ- حدّد مفهوم المصطلحات التي تحتها خط.

ب- عيّّن على خريطة العالم المرفقة لما قبل 1989 أسماء الدول الواردة في الوثيقة.

2- "... استضافت الولاية الثالثة مؤتمر الصومام الذي عُقد يوم 20 أوت 1956 وقام عميروش بتجنيد 3000 جندي لحماية المؤتمرين من أي هجوم فرنسي مفاجئ. وبعد 14 يوماً من النقاش والحوار بين القادة الذين حضروا المؤتمر من المناطق الخمسة... استطاع العربي بن مهيدي... وعيان رمضان وكريم بلقاسم... أن يتعرفوا على حقيقة الوضع في الجزائر وأن يتوصلوا إلى نتائج إيجابية وقيموا نظاما متكاملا للثورة...".

تاريخ الجزائر المعاصر الدكتور: محمد العربي الزبيري.

المطلوب:

- عرّف بالشخصيات التي تحتها خط.

الجزء الثاني: (04 نقاط)

صرح شارل ديغول في خطابه يوم 16 - 09 - 1959 :

"... إنني أضع كافة الإمكانيات تحت تصرف الجيش الفرنسي لنمحو عار الهزيمة التي لحقت بنا في الهند

الصينية وغيرها من الميادين...".

المطلوب:

انطلاقاً من القول واعتماداً على ما درست، اكتب مقالاً تاريخياً تبين فيه:

1- الإستراتيجية السياسية والعسكرية لديغول.

2- رد فعل الثورة.



**الجغرافيا:**

**الجزء الأول: (06 نقاط)**

1- "... يتوقع صندوق النقد الدولي تحسناً محسوساً في المؤشرات الاقتصادية الكلية للجزائر عامي 2011 و2012 خاصة النمو الاقتصادي وميزان الحسابات الجارية.

وفي تقريره حول آفاق الاقتصاديات العالمية يتوقع صندوق النقد ارتفاعاً في الناتج الداخلي الخام للجزائر بمعدل 3,6% سنة 2011 مقابل 3,3% سنة 2010 على أن يتراجع إلى 2,3% في 2012... إن نسبة البطالة تعرف تراجعاً متتاليًا في الجزائر حيث انتقلت من 10% سنة 2010 إلى 9,8% سنة 2011 قبل أن تنخفض أيضا إلى 9,5% سنة 2012.

يومية المساء 11-04-2011.

**المطلوب:**

- حدّد مفهوم المصطلحات التي تحتها خط.

2- إليك جدولاً للدول العشر الأولى المنتجة للأرز سنة 2011 (مليون طن).

البلد	الصين	الهند	أندونيسيا	بنغلادش	الفيتنام	تايلاندا	ميانمار	الفلبين	البرازيل	كمبوديا
الإنتاج	202.6	155.7	65.7	50.6	42.3	34.5	32.8	16.6	13.4	08.7

منظمة الغذاء والزراعة 2012.

**المطلوب:**

أ- مثل معطيات الجدول بأعمدة بيانية بمقياس:

1 سم ← 20 مليون طن.

1 سم ← دولة.

ب- علق على الرسم.

**الجزء الثاني: (04 نقاط)**

قال عبد الحميد العمري في مقاله "لماذا يُرعب العالم سقوط أمريكا اقتصادياً؟":  
"... إن الاقتصاد الأمريكي هو الشريك الأكبر اقتصادياً وتجارياً واستثمارياً على مستوى العالم...".

**المطلوب:**

انطلاقاً من الفقرة واعتماداً على ما درست، اكتب موضوعاً جغرافياً تبين فيه:

1- مظاهر القوة الاقتصادية الأمريكية.

2- أثر هذه القوة على العلاقات الاقتصادية العالمية.

## الموضوع الثاني

**التاريخ:**

**الجزء الأول: (06 نقاط)**

1- "... عندما عادت لجنة التنسيق والتنفيذ إلى تونس قومت العمل الذي قامت به منذ مؤتمر الصومام واعتبرت أنه من الضروري تعزيز الحركة وتنظيمها. فأخذت تُعدّ العدة للدورة العادية للمجلس الوطني للثورة الجزائرية الذي سينعقد بين 20 و28 أوت 1957 وتقرر في هذا الاجتماع زيادة حدة النضال في المجالين العسكري والسياسي والعمل لتأمين وتسريع وصول السلاح إلى الولايات وتنمية العمل الدبلوماسي...".

سليمان الشيخ / الجزائر تحمل السلاح أو زمن اليقين - ص 87

**المطلوب:**

- حدّد مفهوم المصطلحات التي تحتها خط.

2- عزّف بالشخصيات الآتية:

- جمال عبد الناصر. - هواري بومدين. - جون كنيدي.

3- أكمل جدول الأحداث.

التاريخ	الحدث
1955/08/20	.....
.....	تأسيس الاتحاد العام للعمال الجزائريين
1945/10/24	.....

**الجزء الثاني: (04 نقاط)**

قال أحد القادة العسكريين الفيتناميين:

" ... ليس العيب أن يدخل العدو أرضنا ... ولكن العيب أن يدخل ولن نقاومه ... أو يخرج سالما من أرضنا ... "

**المطلوب:**

انطلاقا من الفقرة واعتمادا على ما درست، اكتب مقالا تاريخيا تحدّد فيه:

1- نموذج واحد لأسلوب التحرر من كل قارة.

2- موقف المعسكرين من الحركات التحررية في العالم الثالث.



**الجغرافيا:**

**الجزء الأول: (06 نقاط)**

1- "... بعد خمس سنوات تقريبا على اندلاع الأزمة المالية، يشكل التفتت المتزايد للاقتصاد العالمي، بين ديناميكية البلدان الناشئة ومقاومة الولايات المتحدة والتراجع المستمر لمنطقة اليورو خطراً على الآفاق الاقتصادية العالمية، مما يعني أنه ما من دولة بمنأى عن الاضطرابات الاقتصادية الاجتماعية، على الرغم من أن بعض الدول النامية تشهد تطوراً كبيراً بفضل إصلاحات بنوية واجتماعية لضمان نمو دائم كما هو الحال في البرازيل وتركيا ... إلا أن الاقتصاد العالمي برمته سيعاني في عام 2013 من حالة تباطؤ كبير جداً، إذا ما تمكنت بلدان العالم ومؤسساته المالية من التعامل بمرونة للتغلب على العديد من الأزمات وبالأخص أزمة منطقة اليورو...".

كمال عبيد /الاقتصاد العالمي... بين صعود آسيا وتراجع أوروبا.

**المطلوب:**

- أ- حدّد مفهوم المصطلحات التي تحتها خط.  
ب- على خريطة العالم المرفقة عيّّن أسماء الدول الواردة في الوثيقة.

2- إليك جدولاً للمبادلات التجارية للجزائر مع بعض دول العالم سنة 2012 .

التصدير			الاستيراد		
%	القيمة/ مليون دولار	البلد	%	القيمة/ مليون دولار	البلد
16.41	11943.00	الو.م.أ	12.83	6005.00	فرنسا
15.77	11670.00	إيطاليا	12.56	5879.00	الصين
08.92	6601.00	فرنسا	09.29	4349.00	إيطاليا
07.15	5291.00	هولندا	05.50	2594.00	ألمانيا
04.11	3041.00	تركيا	03.81	1784.00	تركيا
03.64	2696.00	الصين	03.50	1637.00	الو.م.أ

الوكالة الوطنية للتطوير والاستثمار سنة 2013.

**المطلوب:**

علّق على الجدول.

**الجزء الثاني: (04 نقاط)**

إنّ منطقة شرق وجنوب شرق آسيا أصبحت بكل المقاييس أكثر غنى وقوة وأهمية، يعيش بها ما يقارب نصف سكان العالم، تضاعف دخل الفرد في بعض دولها سبع مرات ما بين 1950-2005.

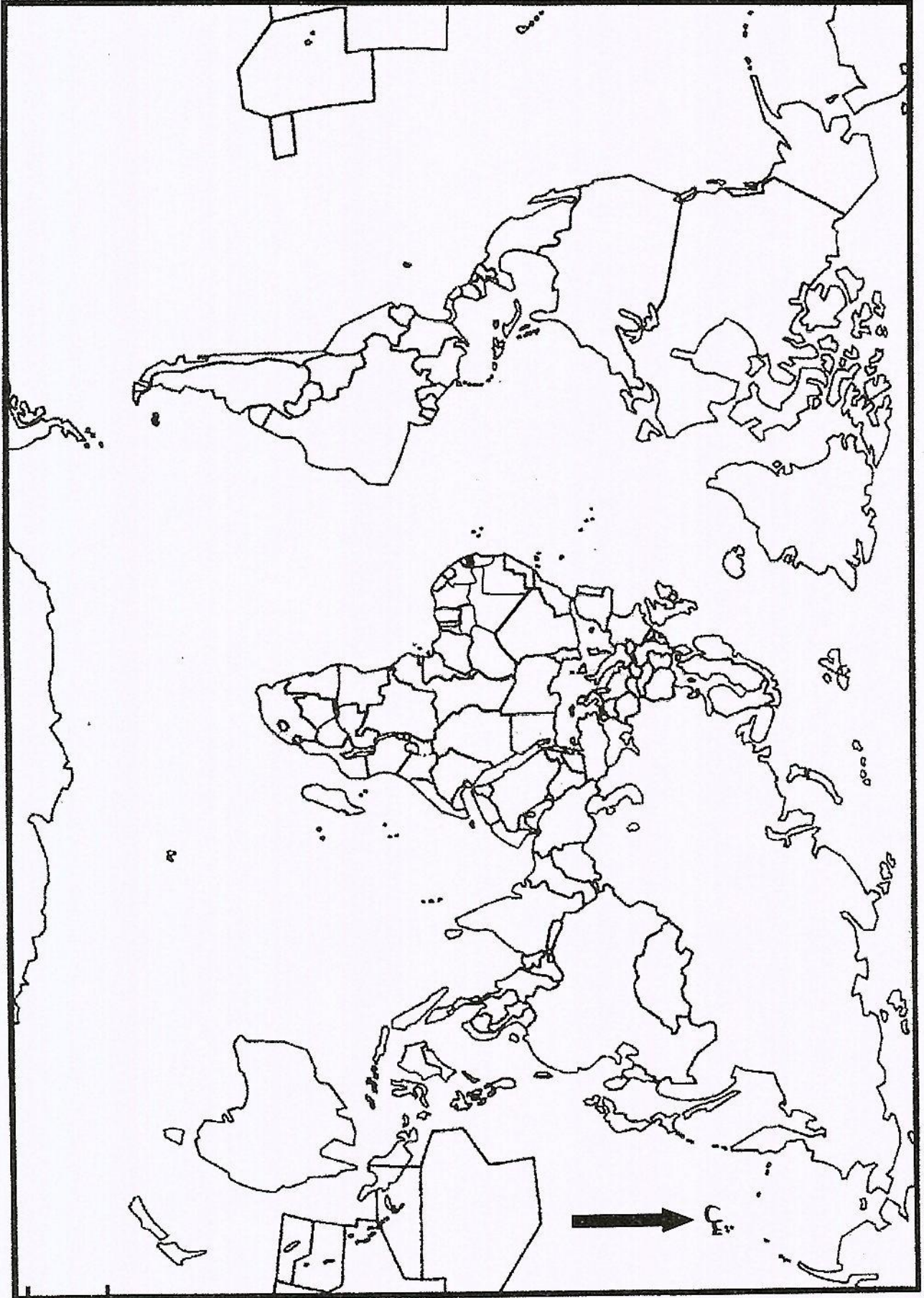
**المطلوب:**

انطلاقاً من الفقرة واعتماداً على ما درست، اكتب موضوعاً جغرافياً تُبرز فيه:

- 1- عوامل القوة الاقتصادية لمنطقة شرق وجنوب شرق آسيا.
- 2- مكانة المنطقة في الاقتصاد العالمي.



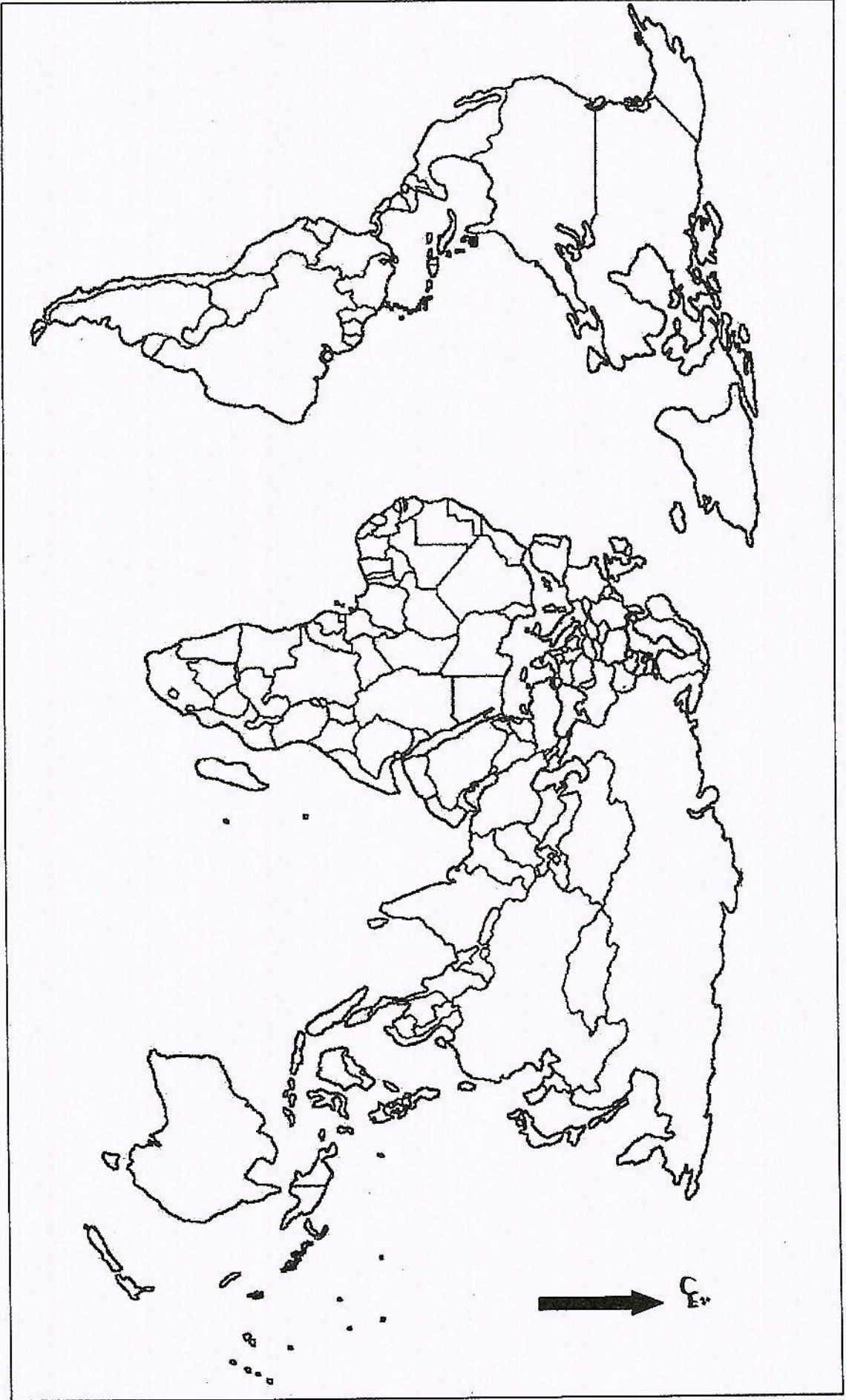
خريطة العالم لما قبل 1989 (خاصة بالموضوع الأول)



ينجز العمل المطلوب على الخريطة وتعاد مع أوراق الإجابة



خريطة العالم (خاصة بالموضوع الثاني)



ينجز العمل المطلوب على الخريطة وتعاد مع أوراق الإجابة



العلامة		عناصر الإجابة ( الموضوع الأول)
مجموع	مجزأة	
		<b>أولاً: التاريخ</b> <b>الجزء الأول:</b> 1- أ - مفهوم المصطلحات: * مشروع مارشال: مشروع اقتصادي وضعه الجنرال جورج مارشال وزير الخارجية الأميركي، تم الإعلان عنه يوم 1947/6/5 يهدف إلى صد المد الشيوعي و إعادة تعمير أوروبا بعد الحرب العالمية الثانية، قدرت المساعدات بحوالي 13مليار دولار أميركي. * هيئة الأمم المتحدة: منظمة أممية تأسست في 24 أكتوبر 1945 مقرها نيويورك هدفها تنظيم العلاقات الدولية وإرساء السلم والتعاون الدوليين. * المعسكر الاشتراكي: مجموع الدول التي تبنت النظام الاشتراكي الشيوعي وتحالفت فيما بينها بزعامة الاتحاد السوفياتي سنة 1945 (أوروبا الشرقية، بعض دول أوربا الوسطى وكوريا الشمالية). فكك بعد مؤتمر مالطا 1989. ب - الخريطة: الإنجاز. العنوان. 2- <b>التعريف بالشخصيات:</b> * عميروش أيت حمودة: (1926-1959) مناضل في الحركة الوطنية، عضو في المنظمة السرية، مسؤول ناحية الصومام ثم قائد الولاية الثالثة سنة 1957. وقع في كمين للقوات الفرنسية، استشهد في 29 مارس 1959. * عيَّان رمضان: (1920-1957) مناضل في الحركة الوطنية، عضو في المنظمة السرية، عضو مجموعة 22، عضو في لجنة التنسيق والتنفيذ، لعب دورا أساسيا في إعداد وثائق مؤتمر الصومام، صاحب فكرة أولوية الداخل على الخارج والسياسي على العسكري. استشهد يوم 26 ديسمبر 1957. * كريم بلفاسم: (1922-1970)، مناضل في الحركة الوطنية، من مفجري الثورة. قائد الولاية الثالثة، شارك في مؤتمر الصومام، عضو لجنة التنسيق والتنفيذ، عضو في الحكومة المؤقتة، رئيس الوفد الجزائري المفاوض، اغتيل سنة 1970. <b>الجزء الثاني:</b> المقدمة: الثورة الجزائرية بين سياسة الغطرسة الديغولية و إصرار الثوار على الاستقلال. العرض: 1- <b>الإستراتيجية السياسية والعسكرية لديغول:</b> أ - سياسيا: 0.25 - الاستفتاء حول دستور الجمهورية الفرنسية الخامسة 1958/07/28 0.25 - الإعلان عن تقرير المصير 1959/09/16 0.25 - الإعلان عن مشروع تقسيم الجزائر إلى شمال - جنوب سنة 1960 0.25 - إنشاء القوة الثالثة ومحاولة عزل الثورة داخليا وخارجيا (المحافل الإقليمية الدولية).
06	0.75	
	1.25	
	0.25	
	0.75	
	0.75	
	0.75	
	0.50	



		<b>ب- عسكريا:</b>
	0.25	- تعيين الجنرال شال على رأس القيادة العسكرية الفرنسية، القيام بسلسلة من العمليات للقضاء على الثورة (التمشيط والتطهير).
04	0.25	- الإعلان عن مشروع سلم الشجعان (1958/10/23).
	0.25	- رفع عدد القوات الفرنسية في الجزائر والاستعانة بقوات الحلف الأطلسي واعتماد أسلوب القمع والإبادة (التعذيب، الاعتقالات، المحتشدات ...).
		<b>2- رد فعل الثورة.</b>
		<b>أ- سياسيا:</b>
	0.25	- إنشاء الحكومة المؤقتة 1958/9/19 بالقاهرة برئاسة فرحات عباس.
	0.25	- إفشال محاولات تقسيم الشعب ورفض مشروع سلم الشجعان.
	0.25	- طرح القضية الجزائرية في المحافل الدولية والإقليمية وتنظيم القوى الشعبية (مظاهرات، دعم ومساندة).
		<b>ب- عسكريا:</b>
	0.25	- إنشاء هيئة الأركان.
	0.25	- نقل الثورة إلى فرنسا (الولاية السابعة) وتكثيف العمليات العسكرية والفدائية.
	0.50	<b>الخاتمة:</b> قوة الثورة وصلابتها أجبرت ديغول على التفاوض والاعتراف بالاستقلال.
		<b>ثانيا: جغرافيا</b>
		<b>الجزء الأول:</b>
		<b>1- مفهوم المصطلحات:</b>
	0.75	* <b>صندوق النقد الدولي:</b> مؤسسة مالية دولية تأسست في ديسمبر 1945، مقره واشنطن، يعمل على تسيير النظام النقدي الدولي منذ ع 2 وضمن احترام الدول لقواعد مؤتمر بروتون وودز لسنة 1944 وتقديم الاستشارة والدعم للدول التي تواجه مشاكل مالية واقتصادية.
06	0.75	* <b>الناتج الداخلي الخام:</b> مجموع الثروة المنتجة لدولة ما داخليا خلال سنة معينة.
	0.75	* <b>البطالة:</b> حالة توقف لارادي عن العمل لاستحالة وجوده، (حالة تعطل الشخص عن العمل في حالة عدم توفره) وهي بأشكالها المتعددة ذات دلالة متماثلة تقريبا في تأثيراتها السلبية الاقتصادية والاجتماعية في المجتمع.
		<b>2-</b>
		<b>أ - الرسم البياني:</b>
	1.50	* - الإنجاز.
	0.25	* - المقياس.
	0.25	* - العنوان.
	0.25	* - المفتاح.
		<b>ب - التعليق:</b>
	0.50	- تفاوت في الإنتاج بين الدول لاختلاف الإمكانيات.
	0.50	- كل الدول العشرة الأولى المنتجة للأرز تنتمي للقارة الآسيوية ماعدا البرازيل (الغذاء الرئيسي، طبيعة المناخ).
	0.50	- تصدر الصين قائمة الدول العشرة (المساحة والمناخ).



		<u>الجزء الثاني:</u>
	0.50	المقدمة: الو م أ بين ضخامة إمكاناتها الاقتصادية وهيمنتها على الاقتصاد العالمي. العرض:
		1- مظاهر القوة الاقتصادية الأمريكية :
	0.25	* ضخامة وتنوع الإنتاج الصناعي والزراعي والخدمي
	0.25	* قوة المساهمة في الأسواق العالمية تصديراً واستيراداً.
	0.25	* قوة مالية بمؤسساتها وعملتها.
	0.25	* ضخامة استهلاك المواد الأولية طاقوية ومعدنية.
	0.25	* التطور التكنولوجي والبحث العلمي.
		2- أثر القوة الأمريكية على العلاقات الاقتصادية العالمية:
04	0.25	- تفوق الدولار الأمريكي كعملة عالمية يمثل 50 % من المبادلات الدولية (العملة المرجعية التي تحدد بواسطتها أسعار المواد والعملات الأخرى).
	0.25	- الهيمنة والتأثير على المؤسسات المالية العالمية (صندوق النقد الدولي والبنك العالمي، البورصات).
	0.25	- ضخامة الموارد الأمريكية يمنح لها توجيه العلاقات الاقتصادية الدولية.
	0.25	- الهيمنة على الأسواق العالمية (إنتاجاً، تسويقاً، سعراً واستثماراً).
	0.25	- نفوذ الشركات متعددة الجنسيات (إقامة فروع لها في مختلف أنحاء العالم).
	0.25	- ممارسة ضغوطات اقتصادية على الدول (حصار، السلاح الأخضر ...).
	0.25	- تأثير الدول بأزماتها الداخلية (مالية، اقتصادية).
	0.50	الخاتمة: الولايات المتحدة الأمريكية قطب وقوة اقتصادية إقليمية وعالمية رائدة لنظام العولمة رغم ما يعترضها من تحديات في ظل المستجدات الراهنة.



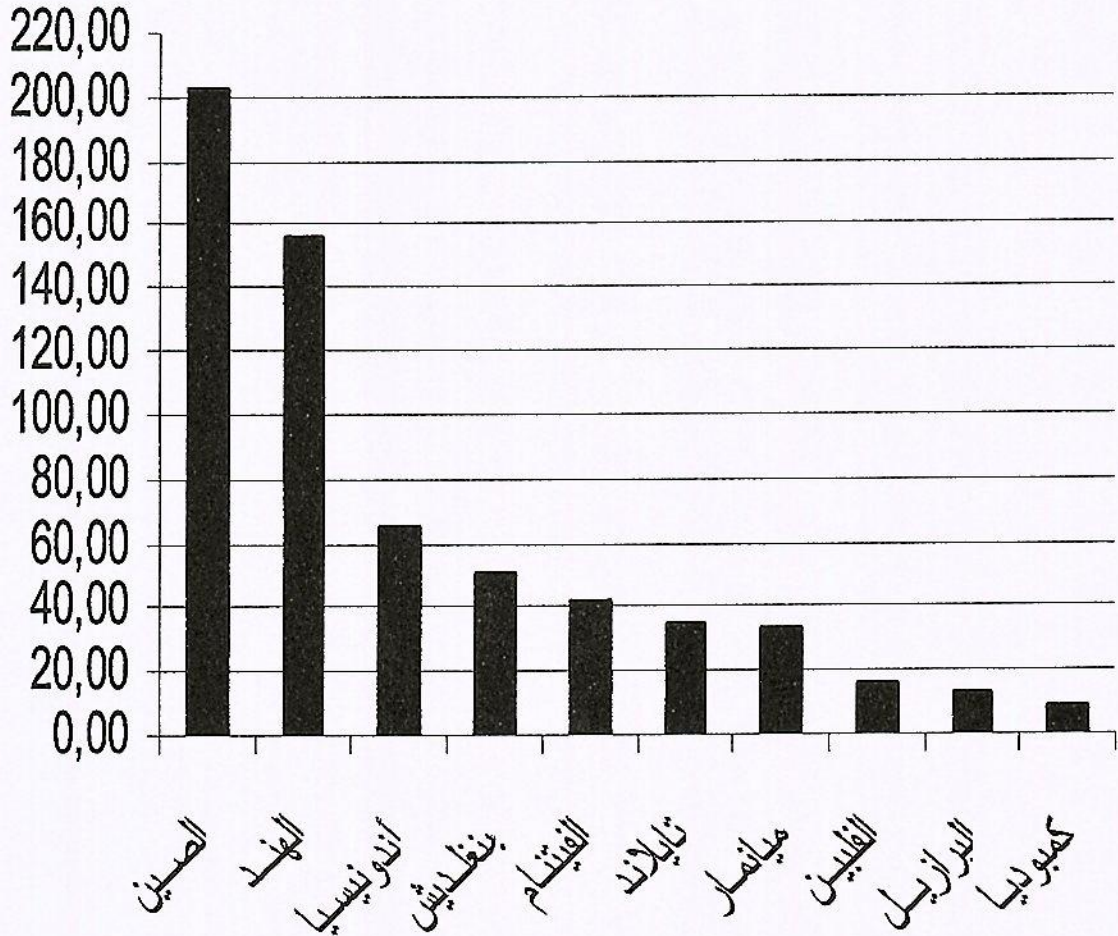
العلامة		عناصر الإجابة ( الموضوع الثاني )								
مجموع	مجزأة									
		<p><b>أولا : تاريخ: الجزء الأول:</b></p> <p>1- مفهوم المصطلحات:</p> <p>*- لجنة التنسيق والتنفيذ: هيئة تنفيذية انبثقت عن مؤتمر الصومام 1956 تتكون من 05 أعضاء، مهامها تنفيذ قرارات المجلس الوطني للثورة.</p> <p>0.75</p> <p>*- المجلس الوطني للثورة الجزائرية: جهاز وطني تنظيمي انبثق عن مؤتمر الصومام وهو بمثابة برلمان الثورة يتكون من 34 عضواً، من صلاحياته اتخاذ القرار السياسي والعسكري (مواصلة الثورة، التفاوض مع العدو).</p> <p>0.75</p> <p>*- العمل الدبلوماسي: إحدى الوسائل الأساسية لتنفيذ السياسات الخارجية للدول (المحادثات الثنائية، المؤتمرات الدولية)، ويعني التعريف بالقضية الجزائرية في المحافل الدولية لكسب التأييد المادي والمعنوي.</p> <p>0.75</p> <p>2- التعريف بالشخصيات:</p> <p>*- جمال عبد الناصر: (1918-1970) زعيم وطني مصري أحد أعضاء ثورة الضباط الأحرار في 1952/7/23 رئيس مصر من 1954-1970، من أهم إنجازاته تأمين قناة السويس 1956 وهو أحد أقطاب حركة عدم الانحياز .</p> <p>0.75</p> <p>*- هواري بومدين: محمد إبراهيم بوخرودة (1932-1978): قائد أركان جيش التحرير أثناء الثورة التحريرية، وزيرا للدفاع 1962، رئيس قيادة مجلس الثورة 1965، الرئيس الثاني للجزائر (1976 – 1978)، ترأس حركة عدم الانحياز في الجزائر سنة 1973.</p> <p>0.75</p> <p>*- جون كينيدي: (1917-1963) رئيس الو.أ.م من 1961 إلى 1963 دافع عن حقوق الزنوج في أمريكا من أهم الأحداث في عهده أزمة الصواريخ في كوبا 1962 وسباق غزو الفضاء.</p> <p>0.75</p> <p>3- جدول الأحداث:</p> <table border="1" style="margin-left: auto; margin-right: auto;"> <thead> <tr> <th>التاريخه</th> <th>الحدث</th> </tr> </thead> <tbody> <tr> <td>1955/08/20</td> <td>هجمات الشمال القسنطيني</td> </tr> <tr> <td>1956/2/24</td> <td>تأسيس الاتحاد العام للعمال الجزائريين</td> </tr> <tr> <td>1945/10/24</td> <td>الإعلان عن تأسيس هيئة الأمم المتحدة</td> </tr> </tbody> </table>	التاريخه	الحدث	1955/08/20	هجمات الشمال القسنطيني	1956/2/24	تأسيس الاتحاد العام للعمال الجزائريين	1945/10/24	الإعلان عن تأسيس هيئة الأمم المتحدة
التاريخه	الحدث									
1955/08/20	هجمات الشمال القسنطيني									
1956/2/24	تأسيس الاتحاد العام للعمال الجزائريين									
1945/10/24	الإعلان عن تأسيس هيئة الأمم المتحدة									
06										
		<p><b>الجزء الثاني: المقدمة: الحركات التحررية بين تعدد الأساليب وموقف المعسكرين منها. العرض:</b></p> <p>1- نماذج لأساليب التحرر:</p> <p>*- الهند: كفاح سياسي بقيادة غاندي مبني على مبدأ اللاعنف واللاخوف. (إضرابات، مظاهرات، مقاطعة، عصيان).</p> <p>0.50</p> <p>*- الجزائر: الدمج بين الكفاح السياسي والمسلح.</p> <p>0.50</p> <p>- سياسي: نشاط دبلوماسي، تنظيمات، أنشطة، مظاهرات.</p> <p>- مسلح: نشاط جيش التحرير الوطني.</p> <p>0.50</p> <p>*- كوبا: مسلح ضد نظام عميل.</p> <p>2- موقف المعسكرين من الحركات التحررية في العالم الثالث :</p> <p>0.75</p> <p>أ-المعسكر الشرقي: دعم الحركات التحررية لضرب مصالح المعسكر الغربي وتحويلها إلى مناطق نفوذ.</p> <p>0.75</p> <p>ب-المعسكر الغربي: مناهضة الحركات التحررية ودعم الاستعمار التقليدي ثم سياسة ملء الفراغ.</p> <p>0.50</p> <p>الخاتمة: تمكن شعوب المستعمرات من استغلال الظروف الدولية للتخلص من قبضة الاستعمار التقليدي.</p>								
04										



		<b>ثانيا: جغرافيا الجزء الأول: 1- أ- مفهوم المصطلحات:</b>
	0.75	-الأزمة المالية: اضطراب مالي يحدث في المؤسسات المالية نتيجة وجود عجز في السداد أو انخفاض مفاجئ في الأسعار يؤثر سلبا في قطاعات الدولة قد يؤدي بها إلى الانهيار.
	0.75	-منطقة اليورو: الاسم الذي يطلق على دول الاتحاد الأوروبي المنظمة إلى العملة الموحدة اليورو، بدأ العمل بها سنة 1999، تضم 18 دولة إلى غاية 2014 من مجموع 28 دولة عضو في الاتحاد.
06	0.75	-الدول النامية: هي الدول السائرة في طريق النمو والتي يقع معظمها في النصف الجنوبي من الكرة الأرضية بقارات آسيا، إفريقيا وأمريكا اللاتينية وتتميز بغناها بالمواد الأولية إلا أنها تعاني التخلف والتبعية للعالم المتقدم.
	1.50	ب- الخريطة: - الإنجاز.
	0.50	- العنوان.
		<b>2- التعليق على الجدول :</b>
	0.25	- تركيز وتنوع مناطق التبادل التجاري للجزائر مع العالم المتقدم (أوروبا، أمريكا الشمالية، آسيا ) للاختلاف في البنية الاقتصادية.
	0.25	- التفاوت في نسب المبادلات التجارية الجزائرية مع الدول الواردة في الجدول.
	0.25	- اختلال قيمة المبادلات التجارية مع بعض الدول ( استيرادا وتصديرا).
	0.25	- احتلال فرنسا الصدارة في الاستيراد والثالثة في التصدير.
	0.25	- الصين الثانية في الاستيراد والسادسة في التصدير.
	0.25	- الوم أ السادسة في الاستيراد والأولى في التصدير.
	0.25	- التوازن في المبادلات التجارية الجزائرية مع تركيا وإيطاليا.
	0.25	<b>الجزء الثاني: المقدمة:</b> منطقة شرق وجنوب شرق آسيا بين الاستثمار العقلاني للعنصر البشري وبروزها كقوة فاعلة ومؤثرة في الاقتصاد العالمي.
	0.50	<b>العرض: 1- عوامل القوة الاقتصادية لمنطقة شرق وجنوب شرق آسيا:</b>
	0.25	- العامل التاريخي والسياسي (الاستقرار، الإصلاحات، الاستفادة من المساعدات وتبادل الخبرات ...).
	0.25	- العامل الطبيعي (الموقع الإستراتيجي، الإشراف على المسطحات المائية).
	0.25	- العامل البشري: قوة ديمغرافية (الاستثمار الجيد للمجال البشري- روح التحدي للسكان - اتساع الأسواق الاستهلاكية- يد عاملة مؤهلة ورخيصة ومنضبطة).
	0.75	- العامل الاقتصادي:- ضخامة وتنوع الإمكانات الطبيعية والمادية خاصة الصين. - كثرة رؤوس الأموال الداخلية والخارجية. - الاعتماد على سياسة التكتلات ( الآسيان ). - التطور العلمي والتكنولوجي.
		<b>2- المكانة الاقتصادية للمنطقة في الاقتصاد العالمي:</b>
	0.25	- استحواذ المنطقة على ربع الثروة العالمية.
	0.25	- قوة الاستثمار 21.52% من الاستثمار العالمي.
	0.25	- قوة الأسطول التجاري 57.9% من إجمالي سفن العالم.
	0.25	- ضخامة المنتج الصناعي وتنوعه (الفلواذ 36%، السيارات 70%).
	0.25	- ارتفاع نسبة النمو الاقتصادي (الصين 10%).
		- قوة المساهمة في التجارة العالمية:
	0.25	- تصديرا: الصين الأولى واليابان الثالثة، كوريا الجنوبية الرابعة.
	0.25	- استيرادا: الصين الثانية، اليابان الثالثة، هونغ كونغ الرابعة.
04	0.50	الخاتمة: دول شرق وجنوب شرق آسيا قوة اقتصادية متنامية، منافسا جديدا لكل من الاتحاد الأوروبي والو. م. أ. ملاحظة: تقبل كل الإجابات الصحيحة الأخرى مع احترام سلم التقييم الوطني.



## الدول العشر الأولى المنتجة للأرز سنة 2011





دورة: جوان 2015

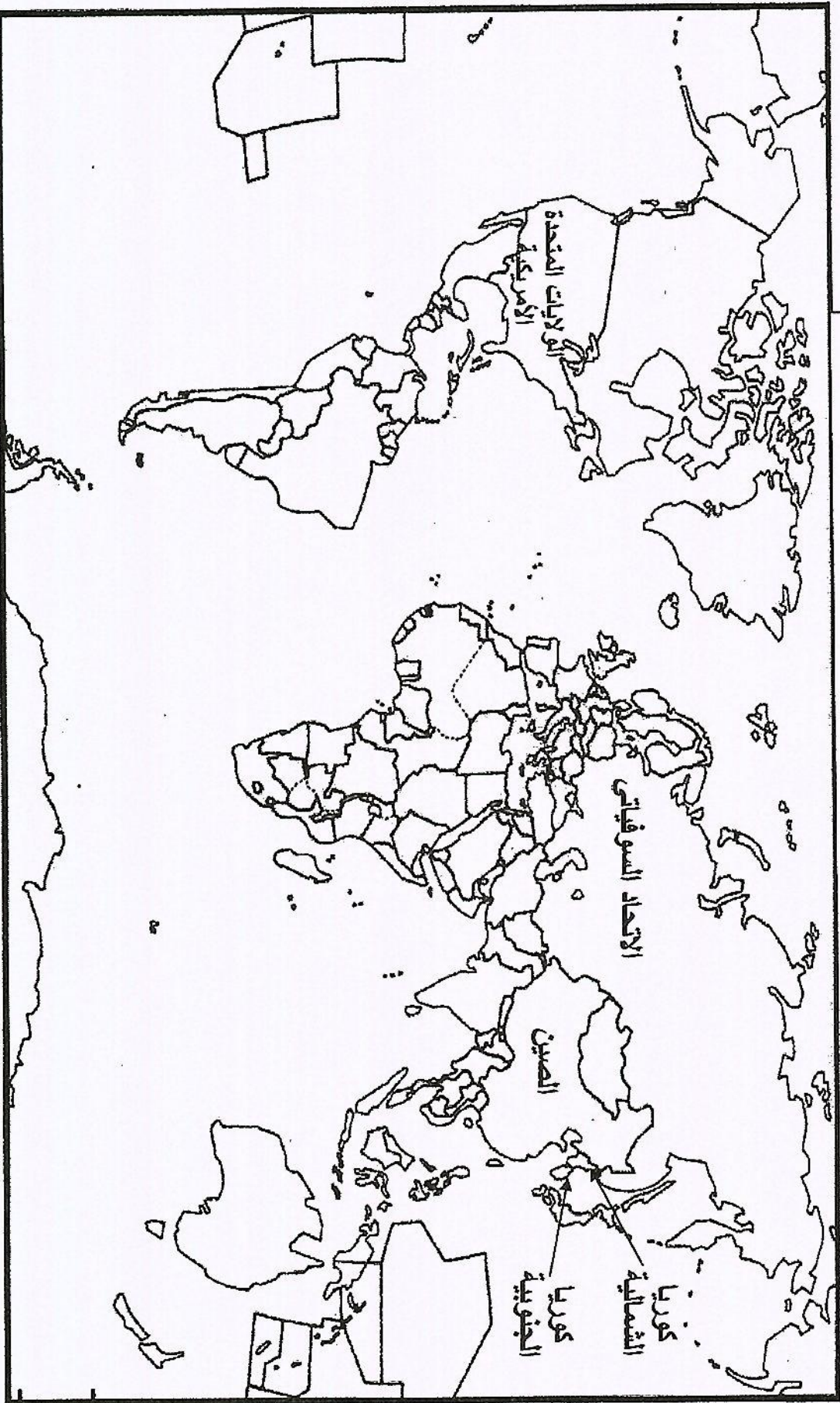
مادة: التاريخ و الجغرافيا

تابع الإجابة النموذجية لموضوع امتحان: البكالوريا

المدة: 30 و 30د

الشعبة/السلك: لغات أجنبية

### بعض مناطق الصراع بين الو . م . أ والاتحاد السوفياتي





تاريخ الإجابة النموذجية لموضوع امتحان: البكالوريا  
مادة: التاريخ و الجغرافيا  
دورة: جوان 2015  
الشفية/السلوك: لغات أجنبية  
المدة: 03س و 30د

الدول الواردة في الوثيقة

