



على المترشح أن يختار أحد الموضوعين الآتيين:
الموضوع الأول

التاريخ:

الجزء الأول: (06 نقاط)

1) "... بعد انحسار موجة الاستعمار برز إلى العالم الصراع شرق - غرب وأخذ حيزا مهما من تاريخ العلاقات الدولية بينما استمر الصراع شمال - جنوب بشعارات مختلفة تمحورت حول النضال من أجل الاستقلال ورفض التبعية وعدم الانحياز إلى أي من الكتلتين ... "

المرجع : د /علي صبح - الصراع الدولي في نصف قرن 1948-1995 ص 185

المطلوب:

- اشرح ما تحته خط في النص.

2) عرّف بالشخصيات التالية: - فرحات عباس - فيدال كاسترو

3) على خريطة أوروبا المرفقة وّقع أربع دول استقادت من مشروع مارشال 1947.

الجزء الثاني: (04 نقاط)

وضع بيان 01 نوفمبر 1954 استراتيجية تنفيذ الثورة من أجل استرجاع السيادة الوطنية، وحدد ميثاق طرابلس جوان 1962 معالم بناء الدولة الجزائرية الحديثة.

المطلوب: انطلاقا من العبارة واعتمادا على ما درست، اكتب مقالا تاريخيا تبين فيه:

1) أهمية بيان نوفمبر في مسار الثورة الجزائرية.

2) الاختيارات السياسية والاقتصادية التي حددها ميثاق طرابلس لبناء الدولة الجزائرية.



الجغرافيا:

الجزء الأول: (06 نقاط)

1) "...ولكن التّداعيات الخطيرة للصدمة البترولية المعاكسة لعام 1986 على الاقتصاد الجزائري ولا سيما الانخفاض الكبير للمداخل النفطية والعجز في الموازنة العامة وميزان المدفوعات دفع بالسلطات إلى إعادة النّظر في نهجها الاقتصادي المتّبع من خلال تبني خيار التّحول نحو اقتصاد السوق ..."

المرجع: مستقبل الانفتاح التجاري في الجزائر (ص02)

مراد يونس وعبدالحاميد مرغيت جامعة جيجل

المطلوب: اشرح ما تحته خطّ في النّص.

2) إليك جدولا يمثل نسب المبادلات التجارية للولايات المتحدة الامريكية عام 2017

الدول	كندا و المكسيك	الاتحاد الأوروبي	اليابان	الصين	باقي دول العالم
الصادرات	34%	18.3%	4.4%	8.4%	34.9%
الواردات	25.9%	18.5%	5.8%	21.8%	28%

المصدر: المنظمة العالمية للتجارة (إحصائيات 2018)

المطلوب:

أ- مثّل معطيات الجدول بأعمدة بيانية في مجال واحد بمقياس: 1 سم = 5%
1سم = سمك العمود

ب- علق على الرّسم.

الجزء الثاني (04 نقاط)

بقدر ما لحركة رؤوس الأموال من دور إيجابي على الاقتصاد العالمي، إلا أنّها لا تخلو من سلبيات.

المطلوب: انطلاقا من العبارة واعتمادا على ما درست، اكتب مقالا جغرافيا تبين فيه:

- 1) أهمية حركة رؤوس الأموال في الاقتصاد العالمي.
- 2) سلبيات حركة رؤوس الأموال على الاقتصاد العالمي.

انتهى الموضوع الأول



الموضوع الثاني

التاريخ:

الجزء الأول: (06 نقاط)

(1) " ... بهدف تطوير سياسة الحياد الإيجابي وعدم الانحياز، وبلورتها وتوسيع نطاقها عُقد في بيروني بيوغسلافيا في جوان 1956 اجتماعا ضمّ الزعماء (جواهر لال نهرو) وجوزيف بروز تيتو و(جمال عبد الناصر)، أكدوا في قراراته على مبادئ مؤتمر باندونغ ... وطالبوا بالإضافة إلى ذلك ضرورة نزع السلاح وحظر التجارب النووية..."

المرجع: دور الجزائر في حركات التحرر العربية (ص 58)
مذكرة تخرج جامعة خميس مليانة.

المطلوب:

- اشرح ما تحته خطّ في النصّ.

(2) عرّف بالشخصيات التي بين قوسين في النصّ.

(3) أكمل الجدول التالي:

التاريخه	الحدث
.....	العدوان الثلاثي على مصر
.....	معركة ديان بيان فو

الجزء الثاني: (04 نقاط)

أدرك الاتحاد السوفيتي أنّ الأهداف التي أعلنت عنها الولايات المتحدة الأمريكية في طرحها لمبدأ ترومان 12-03-1947 ومشروع مارشال 05-06-1947 تُخفي وراءها أهدافا تُشكل خطرا على مصالحه في القارة الأوروبية.

المطلوب: انطلاقا من العبارة، واعتمادا على ما درست، اكتب مقالا تاريخيا تبرز فيه:

(1) الأهداف الخفية لمبدأ ترومان ومشروع مارشال.

(2) ردّ فعل الاتحاد السوفيتي على ذلك.



الجغرافيا:

الجزء الأول: (06 نقاط)

(1) "... انطلقت الشركات متعدّدة الجنسيات... لتُجبر الجنوب على مبادئ استثمارية جديدة تُدعمها في ذلك برامج الإصلاح لصندوق النقد الدولي التي ركّزت على خفض الرسوم الجمركية على السلع المستوردة وتوسيع امتيازات الاستثمار الأجنبي..."

المرجع: سلسلة دراسات ص 27 جامعة الملك عبد العزيز (الإصدار الرابع)

المطلوب: اشرح ما تحته خطّ في النصّ.

(2) إليك جدولا يمثّل نسب صادرات أهم الشركاء التجاريين للجزائر عام 2013.

الدول	فرنسا	إيطاليا	الصين	ألمانيا	إسبانيا	الو.م.أ.	تركيا	الأرجنتين
النسبة %	11.4	10.3	12.4	5.2	9.3	4.3	3.8	3.2

الديوان الوطني للإحصاء، 2014، ص 82.

أ- علّق على المعطيات الواردة في الجدول.

ب- على خريطة أوروبا المرفقة وقّع الدول العضوة في الاتحاد الأوروبي الواردة في الجدول.

الجزء الثاني: (04 نقاط)

تعتبر الولايات المتحدة الأمريكية أكبر قوّة تجارية في العالم، إلّا أنّها تعاني عجزا كبيرا في ميزانها التجاري.

المطلوب: انطلاقا من العبارة، واعتمادا على ما درست، اكتب مقالا جغرافيا تبين فيه:

(1) مظاهر القوة التجارية للولايات المتحدة الأمريكية.

(2) أسباب عجز ميزانها التجاري.

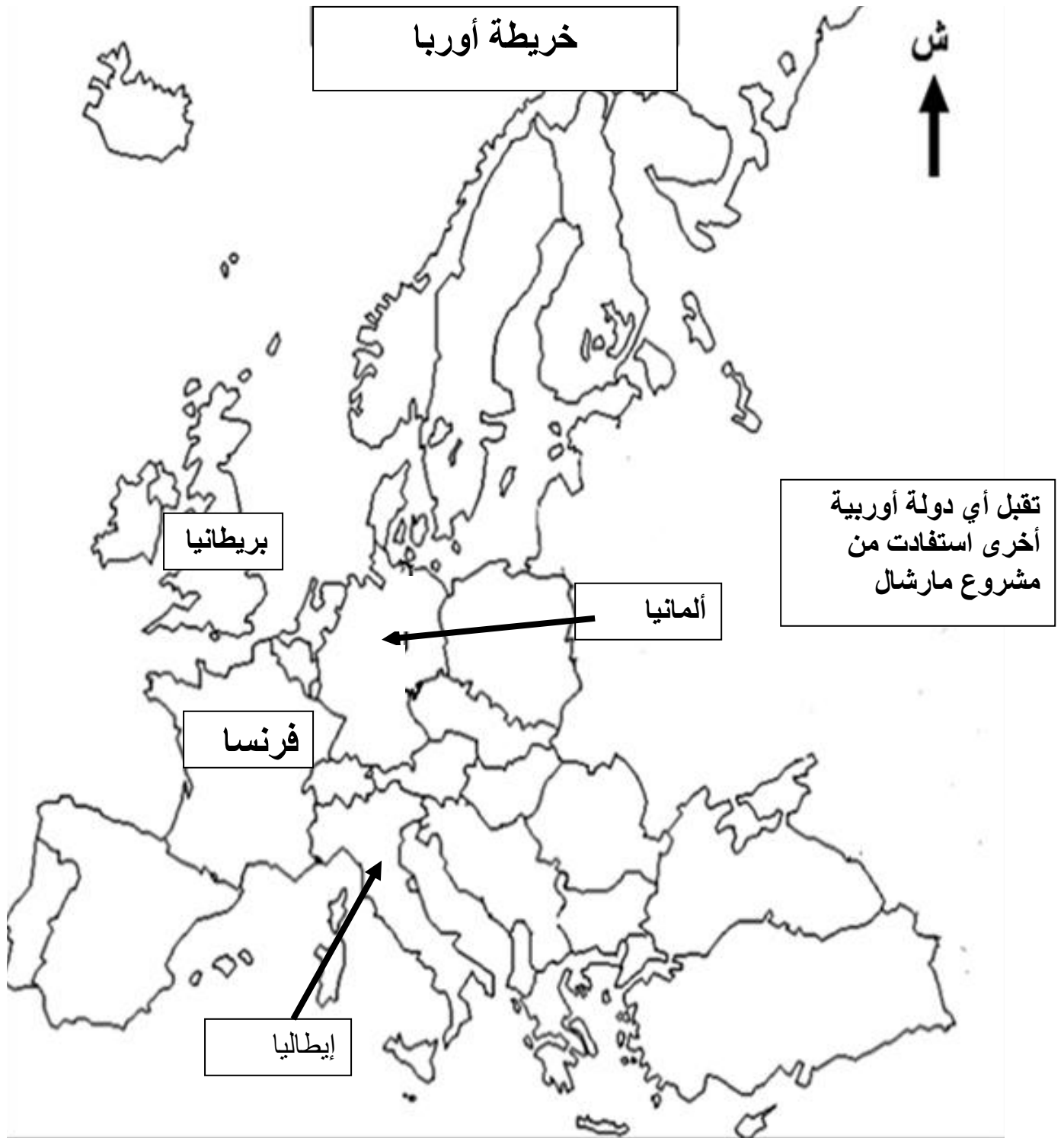
انتهى الموضوع الثاني



ينجز العمل المطلوب على الخريطة المرفقة وتعاد مع أوراق الإجابة

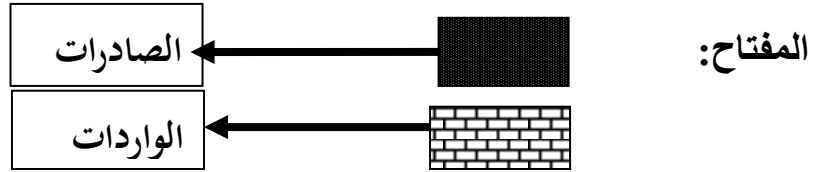
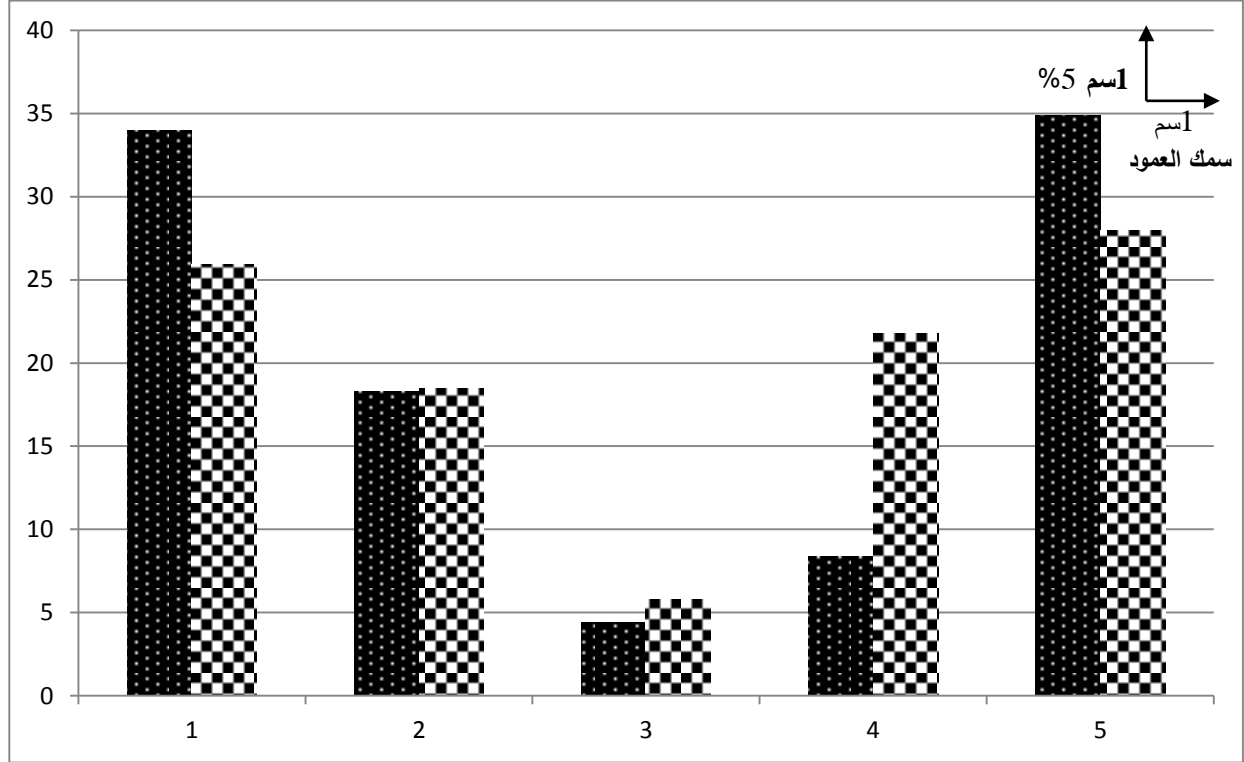
العلامة		عناصر الإجابة (الموضوع الأول)				
مجموع	مجزأة					
06	01	<p>التاريخ</p> <p>الجزء الأول (06 نقاط)</p> <p>(1) شرح المصطلحات التي تحتها خط في النص:</p> <p>• الصراع شرق-غرب: صراع فكري إيديولوجي بين الشرق الشيوعي بزعامة الاتحاد السوفياتي والغرب الرأسمالي (الوم أ) (0.50 ن)، اصطلح عليه بمصطلح الحرب الباردة في الفترة ما بين 1945/ 1989، حيث سعى كل طرف لفرض هيمنته على الآخر (0.50 ن).</p> <p>• النضال: أسلوب كفاح يعبر عن التوجه السياسي أو الفكري، اعتمد على وسائل عديدة.</p> <p>(2) التعريف بالشخصيات:</p> <p>• فرحات عباس: سياسي جزائري وزعيم التيار الإدماجي، حرر بيان فبراير 1943، أسس الاتحاد الديمقراطي للبيان الجزائري (0.75 ن)، التحق بصفوف الثورة التحريرية، أول رئيس للحكومة المؤقتة للجمهورية الجزائرية سنة 1958 (0.50 ن) ...</p> <p>• فيدال كاسترو: تاجر وسياسي كوبي، قائد الثورة ضد العميل جون باتيستا في كوبا (0.50 ن)، رئيس كوبا 1959، قوبلت سياسته بالعداء من طرف الولايات المتحدة الأمريكية التي حاولت الإطاحة به، تقرب من السوفييات مما تسبب في نشوب أزمة الصواريخ (0.25 ن).</p> <p>(3) التوقيع على الخريطة أربع دول أوروبية استفادت من مشروع مارشال:</p> <p>ملاحظة: (تقبل كل الدول الأوروبية الأخرى التي استفادت من مشروع مارشال)</p> <p>(4×0.25 + العنوان 0.50 + المفتاح 0.50)</p>				
		04	01	<p>الجزء الثاني: (04 نقاط)</p> <p>مقدمة: موثيق الثورة الجزائرية في الكفاح المسلح وبناء الدولة الجزائرية. (تقبل كل مقدمة وجبهة)</p> <p>(1) أهمية بيان نوفمبر في مسار الثورة الجزائرية:</p> <p>• وثيقة رسمية حددت المعالم الأولى للثورة (الوسائل الأفاق)</p> <p>• وضع أسس بناء الدولة الجزائرية والقضاء على النظام الاستعماري.</p> <p>• أول وسيلة إعلامية إقليمية ودوليا.</p> <p>• حدد مبادئ الثورة وأهدافها.</p> <p>(2) الاختيارات السياسية والاقتصادية التي حددها ميثاق طرابلس 1962 لبناء الدولة الجزائرية:</p> <p>✓ الاختيارات السياسية:</p> <p>• تشييد دولة عصرية على أسس ديمقراطية في إطار الحزب الواحد.</p> <p>• محاربة الاستعمار والإمبريالية ودعم حركات التحرر.</p> <p>• العمل على تجسيد الوحدة المغاربية والعربية والإفريقية والدعم الفعال للسلم والتعاون الدوليين.</p> <p>✓ الاختيارات الاقتصادية:</p> <p>• تبني النظام الاشتراكي ومحاربة الاحتكارات والاقطاعية.</p> <p>• بناء اقتصاد وطني ومتكامل وتحقيق الاستقلال الاقتصادي.</p> <p>• تطبيق سياسة التخطيط ومراجعة العلاقات الاقتصادية مع الخارج.</p>		
				02	02	<p>خاتمة: جسدت موثيق الثورة (بيان نوفمبر وميثاق طرابلس) تطلعات الشعب الجزائري لبناء دولة ذات مؤسسات سياسية واقتصادية...</p> <p>تقبل كل خاتمة وجبهة</p> <p>تقبل كل إجابة أخرى صحيحة</p>
						02

العلامة		عناصر الإجابة (الموضوع الأول)
مجموع	مجزأة	
06		جغرافيا
		الجزء الأول: (06 نقاط)
	3×0.25	<p>(1) شرح المصطلحات التي تحتها خط في النص:</p> <ul style="list-style-type: none"> • ميزان المدفوعات: سجل تُسجل فيه القيم النقدية لمختلف المعاملات التجارية والمالية (0.25 ن) التي تتم بين الأعوان (الأشخاص والمؤسسات) المقيمين في الدولة وغير المقيمين (0.25 ن) خلال فترة معينة عادة ما تكون سنة (0.25 ن). • اقتصاد السوق: نمط اقتصادي يقوم على الحرية الفردية والمنافسة والانفتاح على العالم (0.50 ن)، يحكمه قانون العرض والطلب (0.25 ن)
	0.75	<p>(2) طبيعة صادرات وواردات الولايات المتحدة الأمريكية:</p> <ul style="list-style-type: none"> • الصادرات: مواد مصنعة ونصف مصنعة، منتوجات زراعية مختلفة، خدمات ... الواردات: مواد أولية معدنية وطاقوية مختلفة، محاصيل زراعية استوائية، مواد مصنعة.
	4×0.50	<p>(3) التعليق على الرسم:</p> <ul style="list-style-type: none"> • تباين في نسب المبادلات التجارية للوم أ عام 2017. • تعدد مناطق التبادل التجاري للوم أ لسنة 2017. • ارتفاع نسبة الصادرات مع كندا والمكسيك "تكتل الينا" ومع بقية دول العالم. • ارتفاع الواردات مع الاتحاد الأوروبي والصين.
	0.50	<p style="text-align: right;">الجزء الثاني: (04 نقاط)</p> <p>مقدمة: حركة رؤوس الأموال بين دورها الإيجابي في العلاقات الاقتصادية ودورها السلبي. (تقبل كل مقدمة وجيبة)</p>
04	0.50	<p>(1) أهمية حركة رؤوس الأموال في العلاقات الاقتصادية الدولية:</p> <ul style="list-style-type: none"> • توفير السيولة النقدية لتنشيط الحركة التجارية (الصادرات، الواردات). • تساعد على ازدهار الأسواق (المحلية أو الدولية). • تنشيط البنوك والمصارف المحلية والدولية بالتحويلات المالية والادخار سواء أفراد أو مؤسسات. • تدعيم الاستثمارات الخارجية ودور الشركات العالمية في النمو الاقتصادي الإقليمي والدولي. • تحقيق أرباح ضخمة من خلال نشاط البورصات أو القروض البنكية.
	0.25	
	0.25	
	0.25	
	0.25	
	0.25	
	0.25	
	0.25	
	0.25	
	0.25	
0.25		<p>(2) سلبيات حركة رؤوس الأموال على الاقتصاد العالمي:</p> <ul style="list-style-type: none"> • تعرض الاقتصاد العالمي لأزمات مالية (1929-1988-2008). • تبييض الأموال الناتجة عن (المخدرات-الفدية-الاختلاس-الرشوة) • عدم استقرار سعر العملات. • استقطاب بعض الدول لأموال التهريب (ملذات ضريبية آمنة) • استقطاب البنوك والمؤسسات والنوادي المالية لرؤوس الأموال العالمية (احتكار)
0.50		<p>خاتمة: الانعكاسات السلبية للسوق المالية تعكس هشاشة النظام المالي العالمي. تقبل كل خاتمة وجيبة تقبل كل الإجابات الصحيحة الأخرى</p>



توقيع أربع دول أوروبية استفادت من مشروع مارشال

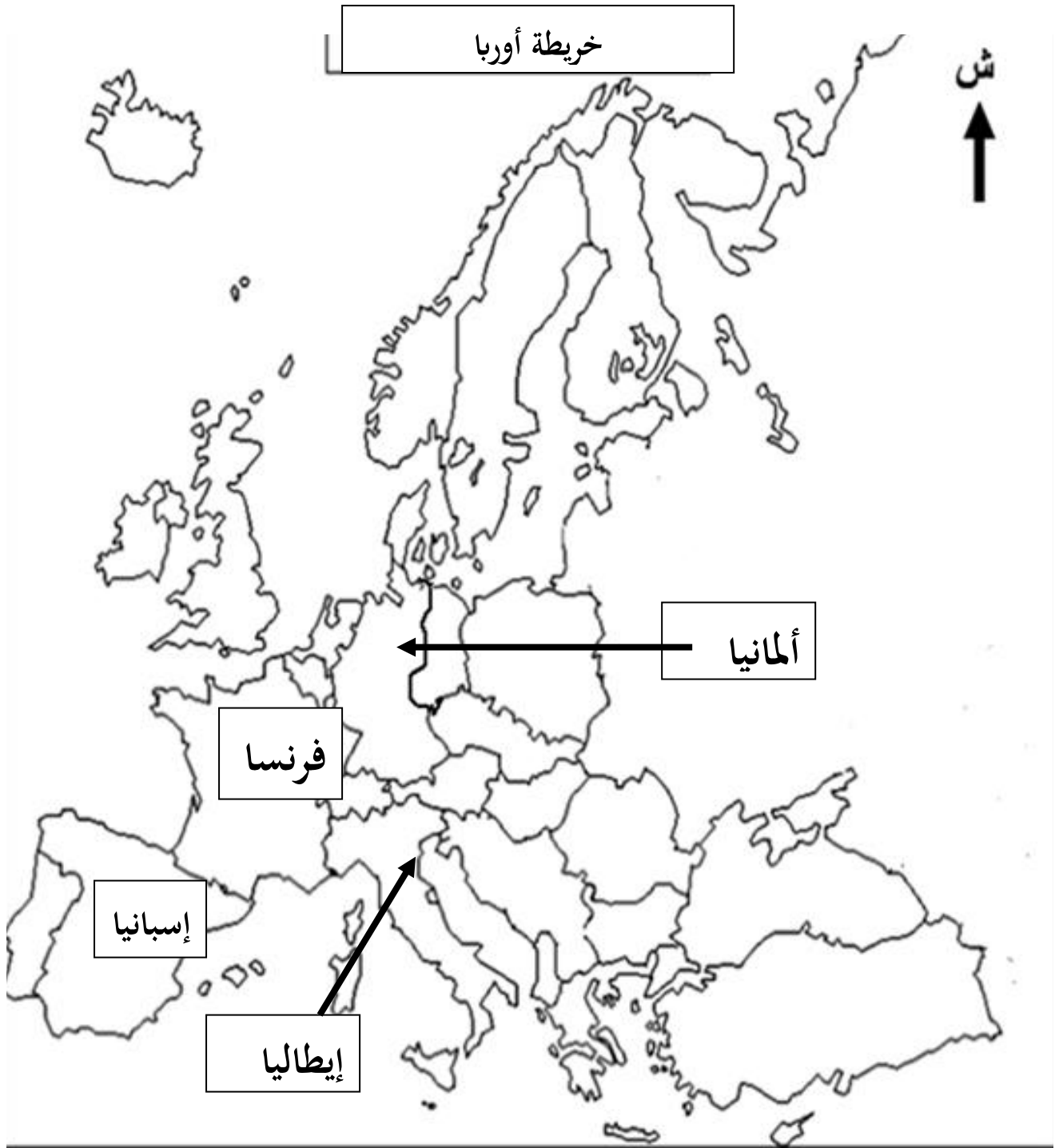
أعمدة بيانية تمثل نسب المبادلات التجارية للولايات المتحدة الأمريكية عام 2017



- (1) كندا والمكسيك
- (2) الاتحاد الأوروبي
- (3) اليابان
- (4) الصين
- (5) باقي العالم

العلامة		عناصر الإجابة (الموضوع الثاني)						
مجموع	مجزأة							
06	ع	التاريخ						
		الجزء الأول: (06 نقاط)						
		(1) شرح المصطلحات الواردة في النص:						
		01 • الحياد الإيجابي: سياسة تبنتها الدول المستقلة حديثا خلال انعقاد مؤتمر باندونغ (0.50 ن)، تقوم على عدم الميل إلى أي من المعسكرين، والعمل على مناصرة القضايا العادلة (0.50 ن).						
		01 • مؤتمر باندونغ: انعقد بين 18 و24 أبريل 1955 بمدينة باندونغ بإندونيسيا (0.50 ن)، لدعم الحركات التحررية ووضع مبادئ حركة عدم الانحياز (0.50 ن)						
		(2) التعريف بالشخصيات:						
		01 • جمال عبد الناصر: زعيم مصري، من قادة الثورة المصرية عام 1952، ترأس مصر 1954-1970 (0.50 ن)، من مؤسسي حركة عدم الانحياز، ومن أكبر المدعين للحركات التحررية (0.50 ن).						
		01 • جواهر لال نهرو: زعيم سياسي هندي، قاد الكفاح السلمي إلى جانب غاندي ضد الاستعمار البريطاني (0.50 ن)، أمين عام حزب المؤتمر الوطني، من مؤسسي حركة عدم الانحياز وأبرز زعمائها (0.50 ن)						
		(3) جدول الأحداث:						
		2×01		<table border="1"> <thead> <tr> <th>التاريخ</th> <th>الحدث</th> </tr> </thead> <tbody> <tr> <td>13 مارس إلى 07 ماي 1954</td> <td>معركة ديان بيان فو</td> </tr> <tr> <td>10 - 29 - 1956</td> <td>العدوان الثلاثي على مصر</td> </tr> </tbody> </table>	التاريخ	الحدث	13 مارس إلى 07 ماي 1954	معركة ديان بيان فو
التاريخ	الحدث							
13 مارس إلى 07 ماي 1954	معركة ديان بيان فو							
10 - 29 - 1956	العدوان الثلاثي على مصر							
04	ع	الجزء الثاني: (04 نقاط)						
		0.50 مقدمة: الاستراتيجية الاقتصادية الغربية ورد فعل الاتحاد السوفيتي عليها. (تقبل كل مقدمة وجيهة)						
		(1) الأهداف الخفية لمبدأ ترومان ومشروع مارشال:						
		0.25 أ) الأهداف الخفية لمبدأ ترومان:						
		0.25 - سدّ الفراغ الذي تركته بريطانيا والحصول على منطقة نفوذ في البحر المتوسط.						
		0.25 - منع الاتحاد السوفيتي من الوصول إلى المياه الدافئة والوقوف في وجه الشيوعية في المنطقة.						
		(ب) الأهداف لمشروع مارشال:						
		0.50 - منع الزحف الشيوعي نحو أوروبا.						
		0.25 - ربط الاقتصاد الأوروبي بالاقتصاد الأمريكي، وتثبيت الرأسمالية في أوروبا.						
		0.25 - تخلص الو م أ من فائض إنتاجها وإنعاش شركاتها.						
×0.25 (2) رد فعل الاتحاد السوفيتي على ذلك:								
3 • طرح مبدأ جدا نوف 22-09-1947 (0.25 ن) الذي نتج عنه تأسيس مكتب الإعلام الشيوعي								
0.75 • تأسيس منظمة الكوميكون 25-01-1949 (0.25 ن)، تقوم على التعاون الاقتصادي بين الدول الشيوعية والاتحاد السوفيتي (0.50 ن).								
0.5 خاتمة: إدراك الاتحاد السوفيتي لمخططات الولايات المتحدة الأمريكية أحبط سياستها في زعزعة المعسكر الشرقي.								
		تقبل كل خاتمة وجيهة						

العلامة		عناصر الإجابة (الموضوع الثاني)
مجموع	مجزأة	
		الجغرافيا
		الجزء الأول: (06 نقاط)
		(1) شرح ما تحته خط:
	0.50	• الرسوم الجمركية: هي ضرائب تفرضها الدول على السلع والبضائع الخارجية (الأجنبية) الواردة إليها بغية حماية منتجاتها الداخلية (الوطنية)...
	0.75	• صندوق النقد الدولي: مؤسسة مالية عالمية تأسست في 1945/12/22 (0.25 ن) وبدأ عمله رسميا في 01 مارس 1947، مقره واشنطن، يهدف إلى تسيير النقد العالمي وضمان احترام الدول لقواعد مؤتمر بروتون ووز (0.25 ن) وتقديم الاستشارة ودعم الدول التي تواجه مشاكل مالية واقتصادية (0.25 ن)
06	0.50	(2) أ- التعليق على المعطيات الواردة في الجدول:
	0.50	• تعدد الشركاء الذين تتعامل معهم الجزائر وتباين نسب صادراتهم نحو الجزائر.
	0.50	• معظم الشركاء من قارة أوروبا.
	0.50	• هيمنة دول الاتحاد الأوربي على المبادلات التجارية مع الجزائر.
	0.25	• بروز الصين كشريك تجاري قوي.
	03	ب- توقيع دول الاتحاد الأوربي الواردة في الجدول: - الإنجاز: 0.50×04 - العنوان: 0.50 - المفتاح: 0.50
	
		الجزء الثاني: (04 نقاط)
	0.50	مقدمة: التجارة الخارجية للو.م.أ بين القوة وعجز ميزانها التجاري. (تقبل كل مقدمة وجيهة)
	0.50	(1) مظاهر القوة التجارية للولايات المتحدة الأمريكية:
	0.50	• ارتفاع نسبة مساهمتها في التجارة العالمية 21.1%.
	0.50	• ضخامة قيمة مبادلاتها التجارية وتنوعها وتعدد مناطق التبادل التجاري.
	0.50	• سيطرتها على العديد من المنتجات والسلع (تجارة القمح) واستعمالها كمادة ضاغطة.
	0.25	• هيمنة شركاتها المتعددة الجنسيات على التجارة العالمية.
04	0.25	• تحكم عملة الدولار في التداولات النقدية للتجارة العالمية (سيطرتها على السوق العالمية).
	0.25	(2) أسباب عجز الميزان التجاري:
	0.25	• ارتفاع قيمة الواردات مقارنة بقيمة الصادرات وعجز ميزان المدفوعات.
	0.25	• تقلص الأسواق التجارية نظرا للمنافسة التي تتعرض لها من الاتحاد الاوربي وجنوب شرق آسيا خاصة الصين.
	0.25	• بروز دول ناشئة جديدة أخرى (الهند البرازيل ...)
	0.25	• تعرض عملتها (الدولار) لهزات مالية من حين لآخر (عدم استقرار قيمتها).
	0.50	خاتمة: رغم الصعوبات التي تواجه التجارة الأمريكية، إلا أنها تبقى قوة تجارية عالمية. تقبل كل خاتمة وجيهة
		تقبل كل الاجابات الصحيحة الأخرى



توقيع دول الاتحاد الأوربي الواردة في الجدول