



الجمهورية الجزائرية الديمقراطية الشعبية

الديوان الوطني للامتحانات والمسابقات

دورة: 2018



وزارة التربية الوطنية

امتحان بكالوريا التعليم الثانوي

الشعبة: تسيير واقتصاد

المدة: 03 سا و 30 د

اختبار في مادة: التاريخ والجغرافيا

على المترشح أن يختار أحد الموضوعين الآتيين:

الموضوع الأول

يحتوي الموضوع الأول على (03) صفحات (من الصفحة 1 من 6 إلى الصفحة 3 من 6)

التاريخ

الجزء الأول: (06 نقاط)

(1) "... ومع ازدياد حدة التوتر في العلاقات الدولية في جِوِّ مشحون بتجديد عوامل تهديد الأمن والسلم العالمي

باستعمال أسلحة التدمير الشامل، في خضم ذلك كله يسجل التاريخ تراجع القوى الاستعمارية

التقليدية... وبروز موجة التحرر في العالم...."

المرجع: الكتاب المدرسي السنة الثالثة ثانوي صفحة 84.

المطلوب: اشرح ما تحته خط في النص.

(2) عرّف بالشخصيات التالية:

- جوزيف بروز تيتو - المهاتما غاندي.

(3) أكمل الجدول التالي:

التاريخ	الحدث
1947 / 03 / 12	
	توقيع اتفاقيات إيفيان

الجزء الثاني: (04 نقاط)

رغم الظروف الداخلية الصعبة التي كانت تمر بها الجزائر قبل اندلاع الثورة المسلحة، إلا أن ذلك لم يمنع من

التحضير لها وتفجيرها، وقد اتخذ الاستعمار الفرنسي إجراءات عديدة للقضاء عليها وهي في بدايتها.

المطلوب: انطلاقا من العبارة واعتمادا على ما درست، اكتب مقالا تاريخيا تبين فيه:

(1) مراحل التحضير لتفجير الثورة الجزائرية.

(2) إجراءات الاستعمار الفرنسي للقضاء على الثورة في بدايتها.



الجغرافيا:

الجزء الأول: (06 نقاط)

1) " إنَّ أبرز سيمات الاقتصاد العالمي في الوقت الراهن تتمثل في حركة السلع والخدمات ورؤوس الاموال والمعلومات والأيدي العاملة عبر الحدود الوطنية، وهذه المميزات تتفق مع ما تدعو إليها منظمة التجارة العالمية وتتناسق مع معطيات النظام الجديد...".

المرجع: مجلة الابحاث الاقتصادية جامعة البليدة، صفحة 147 العدد 14 عام 2016.

المطلوب: اشرح ما تحته خط في النص.

2) إليك جدولاً يمثل نسب انتاج الصلب الخام لبعض دول العالم سنة 2014:

الدول	الصين	اليابان	الو.م.أ.	الهند	روسيا	ألمانيا	بقية العالم
نسبة الانتاج	50%	7%	5%	5%	4%	3%	26%

المرجع: أفاق الاقتصاد العالمي، صندوق النقد الدولي 2015، ص 41.

المطلوب:

- أ) مثل معطيات الجدول بدائرة نسبية بمقياس: (نق = 4 سم) .
- ب) على خريطة العالم المرفقة، وقّع من الجدول دولة واحدة من كل قارة.

الجزء الثاني: (04 نقاط)

تتشارك عوامل عديدة في تقدم الدول أو تخلفها، ولإبراز ذلك يعتمد علماء الاقتصاد على مجموعة من المعايير والمؤشرات تبين التقدم من التخلف.

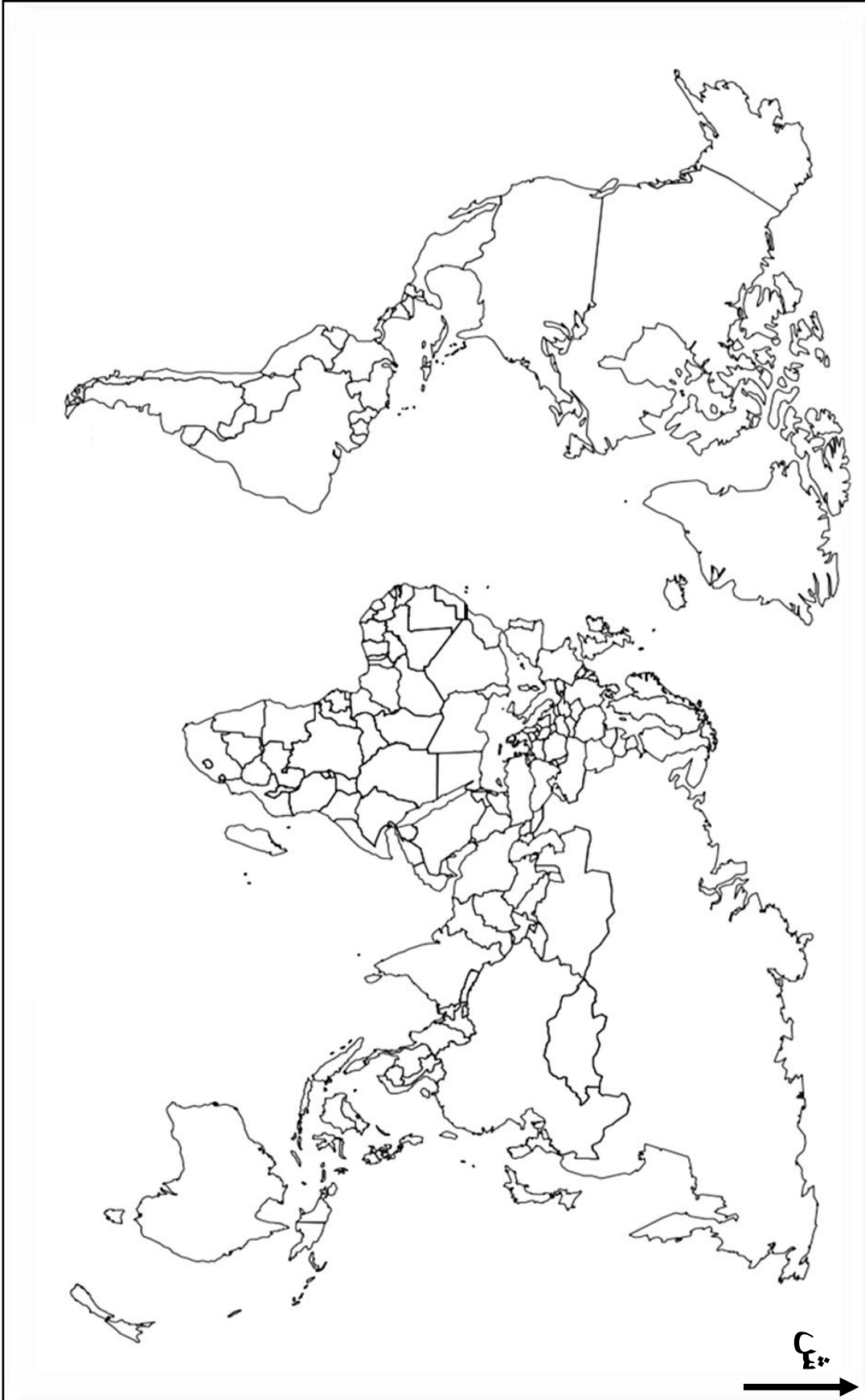
المطلوب: انطلاقاً من العبارة واعتماداً على ما درست، اكتب مقالا جغرافيا تبين فيه:

1) المعايير الاجتماعية والثقافية التي تبين تقدم الدول.

2) أسباب التقدم الاقتصادية والبشرية.



خريطة العالم



انتهى الموضوع الأول

ينجز العمل المطلوب على الخريطة وتعاد مع أوراق الإجابة



الموضوع الثاني

يحتوي الموضوع الثاني على (03) صفحات (من الصفحة 4 من 6 إلى الصفحة 6 من 6)

التاريخ:

الجزء الأول: (06 نقاط)

(1) " ساهمت الدول حديثة العهد بالاستقلال في إرساء التعايش السلمي معبرة عن رفض التبعية للكتلتين، من خلال منابر المنظمات الدولية والدفاع عن السلم والتعاون، وجعلت من مواقفها ومبادئها أهدافا التقت حولها مجموعة دولية جديدة هي حركة عدم الانحياز..."

المرجع: الكتاب المدرسي السنة الثالثة ثانوي ص 83.

المطلوب: اشرح ما تحته خط في النص.

(2) أكمل الجدول التالي:

التاريخ	الحدث
1954 / 03 / 23	
	توحيد الألمانيتين

(3) على خريطة أوروبا المرفقة وقّع ثلاث دول استقادت من مشروع مارشال وثلاث دول عضوة في منظمة الكوميكون.

الجزء الثاني: (04 نقاط)

بلغت شدة التوتر بين القوتين الاتحاد السوفياتي والولايات المتحدة الأمريكية خلال أزمة كوبا حدّ التهديد باستعمال السلاح النووي، غير أنّ نهايتها كانت دون صدام، فلاحت في الأفق بوادر تقارب وانفراج في العلاقات الدولية.

المطلوب: انطلاقا من العبارة واعتمادا على ما درست، اكتب مقالا تاريخيا تبين فيه:

(1) أسباب أزمة كوبا.

(2) انعكاساتها على العلاقات الدولية.



الجغرافيا:

الجزء الأول: (06 نقاط)

(1) "... إنَّ المزايا التي تمنحها المنظمة العالمية للتجارة للدول النامية بمثابة دوافع ومحفزات الانضمام إليها وباعتبار الجزائر من الدول النامية فإنها تستفيد من ... فترة أطول لإزالة القيود على الاستثمارات الأجنبية وفرص أكبر لدخول السلع الوطنية إلى السوق العالمية..."

المرجع: الأثار المحتملة من انضمام الجزائر إلى المنظمة العالمية للتجارة. جامعة الشهيد حمة لخضر صفحة 35/34.

المطلوب: اشرح ما تحته خط في النص.

(2) إليك جدولا يمثل قيمة الاستثمارات الخارجية لبعض الدول الكبرى في العالم عامي 2012 / 2013.

الوحدة: مليار دولار.

البلدان	الو.م.أ	اليابان	الصين	ألمانيا	بريطانيا
عام 2012	338	136	101	58	19
عام 2013	367	123	88	80	35

المرجع: الأونكتاد تقرير الاستثمار العالمي لعام 2014.

المطلوب:

(أ) مثل معطيات الجدول بأعمدة بيانية في مجال واحد. المقياس: 1 سم لكل 40 مليار دولار.

1 سم لكل عمود.

(ب) علق على معطيات الجدول.

الجزء الثاني: (04 نقاط)

إلى جانب انفتاحه على واجهات بحرية عديدة خاصة في الشمال والغرب، ساعدت عوامل تاريخية وطبيعية وبشرية على تحول الاتحاد الأوروبي إلى قوة اقتصادية عالمية.

المطلوب: انطلاقا من العبارة واعتمادا على ما درست، اكتب مقالا جغرافيا تبين فيه:

(1) عوامل القوة الاقتصادية للاتحاد الأوروبي.

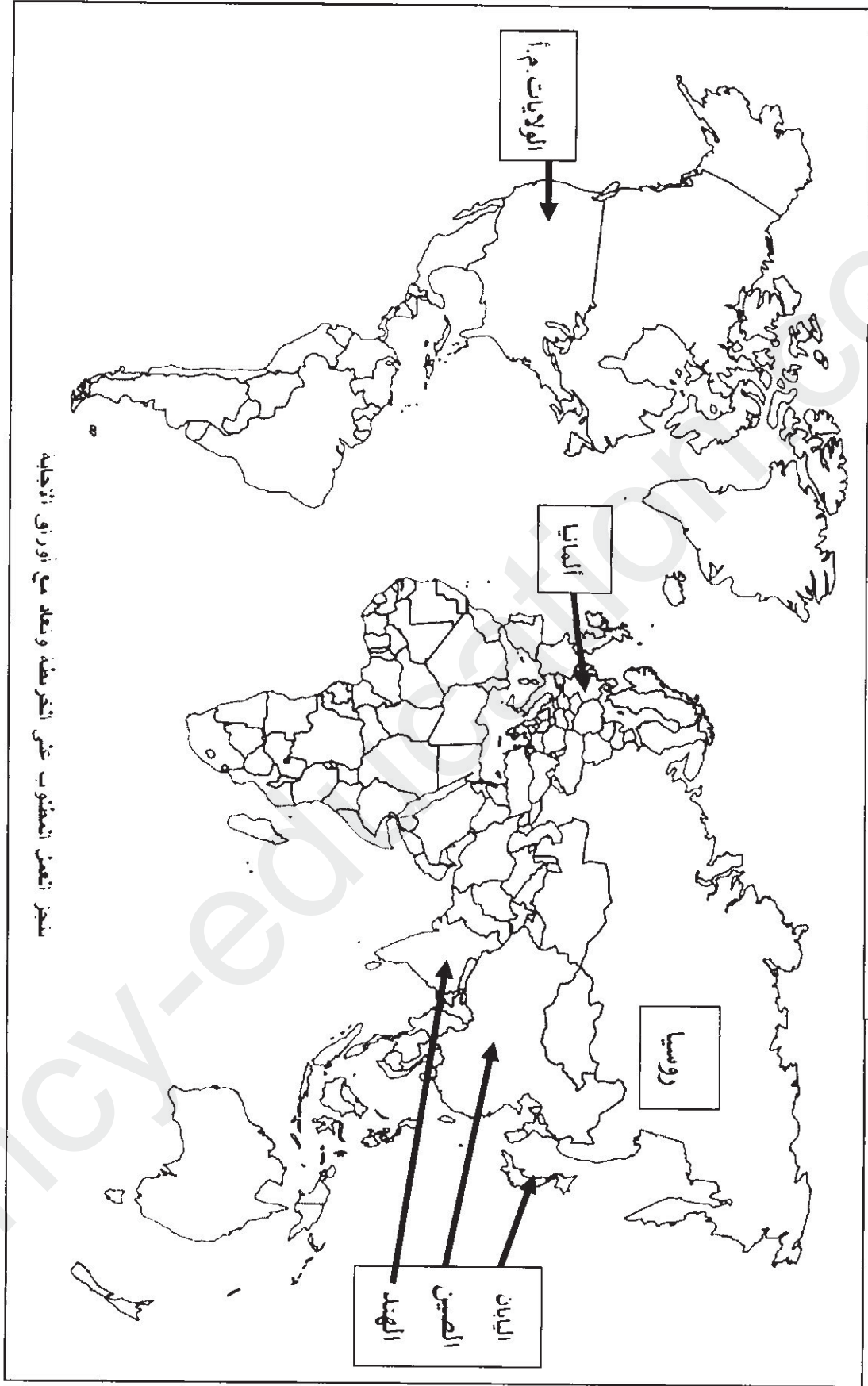
(2) أهمية الواجهة البحرية الشمالية والغربية.



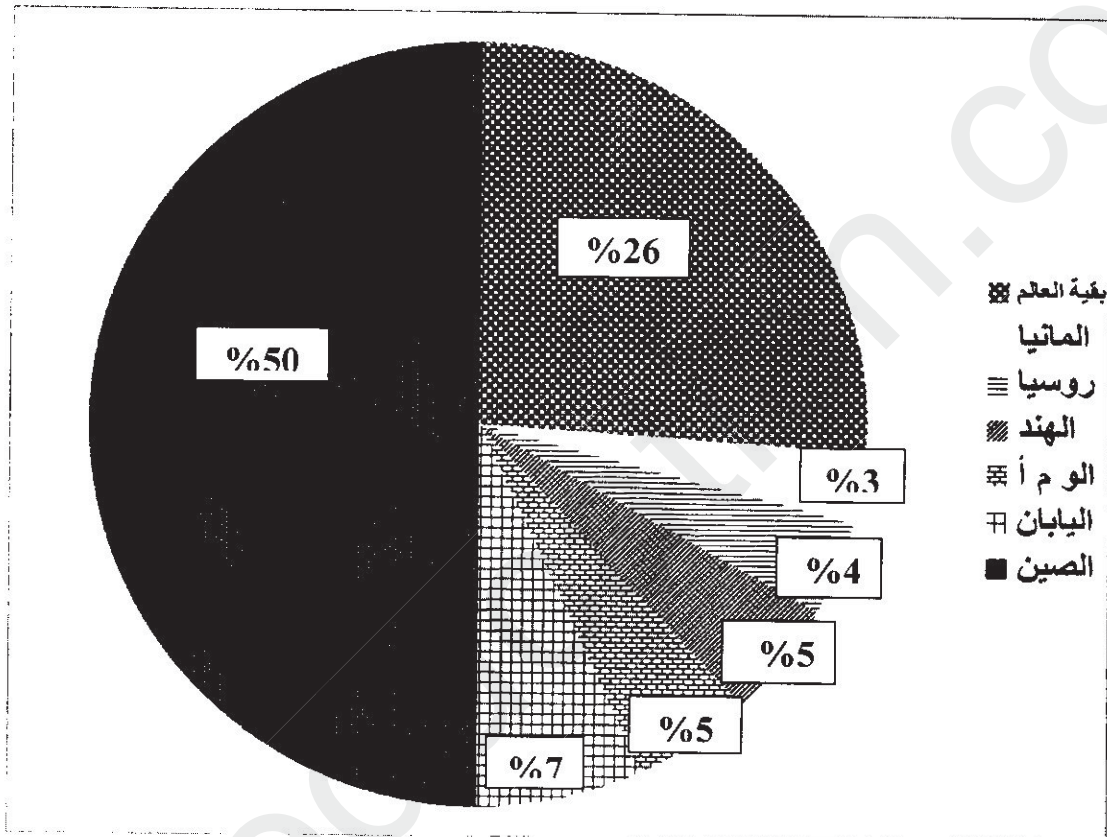
ينجز العمل المطلوب على الخريطة وتعاد مع أوراق الإجابة

العلامة		عناصر الإجابة: (الموضوع الأول)
مجموع	مجزأة	
		التاريخ الجزء الأول:
	01	(1) شرح ما تحته خط في النص: - أسلحة التدمير الشامل: تتمثل في القنبلة النووية والهيدروجينية وغيرها من الأسلحة التي تسابقت القوى الكبرى على إنتاجها وامتلاكها، فاستعمالها يؤدي إلى تدمير الكرة الأرضية.
	01	- موجة التحرر: ذلك النشاط العسكري والسياسي الذي عرفته الشعوب المستعمرة بعد الحرب العالمية الثانية للتحرر من الاستعمار واسترجاع السيادة الوطنية....
	01	(2) التعريف بالشخصيات التالية: - جوزيف بروز تيتو: (1892 - 1980) رئيس يوغسلافيا (سابقا)، أمين عام الحزب الشيوعي، قاد المقاومة ضد النازية، من مؤسسي حركة عدم الانحياز....
06	01	- المهاتما غاندي: (1869 - 1948) سياسي هندي، رجل قانون ومحامي، قاد المقاومة ضد الإنجليز بالهند، صاحب سياسة اللاعنف .
	02	(3) إكمال الجدول: مبدأ ترومان * 1947/03/12 - توقيع اتفاقيات إيفيان 1962/03/18
	0.50	الجزء الثاني: مقدمة : اندلاع الثورة المسلحة بين نجاح التخطيط لاندلاعها وفشل الاستعمار الفرنسي في إخمادها. (تقبل كل مقدمة وظيفية)
	0.25	(1) مراحل التحضير لتفجير الثورة الجزائرية: -إنشاء المنظمة السرية (O.S) 1947. ودورها في التدريب، إنشاء الخلايا الأولى، جمع الأموال والأسلحة....
	0.25	-تأسيس اللجنة الثورية للوحدة و العمل 1954/03/23. وكانت تهدف إلى تحقيق تلاحم القاعدة النضالية....
	0.50	-اجتماع مجموعة 22 في جوان 1954 تم فيه انشاء أول مجلس للثورة يتكون من 06 أعضاء (قادة المناطق والمنسق الوطني).
	0.25	-اجتماع 1954/10/10 تم فيه إعلان تأسيس جبهة التحرير الوطني وجيش التحرير الوطني وتقسيم الجزائر إلى 05 مناطق ثورية.
04	0.25	-اجتماع 1954/10/23 تم فيه إصدار وثيقة بيان 01 نوفمبر 1954 وتحديد يوم وساعة تفجير الثورة....
	0.75	(2) إجراءات الاستعمار الفرنسي للقضاء على الثورة في بدايتها: -تعتيم اعلامي، ونشر ادعاءات لتشويه الحقائق وأن من قام بالثورة (متمردون، قطاع الطرق، خارجون عن القانون، مدعومون من الخارج...).
	0.75	-حصار منطقة الأوراس وتطبيق مبدأ المسؤولية الجماعية، حملة الاعتقالات، تسليح المعمرين، رفع عدد القوات العسكرية....
	0.50	خاتمة: دقة التحضير لتفجير الثورة أفضل كل إجراءات الاستعمار الفرنسي. (تقبل كل خاتمة وظيفية) ملاحظة: (تقبل كل الأجوبة الصحيحة الأخرى).

		الجغرافيا:
		1) شرح ما تحته خط في النص:
		- حركة السلع: عملية نقل البضائع عبر الأسواق الداخلية والخارجية (التجارة الداخلية والخارجية)....
01		- رؤوس الأموال: موارد ثابتة (عقارات) ومتنقلة (أموال) تستخدم في العملية الإنتاجية قصد المساهمة في
01		الدخل القومي وتحقيق التنمية والرفاهية....
06	02	2) تحويل معطيات الجدول الذي يمثل إنتاج الصلب الخام في بعض دول العالم عام 2014 إلى دائرة نسبية:
		* الإنجاز: 01.50 * العنوان: 0.25 * المفتاح: 0.25
	02	3) توقيع على خريطة العالم دولة واحدة من كل قارة الواردة في الجدول: (من الموقعة على الخريطة).
		* الإنجاز: 01.50 * العنوان: 0.25 * المفتاح: 0.25
		الجزء الثاني:
		مقدمة: تعدد المعايير التي تبين التقدم وتنوع أسبابه. (تقبل كل مقدمة وظيفية)
	0.50	1) المعايير الاجتماعية والثقافية التي تبين تقدم الدول:
		أ) المعايير الاجتماعية:
		- ارتفاع المستوى المعيشي (السكن، الصحة، نمط الغذاء، استهلاك المياه الصالحة للشرب....).
		- ارتفاع مؤشر التنمية البشرية أكثر من 0.8 (ارتفاع أمد الحياة والمستوى المعيشي والمعرفي).
	0.75	- ارتفاع الدخل الفردي وارتفاع مستوى التمدن....
		ب) المعايير الثقافية:
		- ارتفاع نسبة التعلم (من 99% إلى 100%).
		- ارتفاع عدد مستخدمي شبكة الأنترنت (230 مليون مستخدم عام 2010) في و.م.أ.
	0.75	- ارتفاع نسبة المقروئية وارتفاع عدد الكتب المنشورة والمجلات والإصدارات العلمية....
04		4) أسباب التقدم الاقتصادية والبشرية:
		أ) الاقتصادية:
		- طبيعة النظام الاقتصادي (الحرية الاقتصادية،....)
	0.75	- ضخامة رؤوس الأموال ودور الشركات العابرة للقارات....
		- التحكم في المؤسسات المالية العالمية والتطور التكنولوجي....
		ب) البشرية:
		- طبيعة الفرد (حب العمل، الإبداع، الاخلاص، الإتيقان....).
	0.75	- قوة البحث العلمي والتحكم في التكنولوجيا وارتباط المؤسسات الصناعية بالجامعة....
		- وفرة اليد العاملة بنوعها....
		خاتمة: ينعكس حسن استغلال الإمكانيات الاقتصادية والبشرية على ارتفاع المؤشرات الاجتماعية والثقافية.
	0.50	(تقبل كل خاتمة وظيفية)
		ملاحظة: (تقبل كل الأجوبة الصحيحة الأخرى).



دائرة نسبية تمثل نسب إنتاج الصلب الخام لبعض الدول الكبرى في العالم عام
2014



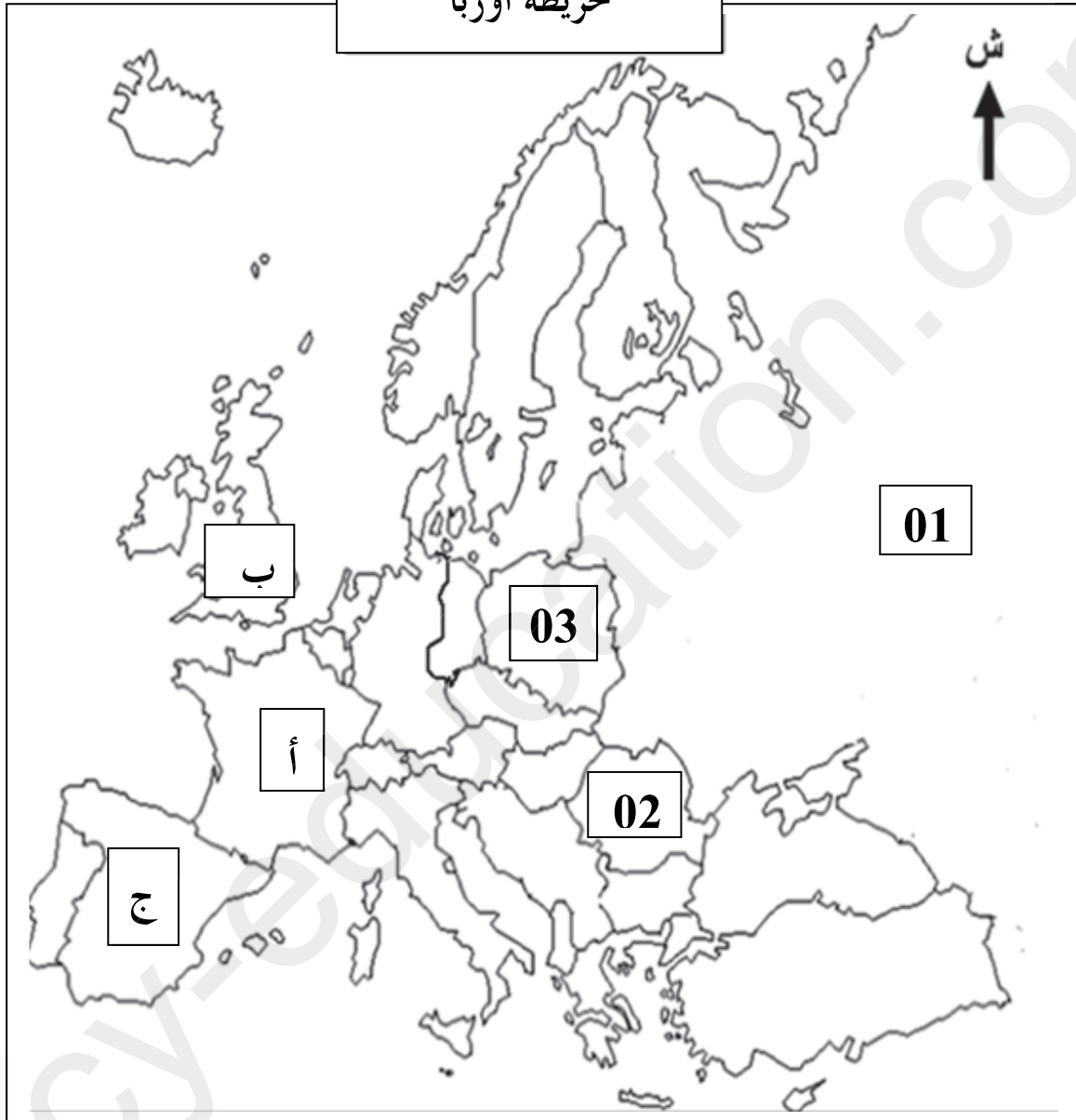
الإجابة النموذجية لموضوع اختبار مادة: التاريخ والجغرافيا/ الشعبة: تسيير واقتصاد/ بكالوريا: 2018

العلامة		عناصر الإجابة (الموضوع الثاني)				
مجموع	مجزأة					
06	01 01 02 02	<p>التاريخ: الجزء الأول:</p> <p>(1) شرح ما تحته خط في النص: - التبعية للكتلتين: يعني ميل الدول لأحد الكتلتين المتصارعتين الشرقية والغربية في إطار الحرب الباردة والذي كانت ترفضه حركة عدم الانحياز....</p> <p>- حركة عدم الانحياز: منظمة اقليمية تأسست خلال انعقاد مؤتمر بلغراد بين 01- 1961/09/06 والتي تدعو إلى عدم الميل لأي من المعسكرين واتباع سياسة الحياد الايجابي.</p> <p>(2) إكمال الجدول:</p> <p>- تأسيس اللجنة الثورية للوحدة والعمل: * 1954/03/23. *توحيد الألمانيتين: 1990/10/03.</p> <p>(3) التوقيع على خريطة أوروبا المرفقة ثلاث دول استفادت من مشروع مارشال وثلاث دول عضوة في منظمة الكوميكون. الانجاز: 01.50 المفتاح: 0.25 العنوان: 0.25</p> <table border="1"> <tr> <td>الدول المستفيدة من مشروع مارشال</td> <td>بريطانيا، فرنسا، إيطاليا، ألمانيا الغربية، هولندا، النمسا، اليونان، بلجيكا، البرتغال، إسبانيا، الدنمارك، النرويج، تركيا، إيرلندا، السويد، اللكسمبورغ.</td> </tr> <tr> <td>الدول العضوة في الكوميكون</td> <td>الاتحاد السوفياتي، ألمانيا الشرقية، المجر، بلغاريا، رومانيا، بولونيا، تشيكوسلوفاكيا.</td> </tr> </table>	الدول المستفيدة من مشروع مارشال	بريطانيا، فرنسا، إيطاليا، ألمانيا الغربية، هولندا، النمسا، اليونان، بلجيكا، البرتغال، إسبانيا، الدنمارك، النرويج، تركيا، إيرلندا، السويد، اللكسمبورغ.	الدول العضوة في الكوميكون	الاتحاد السوفياتي، ألمانيا الشرقية، المجر، بلغاريا، رومانيا، بولونيا، تشيكوسلوفاكيا.
		الدول المستفيدة من مشروع مارشال	بريطانيا، فرنسا، إيطاليا، ألمانيا الغربية، هولندا، النمسا، اليونان، بلجيكا، البرتغال، إسبانيا، الدنمارك، النرويج، تركيا، إيرلندا، السويد، اللكسمبورغ.			
		الدول العضوة في الكوميكون	الاتحاد السوفياتي، ألمانيا الشرقية، المجر، بلغاريا، رومانيا، بولونيا، تشيكوسلوفاكيا.			
		04	0.50 0.50x3 0.50 0.25 0.25 0.50 0.50	<p>الجزء الثاني</p> <p>مقدمة: أزمة كوبا وانعكاساتها على العلاقات الدولية. (تقبل كل مقدمة وظيفية).</p> <p>(1) أسباب أزمة كوبا:</p> <p>- نجاح الثورة الشيوعية في كوبا بزعامة فيدل كاسترو (1959).</p> <p>- فشل الولايات المتحدة الأمريكية في الاطاحة بنظام كاسترو (عملية خليج الخنازير 1961).</p> <p>- تنصيب الاتحاد السوفياتي لصواريخ نووية في كوبا واكتشاف الولايات المتحدة الأمريكية لها ومحاصرتها لكوبا (1962)...</p> <p>(2) انعكاساتها على العلاقات الدولية:</p> <p>- اشتداد التوتر بين القوتين وتدهور العلاقات بينهما.</p> <p>- شعور العالم بخطر اندلاع حرب مباشرة بين القوتين.</p> <p>- سحب الاتحاد السوفياتي لصواريخه من كوبا مقابل سحب الولايات المتحدة الأمريكية لصواريخها من تركيا.</p> <p>- انفراج في العلاقات الدولية بين القوتين واقامة خط هاتفي أحمر بينهما في 1963/06/20.</p> <p>خاتمة: خطر الأزمة أجبر القوتين على تحسين العلاقات بينهما وتجنب العالم حربا نووية. (تقبل كل خاتمة وظيفية)</p> <p>ملاحظة: (تقبل كل الأجوبة الصحيحة الأخرى).</p>		

		الجغرافيا: الجزء الأول: (1) شرح ما تحته خط في النص: - المنظمة العالمية للتجارة: تنظيم دولي تأسس عام 1995 خلفا للاتفاقية العامة للتعريف الجمركية (G.A.T.T) وتعمل على وضع القواعد والقوانين التي تنظم التجارة الدولية، مقرها جنيف (سويسرا). - الاستثمارات الأجنبية: حركة انتقال رؤوس الأموال من دولة لأخرى قصد توظيفها في مشاريع مختلفة تعود بالفائدة على الدولتين...
06	0.50x 4	(2) تحويل معطيات الجدول الذي يمثل قيمة الاستثمارات الخارجية في بعض الدول عامي 2012/2013 إلى أعمدة بيانية في مجال واحد: الإنجاز: 01.25 * المفتاح: 0.25 * المقياس: 0.25 * العنوان: 0.25 (3) التعليق على معطيات الجدول الذي يمثل قيمة الاستثمارات الخارجية في بعض الدول 2013/2012. - تباين قيمة الاستثمارات بين الدول. - ارتفاع قيمة الاستثمارات عام 2013 عند الولايات المتحدة الأمريكية، ألمانيا وبريطانيا. - هيمنة وم.أ على الاستثمارات الخارجية في العالم. - بروز الصين كقوة اقتصادية متفوقة على قوى قديمة كألمانيا وبريطانيا.
	0.50	الجزء الثاني: مقدمة: الاتحاد الأوروبي بين استغلاله لإمكانياته وأهميته واجهته البحرية الشمالية والغربية (تقبل كل مقدمة وظيفية). (1) عوامل القوة الاقتصادية للاتحاد الأوروبي: أ) تاريخية: - تعتبر أوروبا مهد الثورة الصناعية. - الاستفادة من مشروع مارشال وثروات المستعمرات.... ب) الطبيعية: - الموقع الجغرافي (الانفتاح على العالم الخارجي، تتوسط القارات...) - وفرة وتنوع الثروات الطبيعية في بعض دوله. - ملائمة المناخ للنشاط البشري.... ج) البشرية: - قوة بشرية أكثر من 400 مليون نسمة، وسوق استهلاكية واسعة.... - التطور التكنولوجي وقوة البحث العلمي (2.5% من الميزانية)، وفرة رؤوس الأموال.... - طبيعة الفرد (الاتقان، الانضباط....). (2) أهمية الواجهة البحرية الشمالية والغربية: - وفرة المحروقات (بحر الشمال). - منطقة اتصال بين دول أوروبا وهمزة وصل مع دول العالم (التجارة الخارجية). - تتواجد بها أهم موانئ الاتحاد الأوروبي مثل: ميناء روتردام، أنفير، لوهافر، هامبورغ.... - وفرة الثروة السمكية، ومنطقة جذب سياحي.... خاتمة: الاستغلال الأمثل للإمكانات حول الاتحاد الأوروبي إلى قوة اقتصادية عالمية. (تقبل كل خاتمة وظيفية) ملاحظة: (تقبل كل الأجوبة الصحيحة الأخرى).
04	0.25 0.25 0.25 0.25 0.25 0.25 0.25 0.25 0.25 0.50	

تمثيل ثلاث دول استفادت من مشروع مارشال وثلاث دول عضوة في منظمة الكوميكون على خريطة أوروبا

خريطة أوروبا



الدول العضوة في منظمة الكوميكون		الدول المستفيدة من مشروع مارشال	
اسم الدولة	الرمز	اسم الدولة	الرمز
الاتحاد السوفياتي	01	فرنسا	أ
رومانيا	02	بريطانيا	ب
بولونيا	03	إسبانيا	ج

أعمدة بيانية تمثل قيمة الاستثمارات الخارجية لبعض الدول الكبرى
عامي 2013/2012

