

الجمهورية الجزائرية الديمقراطية الشعبية

الديوان الوطني للامتحانات والمسابقات

وزارة التربية الوطنية

دورة: جوان 2015

امتحان بكالوريا التعليم الثانوي

الشعبة: تسيير واقتصاد

المدة: 03 سا و 30د

اختبار في مادة: التاريخ والجغرافيا

على المترشح أن يختار أحد الموضوعين التاليين:

الموضوع الأول

التاريخ:

الجزء الأول: (06 نقاط)

أ- (... في إطار الحرب الباردة، اعتبرت الكتلة الغربية "الكومنفورم" عملا هجوميا يجب الرد عليه، فكانت الخطط من أجل قيام تحالفات عسكرية وسياسية مثل معاهدة بروكسل، وكان الحلف الأطلسي الشمالي الذي وقعته 12 دولة، وانضمت إليه في ما بعد دول أخرى كتركيا واليونان ...) د/ رياض الصمد / العلاقات الدولية في القرن 20.

المطلوب: انطلاقا من السند وعلى ضوء ما درست:

1- اشرح ما تحته خط في السند.

2- على خريطة العالم المرفقة، عين 03 دول مؤسسة للحلف الأطلسي.

ب- إليك جدولا يمثل أحداثا تاريخية في مسار الثورة التحريرية 1954م - 1962م:

التاريخ	الحدث	الانعكاسات
1960/12/11
.....	مظاهرات المهاجرين الجزائريين بباريس
.....	خطاب ديغول حول تقرير المصير

المطلوب: أكمل الجدول.

الجزء الثاني: (04 نقاط)

(... إن الوصول إلى منابع البترول أصبح ضرورة أو حتمية عسكرية ... كل الاقتصاد الغربي مرتبط اليوم بالبترول ... يجب دائما معرفة مَنْ يسيطر على هذه المادة في الخليج والشرق الأوسط، وهي مفتاح لمعرفة مَنْ يسيطر على ما في العالم (...).

ريتشارد نيكسون/ الحرب الحقيقية.

المطلوب: انطلاقا من السند واعتمادا على ما درست، اكتب مقالا تاريخيا تحدد فيه:

1- ملامح النظام الدولي الجديد.

2- انعكاساته على العلاقات الدولية.

الجغرافيا:

الجزء الأول: (06 نقاط)

1- (... إن التجارة الخارجية تشكل عاملا بالغ الأهمية بالنسبة لتمويل وتقدم التنمية الاقتصادية في البلدان النامية حيث تعتمد عليها في تأمين السلع الضرورية، كما تعتمد مستويات الادخار والاستثمار فيها إلى حد كبير على حصيلة التبادل الخارجي، لذلك تتخذ المشكلة الرئيسية في التمويل وجهتين أساسيتين هما: إمكانية رفع حصيلة التجارة الخارجية في البلدان النامية، وكيفية الاستفادة من هذه الحصيلة في تكوين رؤوس الأموال اللازمة للتعبيل الاقتصادي...).

د. محمد سحنون، دور التجارة الخارجية في تمويل التنمية الاقتصادية. مجلة الاقتصاد الصناعي.

المطلوب: عرف المصطلحات التي تحتها خط في السند.

2- أ- إليك جدولا يمثل صادرات الجزائر لسنة 2012 م:

النسبة %	المواد
97.05	المحروقات
02.24	المواد نصف المصنعة
0.42	المواد الغذائية
0.23	المواد الخام
0.04	مواد التجهيز الصناعي
0.02	المواد الاستهلاكية غير الغذائية

جدول "أ"
جريدة الخبر ص 8 بتاريخ 2013/01/21

ب- إليك جدولا يمثل مناطق التبادل التجاري للجزائر:

الواردات %	الصادرات %	مناطق التبادل
01.90	01.70	المغرب العربي وباقي دول إفريقيا
69.20	59.90	دول أوروبا
28.90	38.40	بقية العالم
100	100	المجموع

الجدول "ب"

المطلوب: انطلاقا من الجدولين وعلى ضوء ما درست:

- 1- ادرس الجدول "أ".
- 2- مثل معطيات الجدول "ب" بأعمدة بيانية بمقياس رسم 1 سم لكل 5 %.
- 3- علق على الرسم.

**الجزء الثاني: (04 نقاط)**

أصبح كتل الاتحاد الأوربي بعد 1999م كيانا متكاملًا قويا على جميع الأصعدة، ويلعب دورا حيويا فاعلا في منظومة الاقتصاد العالمي.

المطلوب: انطلاقا من الفقرة وعلى ضوء ما درست، اكتب مقالا جغرافيا تبين فيه:

- 1- عوامل القوة الاقتصادية للاتحاد الأوربي.
- 2- التحديات التي يواجهها الاتحاد الأوربي على الصعيدين الداخلي والخارجي.

الموضوع الثاني

التاريخ:

الجزء الأول: (06 نقاط)

(... حدثت تقريبا كل الأزمات المسلحة بين الكتلتين الشرقية والغربية على الساحة الأفرو آسيوية وأمريكا اللاتينية، من الحرب الكورية إلى استعراض العضلات في كوبا، ولم تغلت من الاختراق والاستخدام والتوجيه سوى القليل من حركات التحرر الوطني وفي مقدمتها الثورة الجزائرية (...).
د/ محمد العربي ولد خليفة/ الجزائر والعالم.

المطلوب:

انطلاقا من السند وعلى ضوء ما درست:

- 1- عرّف المصطلحات التي تحتها خط.
- 2- املأ الجدول بالأزمات الدولية في القارات الثلاث المشار إليها في السند:

الأزمة	تاريخها	انعكاساتها

- 3- على خريطة العالم المرفقة عيّن مناطق الأزمات المسلحة المقصودة في السند.

الجزء الثاني: (04 نقاط)

(... في غمرة انتصار الحلفاء خرج الشعب الجزائري كبقية شعوب العالم ليعبر عن فرحته بتنظيم مسيرات سلمية مرخصة من قبل السلطات الاستعمارية رافعا شعارات تغني بها الحلفاء خلال الحرب العالمية الثانية ومبادئ ووعوداً قطعوها على أنفسهم (...).
أحمد توفيق المدني/ هذه الجزائر.

المطلوب:

انطلاقا من السند واعتمادا على ما درست، اكتب مقالا تاريخيا تبين فيه:

- 1- أسباب تحول المظاهرات السلمية إلى مجازر "08 ماي 1945م".
- 2- انعكاسات هذه المجازر على مسار الحركة الوطنية الجزائرية.

الجغرافيا:

الجزء الأول: (06 نقاط)

إليك جدولاً يبين نسب استهلاك الغاز والبتروول في العالمين المتقدم والمتخلف:

المناطق	استهلاك الغاز %	استهلاك البترول %
العالم المتقدم	66	58
العالم المتخلف	34	42
المجموع	100	100

إدارة معلومات الطاقة 2006

المطلوب:

1- عرّف المصطلحات التالية:

- العالم المتقدم - العالم المتخلف - استهلاك الغاز والبتروول.

2- حول معطيات الجدول إلى دائرتين نسبيتين: نق = 3 سم.

3- علق على الرسم.

4- على خريطة العالم المرفقة عيّن أقطاب الاقتصاد العالمي و 03 دول سائرة في طريق النمو واحدة من كل قارة (آسيا - إفريقيا - أمريكا اللاتينية).

الجزء الثاني: (04 نقاط)

رغم تحكم الولايات المتحدة الأمريكية في مجالها الجغرافي وتنظيم أقاليمها باعتماد معايير تأخذ بعين الاعتبار الظروف الطبيعية والموارد البشرية والاقتصادية. إلا أنّ هناك ظروفًا وعوامل جعلت بعض أقاليمها تتفوق على الأخرى.

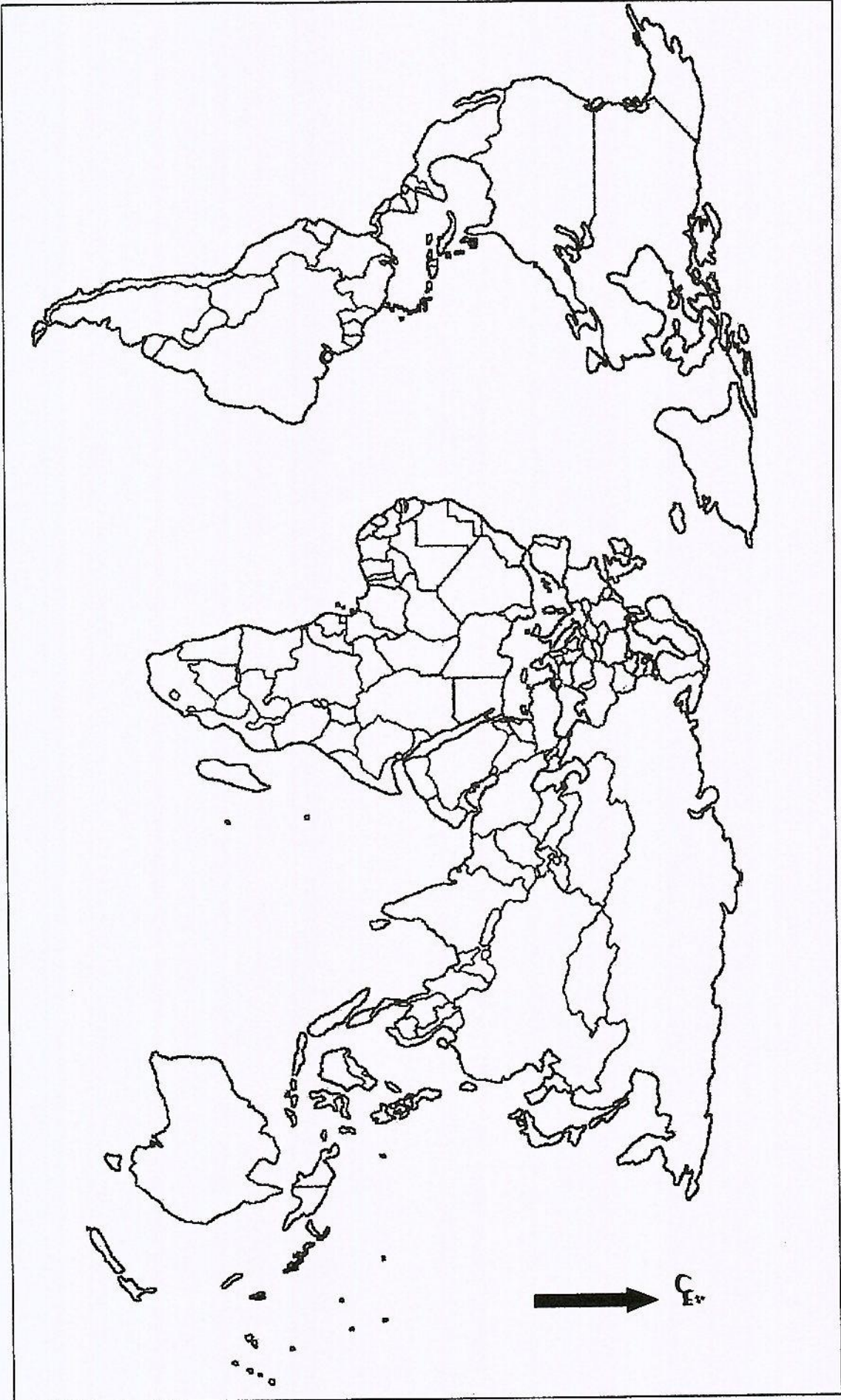
المطلوب:

انطلاقاً من الفقرة واعتماداً على ما درست، اكتب مقالاً جغرافياً تحدّد فيه:

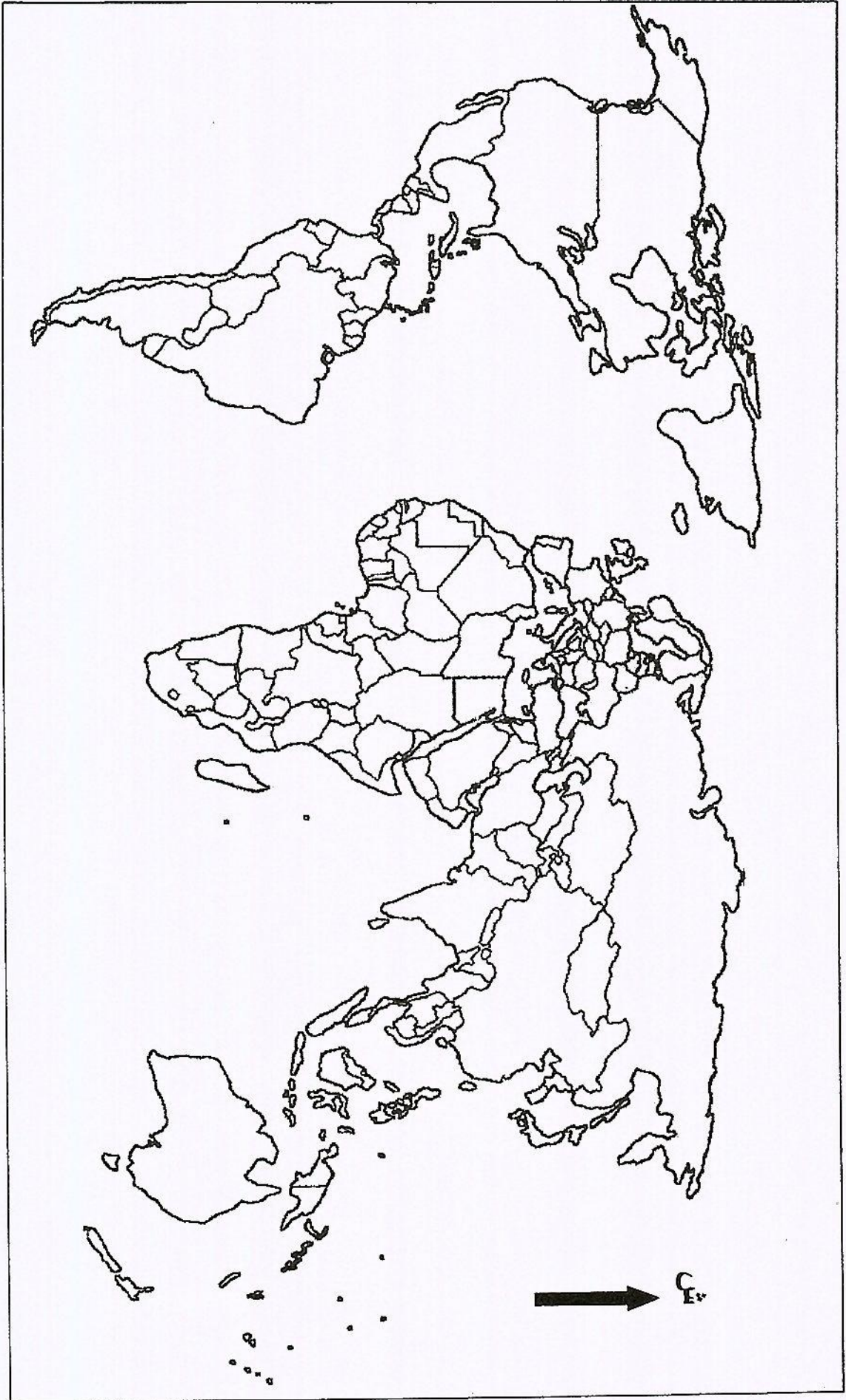

1- عوامل القوة الاقتصادية للولايات المتحدة الأمريكية.

2- تفوّق إقليم الواجهة الأطلسية.

خريطة العالم



ينجز العمل المطلوب على الخريطة وتعاد مع أوراق الإجابة



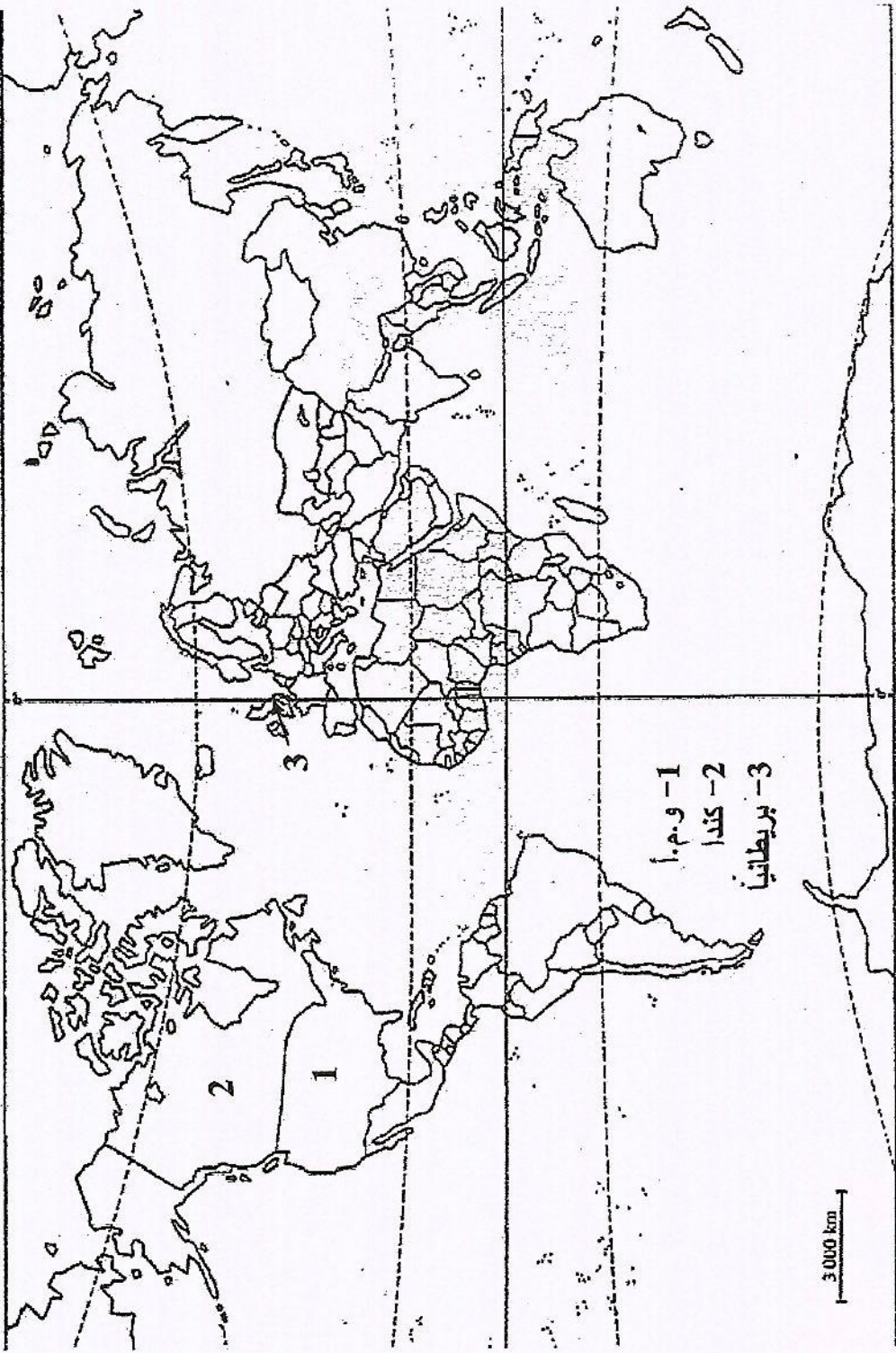
خريطة العالم


ينجز العمل المطلوب على الخريطة وتعاد مع أوراق الإجابة

العلامة		عناصر الإجابة (الموضوع الأول)												
مجموع	مجزأة													
		<p>التاريخ: الجزء الأول: 1- شرح المصطلحات: * الكتلة الغربية: هي مجموعة الدول الرأسمالية بزعامة الولايات المتحدة الأمريكية، برزت ككتلة بعد الحرب العالمية الثانية. * الكومنفرم: هو مختصر لكلمة مكتب الإعلام الشيوعي العالمي، هدفه التنسيق بين الأحزاب اليسارية في العالم. ومن خلاله توجيه سياسة بلدان هذه الأحزاب (1947/10/06). * حلف الشمال الأطلسي: تكتل عسكري يضم الدول الرأسمالية بزعامة الولايات المتحدة الأمريكية، بموجب اتفاقية 1949/4/4 هدفه مواجهة الشيوعية والدفاع عن مصالح العالم الحر والدول الأعضاء.</p> <p>2- التبعين على الخريطة العنوان: ثلاث دول عضوة في الحلف الأطلسي. المفتاح: الإنجاز: (يذكر 3 دول من الدول 12 المؤسسة) 3- إكمال الجدول:</p> <table border="1"> <thead> <tr> <th>التاريخ</th> <th>الحدث</th> <th>انعكاساته</th> </tr> </thead> <tbody> <tr> <td>1960/12/11</td> <td>مظاهرات شعبية دعت إليها جبهة التحرير الوطني بمناسبة زيارة ديغول للجزائر</td> <td>* تلاحم سكان المدن مع الأرياف والجبال. * طاعة الجزائريين لأوامر الثورة. * إجابة صريحة للمعمرين ولديغول بأن القيادة الوحيدة للثورة هي جبهة التحرير الوطني وهي المفاوض الوحيد.</td> </tr> <tr> <td>1961/10/17</td> <td>مظاهرات الجزائريين بباريس</td> <td>* نقلت عمليات الثورة إلى عقر دار الاستعمار. * أكدت وحدة الشعب الجزائري والتفافه حول ثورته أينما وجد. * أظهرت الوجه الإجرامي للاستعمار الفرنسي/ ربح المعركة الدبلوماسية على مستوى الأمم المتحدة</td> </tr> <tr> <td>1959/09/16</td> <td>خطاب شارل ديغول حول تقرير المصير.</td> <td>* تبني المراوغة والبحث عن بدائل لجبهة التحرير الوطني. * تمسك جبهة التحرير الوطني باستمرار القتال والمفاوضات...</td> </tr> </tbody> </table>	التاريخ	الحدث	انعكاساته	1960/12/11	مظاهرات شعبية دعت إليها جبهة التحرير الوطني بمناسبة زيارة ديغول للجزائر	* تلاحم سكان المدن مع الأرياف والجبال. * طاعة الجزائريين لأوامر الثورة. * إجابة صريحة للمعمرين ولديغول بأن القيادة الوحيدة للثورة هي جبهة التحرير الوطني وهي المفاوض الوحيد.	1961/10/17	مظاهرات الجزائريين بباريس	* نقلت عمليات الثورة إلى عقر دار الاستعمار. * أكدت وحدة الشعب الجزائري والتفافه حول ثورته أينما وجد. * أظهرت الوجه الإجرامي للاستعمار الفرنسي/ ربح المعركة الدبلوماسية على مستوى الأمم المتحدة	1959/09/16	خطاب شارل ديغول حول تقرير المصير.	* تبني المراوغة والبحث عن بدائل لجبهة التحرير الوطني. * تمسك جبهة التحرير الوطني باستمرار القتال والمفاوضات...
التاريخ	الحدث	انعكاساته												
1960/12/11	مظاهرات شعبية دعت إليها جبهة التحرير الوطني بمناسبة زيارة ديغول للجزائر	* تلاحم سكان المدن مع الأرياف والجبال. * طاعة الجزائريين لأوامر الثورة. * إجابة صريحة للمعمرين ولديغول بأن القيادة الوحيدة للثورة هي جبهة التحرير الوطني وهي المفاوض الوحيد.												
1961/10/17	مظاهرات الجزائريين بباريس	* نقلت عمليات الثورة إلى عقر دار الاستعمار. * أكدت وحدة الشعب الجزائري والتفافه حول ثورته أينما وجد. * أظهرت الوجه الإجرامي للاستعمار الفرنسي/ ربح المعركة الدبلوماسية على مستوى الأمم المتحدة												
1959/09/16	خطاب شارل ديغول حول تقرير المصير.	* تبني المراوغة والبحث عن بدائل لجبهة التحرير الوطني. * تمسك جبهة التحرير الوطني باستمرار القتال والمفاوضات...												
06	0.75 0.75 0.5 0.5 0.25 0.75 0.25 0.25 0.25 0.25 0.25 0.25 0.25 0.25													
		<p>الجزء الثاني: العرض: المقدمة: العالم بين زوال القطبية الثنائية وملامح نظام دولي جديد أحادي القطب. 1- ملامح النظام الدولي الجديد: * هيمنة النظام الرأسمالي ومؤسساته. * قيادة الولايات المتحدة للعالم الاقتصادي والسياسي والعسكري. * تراجع دور المنظمات الإقليمية في الجنوب. * ظهور التكتلات الاقتصادية القارية. * تراجع دور الأمم المتحدة ومنظماتها. 2- انعكاساته على العلاقات الدولية * السيطرة المطلقة للو.م. الأمريكية على المؤسسات العالمية السياسية والاقتصادية وغيرها... واستعمالها كوسيلة ضغط ووسيلة قانونية لتبرير تدخلاتها المختلفة. * تراجع التنمية في عالم الجنوب وتحويله إلى سوق استهلاكية. * محاربة الأنظمة الوطنية والعمل على إبعادها من القيادة ولو بالتصفية والتدخل العسكري. * سيطرة الشركات المتعددة الجنسيات والعبارة للقارات على منابع الطاقة في عالم الجنوب خاصة البترول والغاز الطبيعي. 3- الخاتمة: عملت و.م. الأمريكية على جعل العالم دولة تقودها لخدمة جميع مصالحها.</p>												
04	0.5 1.5 1.5 0.5													

العلامة		عناصر الإجابة
المجموع	مجزأة	
06	0.5	الجغرافيا: الجزء الأول: 1- تعريف المصطلحات:
	0.5	* البلدان النامية: أطلقت على دول الجنوب، كمرادف للعالم الثالث، وهي دول آسيا - إفريقيا - أمريكا اللاتينية التي تبنت تنمية جعلتها تخفف من حدة التخلف.
	0.5	* الاستثمار: عملية توظيف رؤوس الأموال في المشاريع المختلفة لتحقيق الأرباح وقد يكون الاستثمار ذاتيا أو بالشراكة الأجنبية.
	0.5	* رؤوس الأموال: هي القيم المالية التي تستخدم للحصول على الإنتاج تتوفر من تراكم فائض أعمال مسبقا.
	0.5	2- أ- دراسة الجدول:
	01	* صادرات الجزائر متنوعة يشوبها الاختلال. * يغلب على صادرات الجزائر "المحروقات"
	0.25	التحليل:
	0.5	* طبيعة القاعدة الاقتصادية الجزائرية.
	3×0.25	* الضعف الهيكلي للقطاعات الزراعي والصناعي. * سلبيات التحول الاقتصادي المعتمد على النموذج الاستهلاكي. * إقبال الاستثمار والشركات الأجنبية على المحروقات بالدرجة الأولى.
	1.5	2- ب- تمثيل معطيات الجدول بأعمدة: - العنوان - المفتاح - الانجاز 3- التعليق على الرسم في الجدول (ب): * نوعت الجزائر مناطق تبادلها التجاري. * ترتفع نسبة مبادلتها التجارية مع دول أوربا لعوامل تاريخية، جغرافية واقتصادية. * تقل نسبة مبادلاتها التجارية مع دول المغرب العربي وباقي دول إفريقيا لنشابه بنياتها الاقتصادية مع الجزائر وللقبوض الجمركية المفروضة.
0.5	الجزء الثاني: المقدمة: ظاهرة التكتل بين القوة المحلية والعالمية والتحديات التي تواجهها على الصعيدين الداخلي والخارجي.	
0.25	1- عوامل القوة الاقتصادية للاتحاد الأوربي: التاريخية: - مهد الثورة الصناعية واستفادتها من ثروات المستعمرات ومن الدعم الأمريكي.	
0.25	الطبيعية: - ملائمة الظروف الطبيعية للنشاط الاقتصادي (مساحة، مناخ، أنهار، شريط ساحلي).	
0.25	البشرية: - وفرة اليد العاملة المؤهلة ذات الخبرة والكفاءة العالية.	

العلامة		عناصر الإجابة
مجزأة	المجموع	
		الاقتصادية: - وفرة رؤوس الأموال "سيطرتها على أكبر البورصات" - قوة الاستثمار الداخلي والخارجي. - التقدم العلمي والتكنولوجي. - قوة عملتها بعد الدولار. - شبكة المواصلات بأنواعها ووظيفتها.
0.5		
0.25		السياسية: - تجاوز دول الاتحاد لخلافاتها السياسية التاريخية وبحثها عن سبل تمكنها من الاندماج السياسي والقانوني.
		2- التحديات التي تواجه الاتحاد الأوروبي على الصعيدين الداخلي والخارجي: * على الصعيد الداخلي: البشرية: - ارتفاع نسبة الشيخوخة - ارتفاع نسبة البطالة خاصة في ظل توسع الاتحاد مع اختلاف المشاكل الاجتماعية بين مجتمعات أوروبا الغربية وأوروبا الوسطى والشرقية.
0.5		
0.5		الاقتصادية: - الفوارق الجهوية بين الدول الأعضاء المؤسسة والمنظمة حديثا مع عدم احترام مبدأ الأفضلية. - صعوبة إحداث توازن جهوي لضخامة الاستثمارات التي تتطلبها العملية - الافتقار للمواد الأولية خاصة الطاقوية منها. - عدم انضمام جميع دول الاتحاد إلى منطقة الأورو.
0.5		
0.5		* على الصعيد الخارجي: - المنافسة الخارجية من طرف الو.م.أ واليابان والصين وخاصة في إفريقيا. - التبعية الخارجية في المواد الأولية خاصة الطاقوية. - التبعية السياسية والعسكرية والثقافية للو.م.أ
0.5		
		الخاتمة: رغم ما حققته أوروبا من خلال ظاهرة التكتل والاندماج إلا أنها تواجه صعوبات حادة داخليا وخارجيا قد تهدد مسار هذه القوة.


العلامة		عناصر الإجابة
المجموع	مجزأة	
<p>تعين 03 دول مؤسسة للحلف الأطلسي:</p>		
		
<p>ملاحظة : التمييز يوقع 03 دول من الدول المؤسسة</p>		
<p>خريطة العالم موقع عليها 03 دول مؤسسة للحلف الأطلسي</p>		

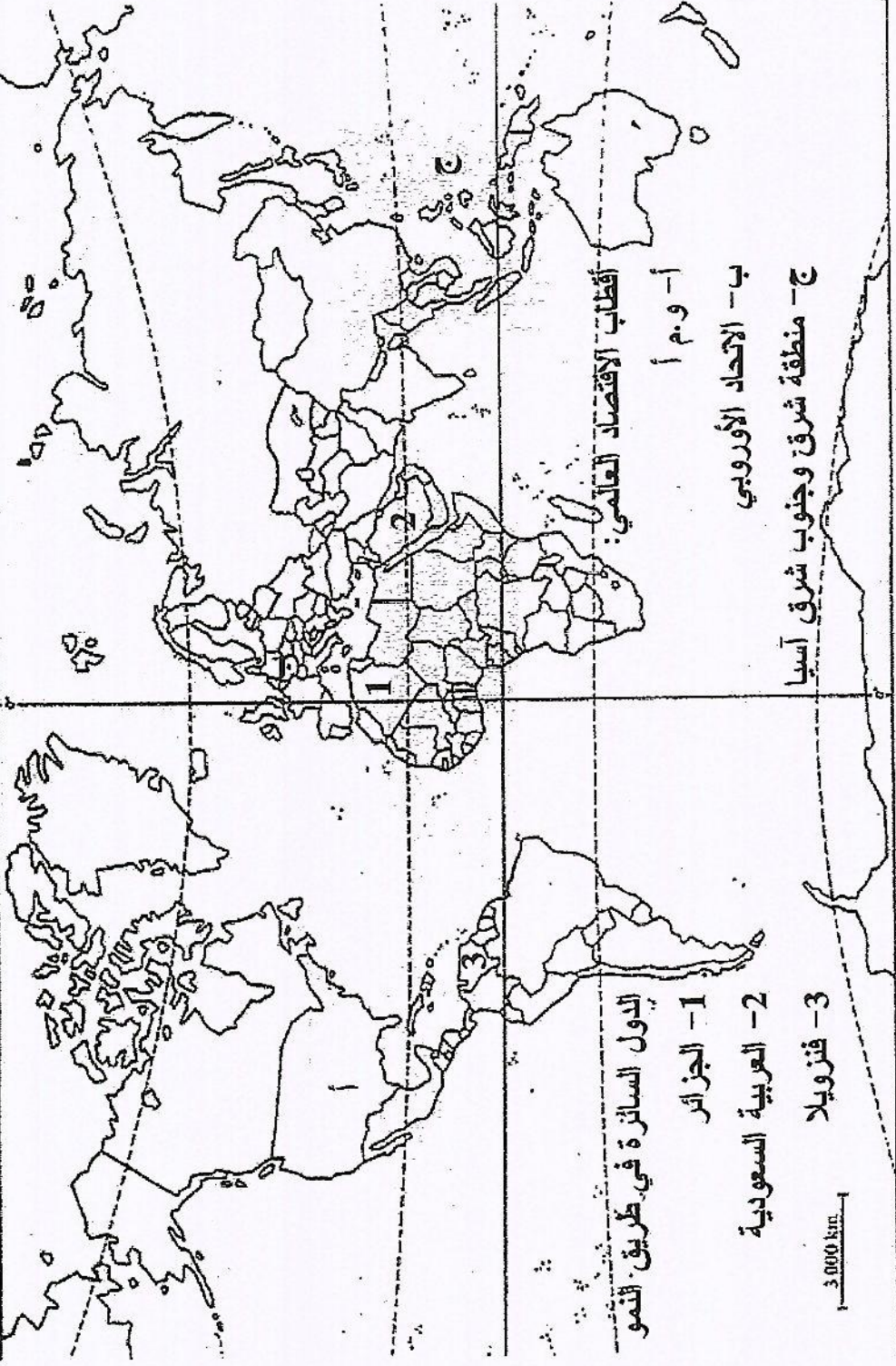


العلامة		عناصر الإجابة
المجموع	مجزأة	
	0.25	2- انعكاساتها على مسار الحركة الوطنية الجزائرية:
	0.25	* التأكد من عمق النضال السياسي ومحاوره فرنسا.
	0.25	* التأكد من أن ما أخذ بالقوة لا يسترد إلا بالقوة.
	0.25	* صدور قرار العفو العام 09 مارس 1946 وإعادة بناء الحركة الوطنية.
	0.25	* لجوء فرنسا إلى تهدة الأوضاع وضرب الحركة الوطنية ومحاولة احتوائها بإصدارها القانون الخاص 20 سبتمبر 1947.
	0.5	* التوجه نحو العمل المسلح بتأسيس الجناح العسكري لحركة انتصار الحريات الديمقراطية "المنظمة الخاصة".
	0.5	الخاتمة: مجازر 08 ماي 1945 منبرج حاسم في تغيير مسار النضال نحو الثورة المسلحة.
		الجغرافيا: الجزء الأول:
		1- تعريف المصطلحات:
	0.5	العالم المتقدم: يطلق على الدول المتطورة في الميادين الاقتصادية والسياسية والاجتماعية والتكنولوجية والثقافية، تقع معظم دوله شمال دائرة عرض 30° شمالا في أمريكا الشمالية و35° شمالا في أوروبا وآسيا إضافة إلى أستراليا ونيوزيلندا الواقعة في الجنوب.
	0.5	العالم المتخلف: يطلق على عالم الجنوب والذي تقع معظم دوله في النصف الجنوبي للكرة الأرضية بقارة آسيا وإفريقيا وأمريكا اللاتينية وهو مشكل من دول حديثة الاستقلال غنية بالمواد الطبيعية تعاني التبعية.
	0.5	استهلاك الغاز والبتروول: الطلب على المادتين لتغطية حاجيات الدولة الاقتصادية والخدماتية.
		2- التمثيل البياني:
	0.25	العنوان
	1	الانجاز
06	0.25	المفتاح
		3- التعليق على الرسم:
	0.5	العالم المتقدم: ارتفاع نسبة استهلاك المادتين لـ: ضخامة القطاع الاقتصادي والخدماتي والعسكري.
	0.5	العالم المتخلف: انخفاض نسبة استهلاك المادتين لـ: ضعف القطاع الاقتصادي والخدماتي.
		4- التعيين على الخريطة:
	0.25	العنوان
	0.25	المفتاح
	6×0.25	الانجاز
		الجزء الثاني:
	0.5	المقدمة: رغم تحكم الو.م.أ في مجالها الجغرافي بتنظيم أقاليمها باعتماد معايير تأخذ بعين الاعتبار الظروف الطبيعية والموارد البشرية والاقتصادية إلا أن هناك ظروفًا وعوامل جعلت بعض أقاليمها تتفوق على الأخرى.
		1- عوامل القوة الاقتصادية للولايات المتحدة الأمريكية: التاريخية:
	0.25	- المهدي الثاني للثورة الصناعية بفضل هجرة العلماء والمخترعين. - الاستفادة المادية من الحرب العالمية الأولى والثانية.

العلامة		عناصر الإجابة
المجموع	مجزأة	
04	0.25	<p>السياسية:</p> <ul style="list-style-type: none"> - الأمن والاستقرار السياسي. - أسلوب التواصل في البناء الداخلي والخارجي لدى أحزابها السياسية. - عاصمة العالم السياسية لاحتضانها لمقر هيئة الأمم المتحدة.
	0.25	<p>الطبيعية:</p> <ul style="list-style-type: none"> - إستراتيجية الموقع الجغرافي وإيجابية الموقع الفلكي. - اتساع المساحة وتنوع المناخ. - سعة الشبكة الهيدروغرافية ووظيفتها. - وفرة الثروات الطبيعية الباطنية والسهلية.
	0.25	<p>البشرية:</p> <ul style="list-style-type: none"> - مجتمع حيوي يقدر المبادرة والإبداع. - انسجام أجناس المجتمع الأمريكي. - وفرة اليد العاملة بنوعها. - استقطاب الخبرات الأجنبية. - دعم الدولة للبحث العلمي والتكنولوجي.
	0.5	<p>الاقتصادية:</p> <ul style="list-style-type: none"> - وفرة رؤوس الأموال - استقطاب رؤوس الأموال الأجنبية - ضخامة الاستثمارات داخليا وخارجيا - تنوع وضخامة شبكة النقل والمواصلات. - السيطرة على الأسواق التجارية العالمية. - امتلاكها لمعظم الشركات الاحتكارية العالمية.
	0.25	<p>2- تفوق إقليم الواجهة الأطلسية:</p> <p>العوامل التاريخية:</p> <ul style="list-style-type: none"> - المهد الثاني للثورة الصناعية بعد إنجلترا. - محطة لاستقرار الوافدين من أوروبا وإفريقيا.
	0.25	<p>العوامل الطبيعية:</p> <ul style="list-style-type: none"> - الواجهة البحرية الأطلسية. - البحيرات الخمس. - ملائمة المناخ. - الشبكة الهيدروغرافية.
	0.25	<p>العوامل البشرية:</p> <ul style="list-style-type: none"> - مجمع المدن الكبرى (توفر اليد العاملة)
	0.5	<p>العوامل الاقتصادية:</p> <ul style="list-style-type: none"> - العاصمة المالية العالمية (مقر صندوق النقد الدولي). - مقر أكبر البورصات العالمية. - مجمع المعادن والطاقة. - سوق الاستهلاك والاستثمار.
	0.25	<p>العوامل الإستراتيجية:</p> <ul style="list-style-type: none"> - واجهة بحرية منفتحة على العالم (وجود موانئ عديدة). - واجهة أطلسية تربطها شرقا بأوروبا وإفريقيا وجنوبا بأمريكا اللاتينية.
	0.5	<p>الخاتمة: رغم الظروف التاريخية التي أهلت الواجهة الأطلسية لتحل المرتبة الأولى في الاقتصاد الأمريكي إلا أن الإستراتيجية المتبناة تعمل على إحداث توازن إقليمي يعتمد على التخصص آخذة بعين الاعتبار مجريات الساحة العالمية.</p>

العلامة		عناصر الإجابة
المجموع	مجزأة	
توقيع مناطق الأزمات المسلحة المقصودة في السند		
<p>1- أزمة كوريا 2- أزمة الهند الصينية 3- أزمة السودان 4- أزمة كوبا</p> <p>2000 km</p>		
<p>خريطة أزمات الحرب الباردة (أفرو آسيوى + أمريكا اللاتينية)</p>		



العلامة	عناصر الإجابة
مجزأة المجموع	<p>تعين أقطاب الاقتصاد العالمي و03 دول سائرة في طريق النمو واحدة من كل قارة (آسيا - إفريقيا - أمريكا اللاتينية).</p>  <p>خريطة العالم : أقطاب الاقتصاد العالمي - ثلاث دول سائرة في طريق النمو</p>