

الجمهورية الجزائرية الديمقراطية الشعبية

الديوان الوطني للامتحانات والمسابقات

دورة: جوان 2012

وزارة التربية الوطنية

امتحان بكالوريا التعليم الثانوي

الشعبة: تسيير واقتصاد

اختبار في مادة: التاريخ والجغرافيا

المدة: 03 ساعات و نصف

على المترشح أن يختار أحد الموضوعين التاليين:

الموضوع الأول

التاريخ

الجزء الأول: (06 نقاط)

" إن معركة قناة السويس كانت هي المناسبة التي استطاع فيها الإتحاد السوفيتي أن يحقق ويعلم تعادله مع الولايات المتحدة الأمريكية في حيازة أسلحة الدمار الشامل، وكانت تلك ذروة عصر من العصور الدولية، وهو عصر الحرب الباردة التي يستحيل بين العَمَلَقِينَ أن تتحول إلى حرب ساخنة."

محمد حسنين هيكل " قصة السويس " ط3 / ص11

المطلوب:

- 1- حدّد زمن الحدث ومكانه وعرّف بقائد هذا البلد آنذاك.
- 2- أعط مفهوما لما تحته خط.
- 3- رتّب مضمون الجدول بوضع الحدث وما يقابله من انعكاسات بشكل صحيح.

الحدث	انعكاساته
مشروع إيزنهاور	السباق نحو التسلح وتطوير أسلحة الدمار الشامل
العدوان الثلاثي على مصر	الصراع بين العملاقين وسياسة ملء الفراغ
توازن الرعب النووي	المد التحرري وتحول مصر إلى نموذج لحركات التحرر

الجزء الثاني: (04 نقاط)

"...اليوم وجب علينا أن نختار إحدى الطريقتين إما أن نشنّ غارات يحدث من جرائها الانفجار الشامل، وبالتالي نحث كل الجهات على مضاعفة عملياتها، ويذاع صوت كفاحنا بكل صراحة على المستويين الداخلي والخارجي، وإما أن يكون هذا بمثابة برهان بأننا عاجزون ..."

الشهيد زيغود يوسف / الكتاب المدرسي/ ص180

المطلوب: اعتمادا على الفقرة ومكتسباتك القبلية، اكتب مقالا تاريخيا تبين فيه:

- 1- الدوافع السياسية والعسكرية لهجمات الشمال القسنطيني.
- 2- آثار أحداث 20 أوت 1955 على مسار الثورة التحريرية.

الجغرافيا

الجزء الأول: (06 نقاط)

" إن تحرير المبادلات من شأنه أن يؤدي إلى تأكيد آثار الاستقطاب بين البلدان، وهي آثار تتمخض عنها الصراعات بين الدول، وتتجه الاستثمارات الجديدة الناتجة عن السوق المتكاملة نحو المناطق التي تتوفر فيها بكثرة منشآت قاعدية وأسواق هامة نسبياً."

عبد القادر سيد أحمد /المفاوضات بين الشمال والجنوب/ ص300

المطلوب :

1- حدّد مفهوم ما تحته خط.

2 - الجدول الآتي يمثل نسب مساهمة بعض القوى الاقتصادية في التجارة العالمية.

المناطق	الإتحاد الأوروبي	الو.م. الأمريكية	اليابان	الصين
نسبة الصادرات	39%	8.9%	5.9%	7.5%
نسبة الواردات	39.3%	16.5%	4.9%	6.3%

منظمة التجارة العالمية 2006

- مثل بأعمدة بيانية نسب الصادرات والواردات بمقياس رسم 1سم لكل 5%، ثم علق على الرسم.

3 - ظلّل القوى الاقتصادية الواردة في الجدول على خريطة العالم المرفقة.

الجزء الثاني: (04 نقاط)

"يشكل الخط الفاصل بين الدول المصنّعة والدول النامية في الوقت الراهن شرخاً كبيراً من حيث التفاوت في الدخل بالنسبة للدول الغنية والدول الفقيرة بالرغم من التحسن القليل في العشرية الأخيرة." فرانسوا نيكولا/ البلدان النامية / أكتوبر 2002

المطلوب:

اعتماداً على الفقرة ومكتسباتك القبلية، اكتب موضوعاً جغرافياً تبين فيه:

1- معايير تصنيف الدول إلى متقدمة ومتخلفة.

2- إمكانات التنمية الاقتصادية في دول الجنوب.

الموضوع الثاني

التاريخ

الجزء الأول: (06 نقاط)

صرّح المفاوض الفرنسي "جورج بومبيدو" في مارس 1961 أنّ ديغول سيشرع في مفاوضات مع جبهة التحرير الوطني وأثار من جديد فكرة الهدنة التي قال أنه سيتبناها إطلاق سراح الخمسة ورفض أي مناقشة حول الصحراء من الناحية الجوهريّة... واقترح الصيغة التالية: إعلان عام عن الاختلاف على السيادة الشعبية على الصحراء وتأجيل التفاوض حول هذه القضية إلى ما بعد تقرير المصير.

بن يوسف بن خدة / اتفاقيات إيفيان

المطلوب :

- 1- حدّد مفهوم ما تحته خط.
- 2- عرّف بالشخصيات التالية: بن يوسف بن خدة - شارل ديغول - رابح بيطاط.
- 3- على خريطة الجزائر المرفقة، حدّد مناطق التقسيم كما جاءت في مشروع الاستعمار الفرنسي 1957 و 1961.

الجزء الثاني: (04 نقاط)

لم تكن مساعي الانفراج الدولي ثمرة قناعة المعسكرين بل كانت ضرورة أملاها تطور وسائل الدمار.

المطلوب:

انطلاقا من الفقرة، واعتمادا على مكتسباتك القبلية، اكتب مقالا تاريخيا تبين فيه:

- 1 - عوامل الجروح إلى السلم.
- 2 - انعكاسات ذلك على العالم الثالث.

الجغرافيا

الجزء الأول: (06 نقاط)

" تعتبر العولمة عامل تغيّر جغرافية العالم وقد يؤدي انتشارها إلى إيجاد تفاوت كبير في التنمية، إذ تزداد أقطاب الثالوث العالمي قوة، وتساهم في إنشاء فضاءات ازدهار جديدة في دول الجنوب، كما تؤدي إلى إقصاء وتهميش فضاءات ومجتمعات أخرى."

كتاب الجغرافيا/ السنة الثالثة ثانوي/ صفحة 20

المطلوب :

1- اشرح ما تحته خط في الوثيقة.

2- الجدول الآتي يمثل المبادلات التجارية لبعض الدول المتقدمة والنامية لسنة 2006

الدول	الو. م. أ.	ألمانيا	اليابان	فرنسا	المكسيك	م. ع. السعودية	الهند	البرازيل
قيمة المبادلات	2636.8	1743.7	1109.8	958.1	448.4	240.8	229.9	195.9

الوحدة بالمليار دولار

- مثل هذه القيم بأعمدة بيانية بمقياس رسم اسم لكل 200 مليار دولار، ثم علق على الرسم.
- 3- على خريطة العالم المرفقة، وقّع ثلاث دول متقدمة وثلاث دول نامية وارده في الجدول.

الجزء الثاني: (04 نقاط)

" تمتلك دول آسيا الشرقية والجنوبية الشرقية نموذج تنمية قائم على الانفتاح على الاقتصاد العالمي وتوجه اقتصادها نحو الطرق البحرية، مما يتطلب تهيئة الواجهة البحرية، بما يمكن من تزايد ونمو المبادلات التي تساعد على النمو الاقتصادي للمنطقة، وتكون بذلك آسيا ملتقى الطرق التجارية العالمية."

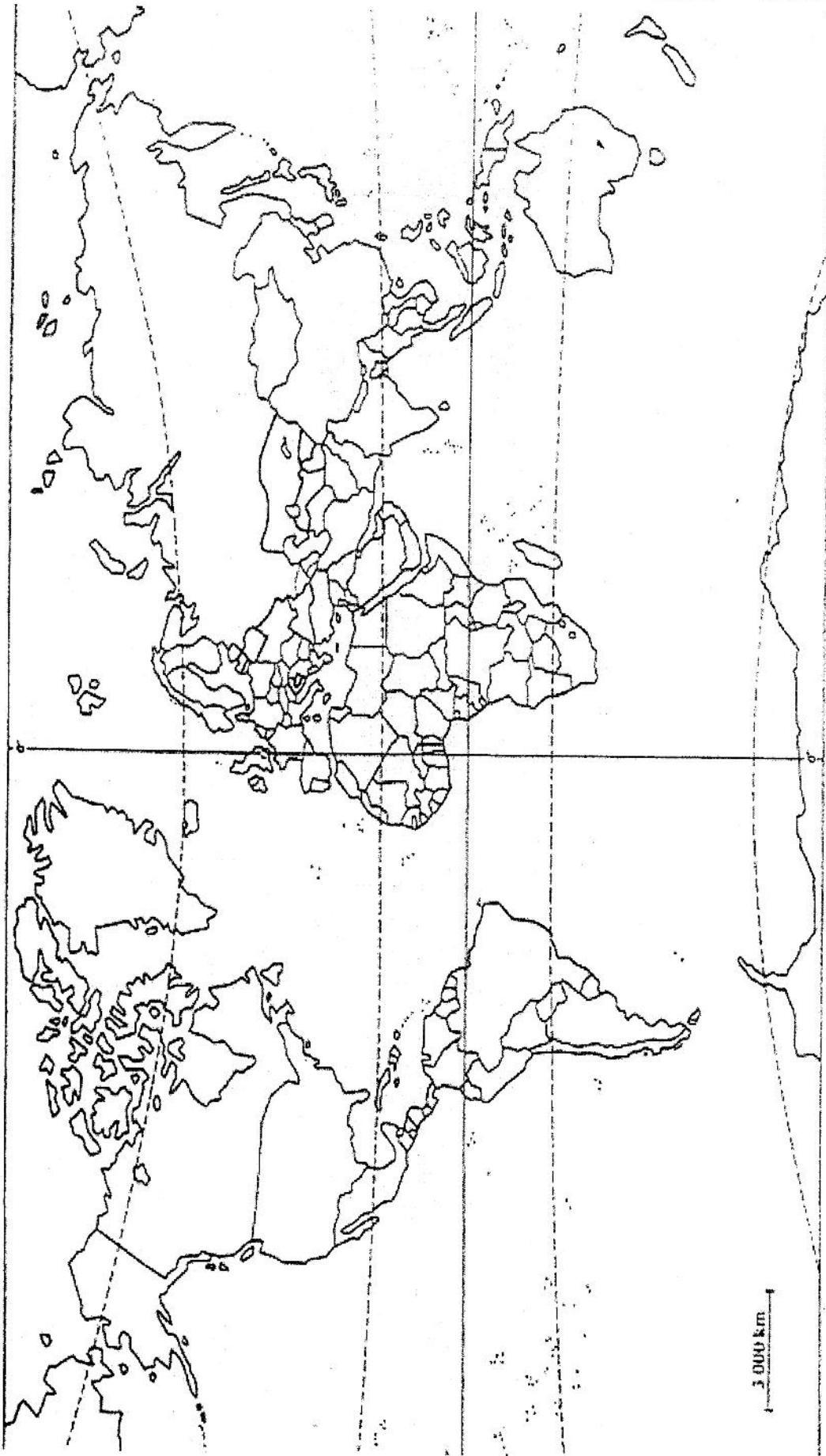
الكتاب المدرسي / ص 103

المطلوب:

اعتمادا على الفقرة ومكتسباتك القبلية، اكتب مقالا جغرافيا تبين فيه:

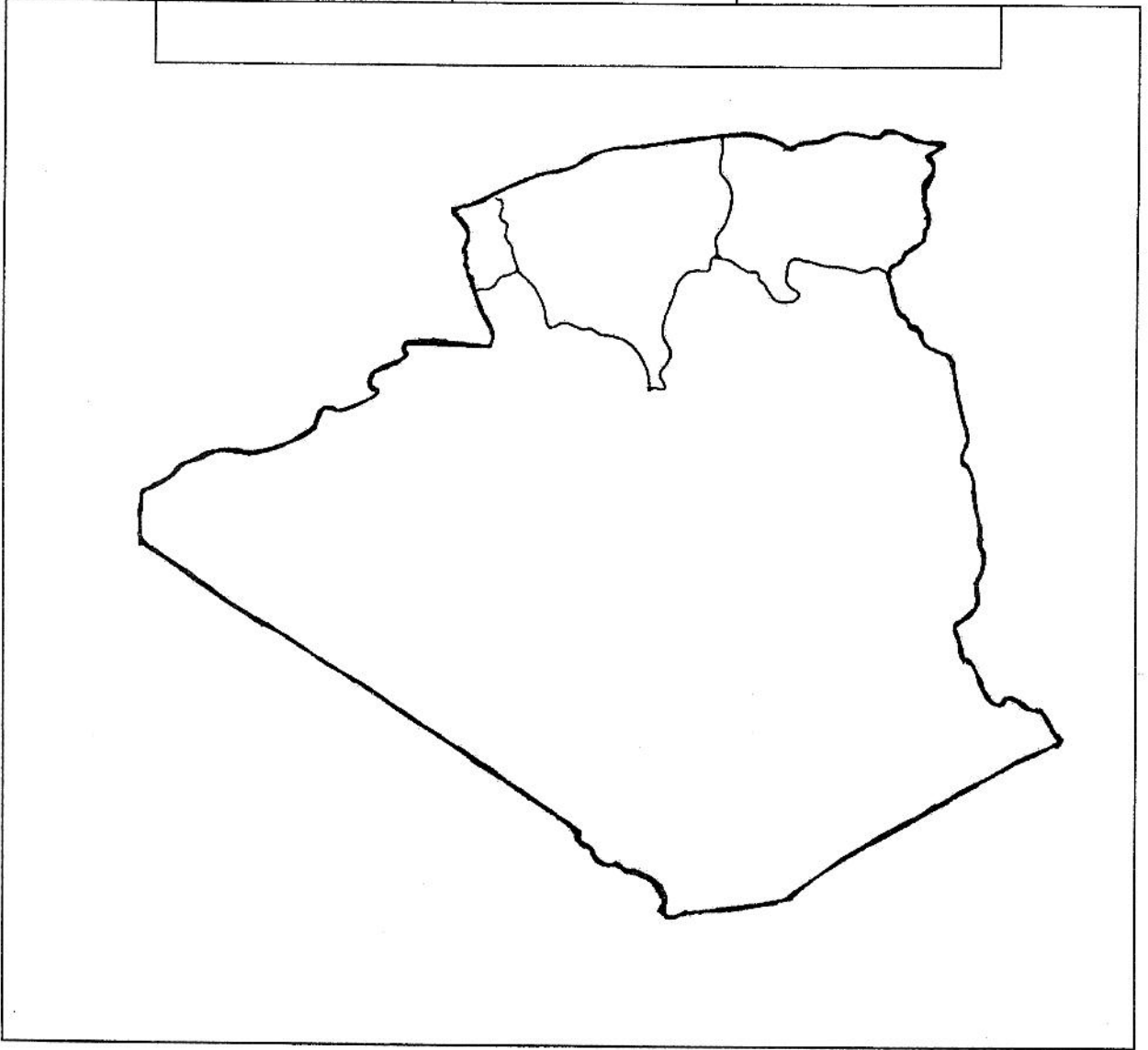
- 1- عوامل التنمية في آسيا الشرقية والجنوبية الشرقية.
- 2- مظاهر تحول المنطقة إلى قطب اقتصادي ومركز للمبادلات التجارية العالمية.

خريطة العالم



ينجز العمل المطلوب على الخريطة وتعاد مع أوراق الإجابة

خريطة الجزائر



ينجز العمل المطلوب على الخريطة وتعاد مع أوراق الإجابة

العلامة		عناصر الإجابة							
مجموع	مجزأة								
06		الموضوع الأول							
		التاريخ : الجزء الأول : 06 نقاط							
		1. تحديد زمن ومكان الحدث والتعريف بقائد البلد:							
	0.5	• 29 أكتوبر 1956.							
	0.5	• جمهورية مصر العربية.							
	0.5	• جمال عبد الناصر : من الضباط الأحرار الذي تولى مجلس قيادة الثورة في 1954 ، أمم قناة السويس في 1956 وأحد زعماء حركة عدم الانحياز.							
		2. مفهوم العبارات :							
	0.75	- معركة قناة السويس : هي العدوان الثلاثي على مصر من طرف بريطانيا وفرنسا وإسرائيل في 29 أكتوبر 1956 بسبب تأمين القناة والتي تعتبر إحدى أزمات الحرب الباردة.							
	0.75	- أسلحة الدمار الشامل : هي أسلحة ذرية و نووية وبيولوجية التي تدمر على نطاق واسع وتحدث خسائر مادية وبشرية وبيئية.							
	0.75	- العملاقين: وهما زعيما الكتلتين الشرقية والغربية الوم.أ والإتحاد السوفيتي .							
	3. ترتيب مضمون الجدول :								
	<table border="1"> <thead> <tr> <th>الحدث</th> <th>انعكاساته</th> </tr> </thead> <tbody> <tr> <td>مشروع إيزنهاور</td> <td>الصراع بين العملاقين وسياسة ملء الفراغ</td> </tr> <tr> <td>العدوان الثلاثي على مصر</td> <td>المد التحرري وتحول مصر نموذجا لحركات التحرر</td> </tr> <tr> <td>توازن الرعب النووي</td> <td>السباق نحو التسلح وتطور أسلحة الدمار الشامل</td> </tr> </tbody> </table>	الحدث	انعكاساته	مشروع إيزنهاور	الصراع بين العملاقين وسياسة ملء الفراغ	العدوان الثلاثي على مصر	المد التحرري وتحول مصر نموذجا لحركات التحرر	توازن الرعب النووي	السباق نحو التسلح وتطور أسلحة الدمار الشامل
الحدث	انعكاساته								
مشروع إيزنهاور	الصراع بين العملاقين وسياسة ملء الفراغ								
العدوان الثلاثي على مصر	المد التحرري وتحول مصر نموذجا لحركات التحرر								
توازن الرعب النووي	السباق نحو التسلح وتطور أسلحة الدمار الشامل								
	الجزء الثاني : 04 نقاط								
	المقدمة: إن تفكير قادة الثورة في إنجاح حرب التحرير يكون عبر توسيع نطاقها وجعلها شاملة.								
	العرض : 1 - الدوافع السياسية والعسكرية :								
0.5	أ - السياسية :								
0.25	• تكذيب إدعاءات العدو في القضاء على الثورة								
0.25	• تأكيد أنها ثورة شعب وليست حركة تمرد								
0.25	• التعريف بالقضية الجزائرية داخليا وخارجيا								
0.25	• تأكيد حقيقة الثورة ووضع حد للتردد								

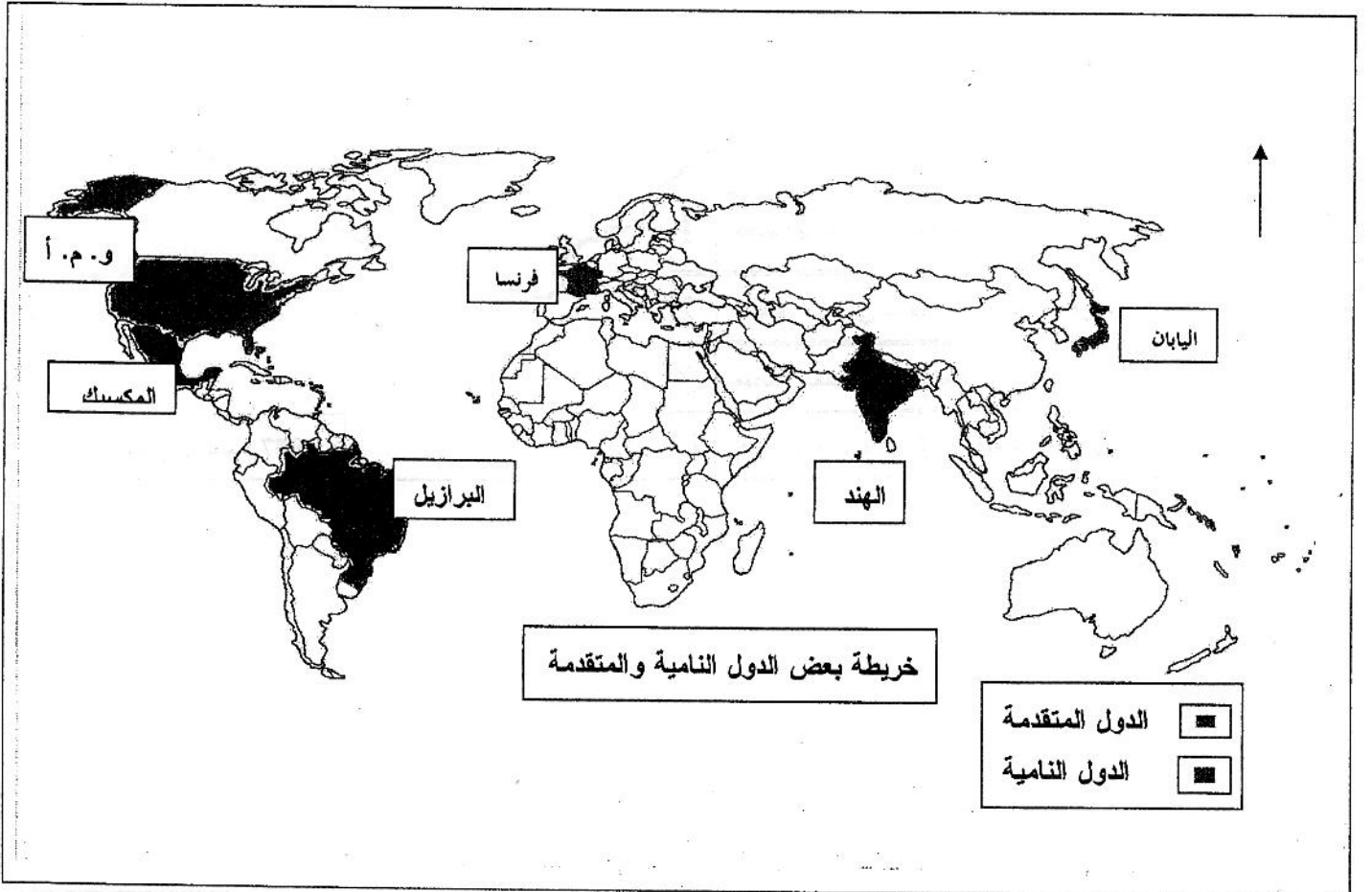
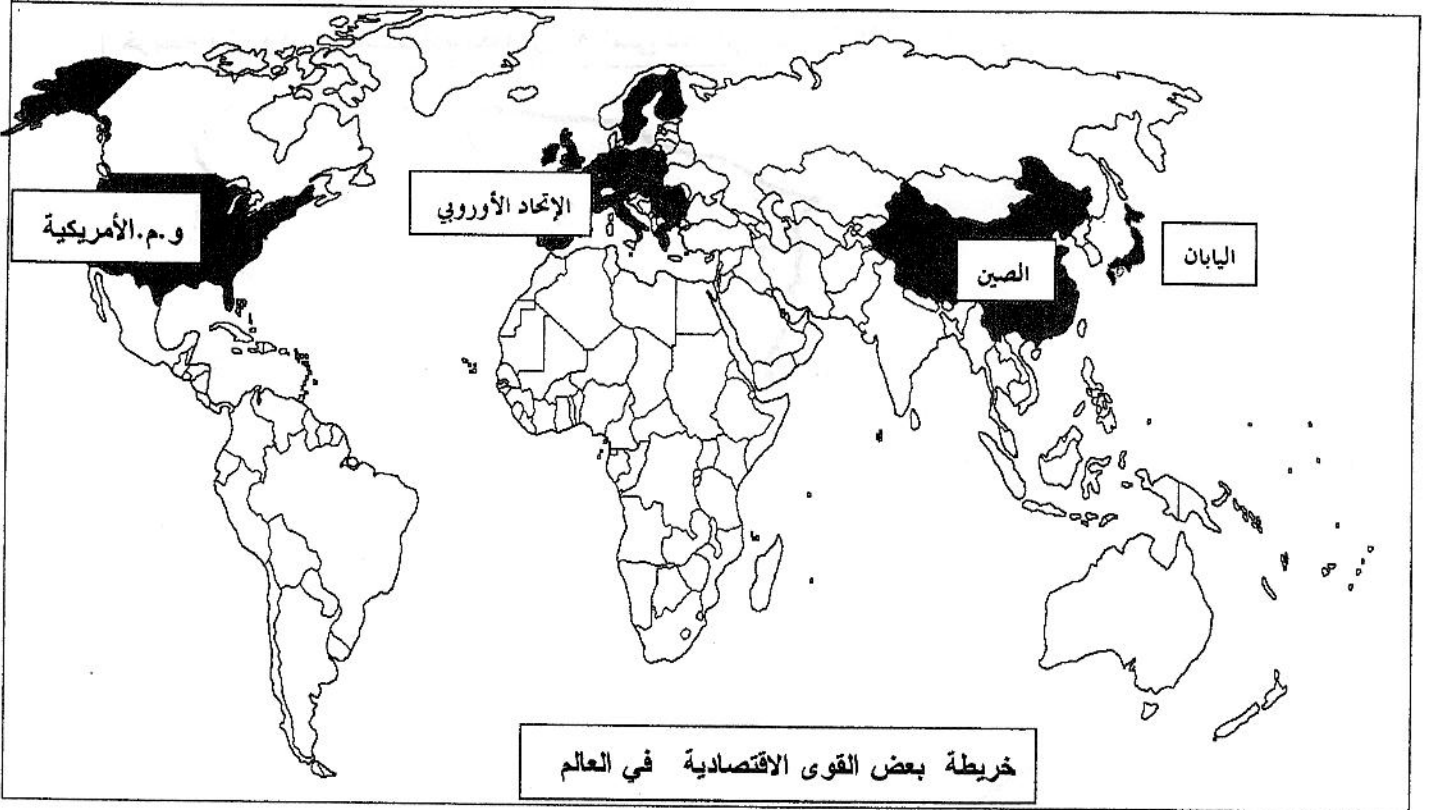
العلامة		عناصر الإجابة
مجموع	مجزأة	
		ب - العسكرية :
	0.25	• فك الحصار على منطقة لأوراس .
	0.25	• فتح جبهات جديدة على العدو وتشتيت قواته .
	0.25	• الاستيلاء على أسلحة العدو .
		2 - آثار الأحداث في مسار الثورة .
	0.5	• احتضان الشعب للثورة
	0.5	• نقل الثورة من الريف للمدينة .
	0.5	• اكتساب الثورة تأييد خارجي .
	0.5	الخاتمة : إن هجمات الشمال القسنطيني أعطت دفعا قويا للثورة ووضعتها على مسار اللارجعة.
		الجغرافيا
		الجزء الأول: 6 نقاط
		شرح المصطلحات:
	0.5	المبادلات: نشاط اقتصادي يتمثل في تبادل السلع والخدمات والأموال بين المتعاملين الاقتصاديين أفرادا ، شركات أو دولا.
	0.5	الاستثمارات : هي مجموع الأموال المنفقة بغرض إنماء رأسمال ، أي توظيف الأموال في مشاريع منتجة لتحقيق الأرباح .
	0.5	المنشآت القاعدية : هي كل التجهيزات والمرافق الضرورية لتنشيط الحياة الاقتصادية والاجتماعية مثل الطرق والمباني والجسور والموانئ...
06	0.5	تمثيل الجدول: - الإنجاز (0.5) - العنوان (0.25) - المفتاح (0.5)
	0.5	التعليق : - مساهمة هذه القوى بأكثر من 60% في التجارة العالمية .
	0.5	- تفاوت في نسب المساهمة في التجارة الدولية بين هذه القوى .
	0.5	- ارتفاع في مساهمة الاتحاد الأوربي في التجارة العالمية يزيد عن 3/2 .
	0.5	- مجموع صادرات و واردات الاتحاد الأوربي تفوق بقية القوى الواردة في الجدول .
	0.5	- تقارب بين قيم الصادرات و الواردات لجميع القوى الواردة في الجدول .
		- تفوق نسبة الصادرات لكل من الصين و اليابان و انخفاضها لدى الوم ا و الاتحاد الأوربي
	0.5	التعيين على الخريطة : (الدول الواردة في الجدول)
	0.5	- التوقيع
	0.25	- المفتاح
		- العنوان

العلامة		عناصر الإجابة
مجموع	مجزأة	
04	0.5	<p>الجزء الثاني: (04 نقاط)</p> <p>المقدمة :</p> <p>تؤخذ مجموعة من المعايير و المؤشرات بعين الاعتبار عند تصنيف الدول اقتصاديا إلى متقدمة و متخلفة .</p> <p>العرض: 1- معايير التصنيف</p>
	0.5	<p>ا - اقتصاديا: المؤشرات زراعة - صناعة - تجارة.</p> <p>الدخل الوطني الخام - قيمة العملة - البورصات - الاستثمارات.</p>
	0.5	<p>ب - اجتماعيا : الدخل الفردي - المستوى المعيشي - التمدرس ونسبة الأمية - التغطية الصحية</p> <p>البحث العلمي....</p>
	0.5	<p>ج - سياسيا : الاستقرار السياسي - الديمقراطية - وضعية حقوق الإنسان ..</p> <p>2- إمكانات التنمية في دول الجنوب :</p>
	0.5	<p>أ - الطبيعية : الموقع الجغرافي ، الموارد الطبيعية ، شساعة المساحة ، تنوع مظاهر السطح ...</p>
	0.5	<p>ب - الاقتصادية : وفرة المواد الأولية كالمعادن والطاقة - رؤوس الأموال والمدخرات المالية - قوة الاستهلاك .</p>
	0.5	<p>ج - البشرية: الكفاءات العلمية، اليد العاملة، تطور تكنولوجيا الإعلام والاتصال مثل الهند والصين والأبحاث العلمية المتخصصة.</p>
	0.5	<p>الخاتمة: إن التخلف ليس قدرا محتوما على دول الجنوب . وبإمكانها الانتقال إلى مصاف الدول المتقدمة إن أحسنت استغلال إمكاناتها.</p>
06	0.75 0.75 0.75	<p>الموضوع الثاني</p> <p>التاريخ</p> <p>الجزء الأول : (06 نقاط)</p> <p>1- شرح المفاهيم:</p>
		<p>المفاوضات: هي محادثات بين طرفين أو أكثر لمناقشة قضايا متنازع عليها قصد الوصول إلى اتفاق.</p> <p>الهدنة: توقيف العمليات العسكرية لفترة زمنية محددة.</p> <p>السيادة: هي الصلاحيات التي تعد حقوق للدولة تمارسها في النطاق الإقليمي لحماية الحدود والحفاظ على الأمن وهي قدرة الدولة على ممارسة أعمالها دون أي تدخل أو ضغوط خارجية.</p>
		<p>2 - التعريف بالشخصيات:</p>
		<p>- بن يوسف بن خده : عضو قيادي في حركة انتصار الحريات الديمقراطية أمين عام اللجنة المركزية رئيس الحكومة المؤقتة 60- 62.</p>

العلامة		عناصر الإجابة
مجموع	مجزأة	
	0.5	- شارل ديغول: جنرال و سياسي فرنسي قاد مقاومة بلاده ضد النازية شكل حكومة فرنسا الحرة و رئيس الجمهورية الفرنسية الخامسة 1958. جيء به وبصلاحيات واسعة للقضاء على الثورة.
	0.5	- رايح بييطاط: عضو قيادي في حركة الانتصار و المنظمة الخاصة قائد الولاية الرابعة اعتقل في بداية الثورة إلى غاية الاستقلال أول رئيس للمجلس الشعبي الوطني.
	0.5	3 - تحديد على خريطة الجزائر مناطق التقسيم:
	0.5	مشروع 1957: تقسيم الشمال إلى ثلاث مناطق:
	0.5	- جمهورية قسنطينة ذات الحكم الذاتي.
	0.5	- الإقليم الفرنسي لمنطقتي الجزائر وهران.
	0.75	- منطقة تلمسان ذات الحكم الذاتي.
		مشروع 1961: - فصل الصحراء عن الشمال.
		<u>الجزء الثاني: 04 نقاط</u>
	0.50	<u>المقدمة:</u> التطور الكبير الذي عرفته أسلحة الدمار الشامل وإدراك كل من المعسكرين استحالة حسم الصراع عسكريا لصالحه، والافتناع بضرورة تبني سياسة جديدة تقوم على مبدأ التعايش بين القوتين.
		<u>1 - عوامل الجنوح إلى السلم:</u>
	0.50	* تطور وسائل الدمار وتوازن الرعب النووي بين المعسكرين.
04	0.25	* حاجة الاتحاد السوفييتي إلى الأموال لتنمية القطاعات الاقتصادية.
	0.25	* تغيير القيادتين السياسيتين في الوم.أ والإس منذ 1953.
	0.25	* ضغط الرأي العام العالمي (المظاهرات، الإعلام...).
	0.25	* ضغط الكتلة الأفراسيوية وحركة عدم الانحياز.
		<u>2- انعكاسات ذلك على العالم الثالث:</u>
	0.50	• ظهور حركة عدم الانحياز كقوة فاعلة في العلاقات الدولية.
	0.25	• تقلص مناطق وبؤر التوتر في العالم.
	0.25	• الدعوة لنظام اقتصادي دولي جديد.
	0.50	• الحوار شمال - جنوب.
	0.50	<u>الخاتمة:</u> لم يكن التقارب بين المعسكرين وليد رغبة صادقة، بل جاء نتيجة تخوفهما من قيام حرب نووية، مما ساعد على بروز العالم الثالث كطرف فاعل في العلاقات الدولية.

العلامة		عناصر الإجابة	
مجموع	مجزأة		
06	0.75 0.75 0.75 0.5 0.25 0.25 0.25 0.5 0.25 0.25 3x0.25 3x0.25 0.5 0.25 0.25 0.25 0.25 0.25	الجغرافيا <u>الجزء الأول: 06 نقاط</u> شرح المصطلحات : العولمة : هي الانتشار العالمي لنفس النموذج و إزالة الحواجز أمام الانتقال الحر للسلع و الخدمات و رؤوس الأموال و المعلومات بين دول العالم. التنمية: عملية اقتصادية شاملة تسعى للاستغلال الأمثل للموارد البشرية و المادية قصد إحداث مجموعة من التغيرات في مجتمع معين لإكسابه القدرة على التطور الذاتي و تحقيق النمو الاقتصادي و الرفاهية الاجتماعية. دول الجنوب: مصطلح اقتصادي جغرافي يطلق على الدول المتخلفة اقتصاديا و اجتماعيا و تقع في القسم الجنوبي للكرة الأرضية. تمثيل الجدول : - الانجاز (0.5) - المفتاح (0.25) - العنوان (0.25) التعليق: • تفاوت في قيمة المبادلات بين الدول المتقدمة و النامية. • هيمنة الدول المتقدمة على التجارة العالية. • قيمة المبادلات التجارية للدول النامية أقل من قيمة ألمانيا بمفردها. • هيمنة الولايات المتحدة و بروز ألمانيا كقوة اقتصادية ثانية في العالم. التوقيع على الخريطة : ثلاثة دول متقدمة (الو. م. أ. - فرنسا - اليابان). ثلاثة دول نامية (المكسيك - الهند - البرازيل). <u>الجزء الثاني: 04 نقاط</u> المقدمة : اجتمعت أسباب تاريخية وطبيعية وبشرية لتجعل من منطقة شرق وجنوب شرق آسيا قطبا اقتصاديا توجهت إليه أنظار العالم. العرض: 1- عوامل التنمية في شرق وجنوب شرق آسيا: - الوزن الديموغرافي للمنطقة ما يقارب 2 مليار نسمة. - استثمار العنصر البشري كطاقة حيوية وفاعلة في مجال التنمية. - مواصفات اليد العاملة المتميزة بالتعلم والتأهيل والانضباط و المردودية العالية. - الاعتماد على التصدير كأساس للتنمية. - الاستفادة من العولمة ونشاط الشركات المتعددة الجنسيات. - قوة الاستثمارات داخل وخارج المنطقة. - التكتل في نطاق منظمة الآسيان.	
		04	

العلامة		عناصر الإجابة
مجموع	مجزأة	
		- مظاهر تحول المنطقة إلى قطب اقتصادي :
0.25		- بروز المنطقة كقطب صناعي ثالث بعد كل من الولايات المتحدة.أ والإتحاد. أ.
0.25		- تعدد أقطاب المنطقة وتنافسها فيما بينها (اليابان - الصين - كوريا الجنوبية-
0.25		التنينات -النمور).
0.25		- ارتفاع الدخل القومي للمنطقة 7000مليار دولار ما يعادل ¼ دخل العالم.
0.25		- يمثل أسطولها البحري 30 % من أسطول العالم.
0.25		- احتلالها المرتبة الأولى في بناء السفن والثانية في الصناعات الميكانيكية .
0.25		- التكتل في إطار إتحاد جنوب شرق آسيا (الآسيان منذ1967).
		- غزو منتجات المنطقة (الصين واليابان وكوريا) كل أسواق العالم.
0.5		الخاتمة : حققت دول منطقة آسيا الشرقية والجنوبية الشرقية تطورا مشهودا فأضحت نموذجا اقتصاديا يتحدى بإنتاجه المتنوع والغزير .



خريطة مشروعى التقسيم الاستعماري الفرنسي للجزائر سنتى 1957 و 1961



1 جمهورية قسنطينة للحكم الذاتي

1

2 إقليم الفرنسي لمنطقتي الجزائر وهران

2

3 منطقة تلمسان ذات حكم ذاتي

3

4 إقليم الواحات و الساورة بالصحراء مشروع تقسيم 1961

4

1-2-3 مشروع تقسيم 1957

