

على المترشح أن يختار أحد الموضوعين التاليين:

الموضوع الأول : (20 نقطة)

التاريخ

الجزء الأول : (06 نقاط)

...جاء الجنرال ديغول إلى الجزائر، وذهب إلى قسنطينة وأعلن برنامجا متحررا، وإن كان لا يختلف كثيرا عن برنامج فيوليت... وأردف ذلك بحركة اعتقالات سوى فيها بين رجال اليمين ورجال اليسار، فزج بفرحات عباس في السجن وألقى القبض على مصالي الحاج وأرسله إلى الصحراء ثم الكونغو، ولم تكن هذه المعاملة تتفق في كثير أو قليل مع خطابه في قسنطينة...
جلال يحي/ العالم العربي الحديث والمعاصر ج 2 ص 691

المطلوب:

- 1- عرف بالشخصيات التالية : فرحات عباس، مصالي الحاج.
- 2- اشرح ما تحته خط في الفقرة.

الجزء الثاني : (04 نقاط)

أسفر لقاء مالطا ديسمبر 1989 بين ميخائيل غورباتشوف وجورج بوش على اتفاق مبدئي ينص على إنهاء الحرب الباردة بين المعسكرين .

المطلوب:

- انطلاقا من الفكرة واعتمادا على ما درست أكتب مقالا تاريخيا تجيب فيه عن :
- 1- أهداف هذا الاتفاق .
 - 2- انعكاساته على العلاقات الدولية .

"... إن التباين القائم بين الدول المتخلفة والدول الصناعية يشكل عرقلة جديدة دون تأكيد السلم، وأن تكوين الكتلة الاقتصادية بدلا من تسهيل التعاون بين الأمم يؤدي إلى تسلط الدول الكبرى على البلدان الصغيرة."

ميثاق الجزائر 1964 ص 44 .

المطلوب:

- 1- أشرح ما تحته خط في الفقرة .
- 2- على خريطة العالم المرفقة لَوِّن الدول المشكّلة للكتلات الاقتصادية التالية :
 - الاتحاد الأوربي
 - منظمة الأوبسب.

الجزء الثاني : (04 نقاط)

إليك جدولا يمثل نسبة مساهمة بعض الدول في التجارة الدولية .

الدولة	نسبة المساهمة في التجارة الدولية	نسبة مساهمة المواد الأولية في الصادرات
الولايات المتحدة الأمريكية	13.45%	16%
اليابان	5.67%	3%
فرنسا	4.48%	17%
كوريا الجنوبية	2.47%	7%
مصر	0.13%	63%
مالي	0.01%	59%

تقرير التنمية البشرية / برنامج الأمم المتحدة الإنمائي 2005

المطلوب:

- انطلاقا من الجدول واعتمادا على ما درست اكتب مقالا جغرافيا تجيب فيه عن:
- 1- التباين في نسبة المساهمة في التجارة الدولية بين الدول الواردة في الجدول مع التعليل .
 - 2- التباين في نسبة المساهمة في صادرات المواد الأولية مع التعليل .

الموضوع الثاني : (20 نقطة)

التاريخ

الجزء الأول : (06 نقاط)

" بدأت غيوم الحرب الباردة تتبدد تدريجيا منذ مجئ غورباتشوف إلى السلطة بسياسة البريسترويكا واقتراحاته الجديدة والجديّة لتخفيض التسلح النووي والقوات التقليدية في أوروبا، وسكوته عما يجري فيها من تحولات خاصة في بولونيا، وأسفرت لقاءاته مع ريغن في جنيف 1985، وريكيافيك 1986 وواشنطن 1987 وموسكو 1988 ثم مع جورج بوش في مالطا 1989 عن زوال الكثير من مظاهر الحرب الباردة بتهدئة الصراعات الإقليمية كما في أفغانستان ونيكاراغوا وتوقيع اتفاقيات تعاون اقتصادي وعلمي ..."

المطلوب:

- 1 - عرف كلا من الشخصيتين: غورباتشوف، ريغن .
- 2 - عرف مفهوم الحرب الباردة.
- 3 - عين على خريطة العالم المرفقة : واشنطن، موسكو، مالطا.

الجزء الثاني : (04 نقاط)

بعد هزيمة القوات الفرنسية في معركة " ديان بيان فو " قررت فرنسا إنهاء وجودها في الهند الصينية لإخماد ثورة نوفمبر 1954 في الجزائر .

المطلوب:

- اعتمادا على الفكرة وعلى ما درست حرر مقالا تاريخيا تبين فيه :
- 1 - عوامل انتصار الحركة التحررية في الهند الصينية ضد الإستعمار الفرنسي.
 - 2 - الظروف الخارجية لقيام الثورة التحريرية في الجزائر عام 1954 .

الجغرافيا

الجزء الأول : (06 نقاط)

" ... لا يمكن وضع استراتيجية سليمة للتنمية في عالم الجنوب دون الفهم الموضوعي لأسباب التخلف وكيفية نشأته ، وقد ظهرت عدة نظريات تحاول تفسير نشأة التخلف في العالم الثالث بظهور الرأسمالية الأوروبية وما صاحبها من استعمار لهذا العالم ونهب ثرواته ..."

رايخ لونييس / البديل الحضاري .

المطلوب :

- 1- اشرح ما تحته خط في النص .
- 2- على خريطة العالم المرفقة لون دول العالم المتخلف .

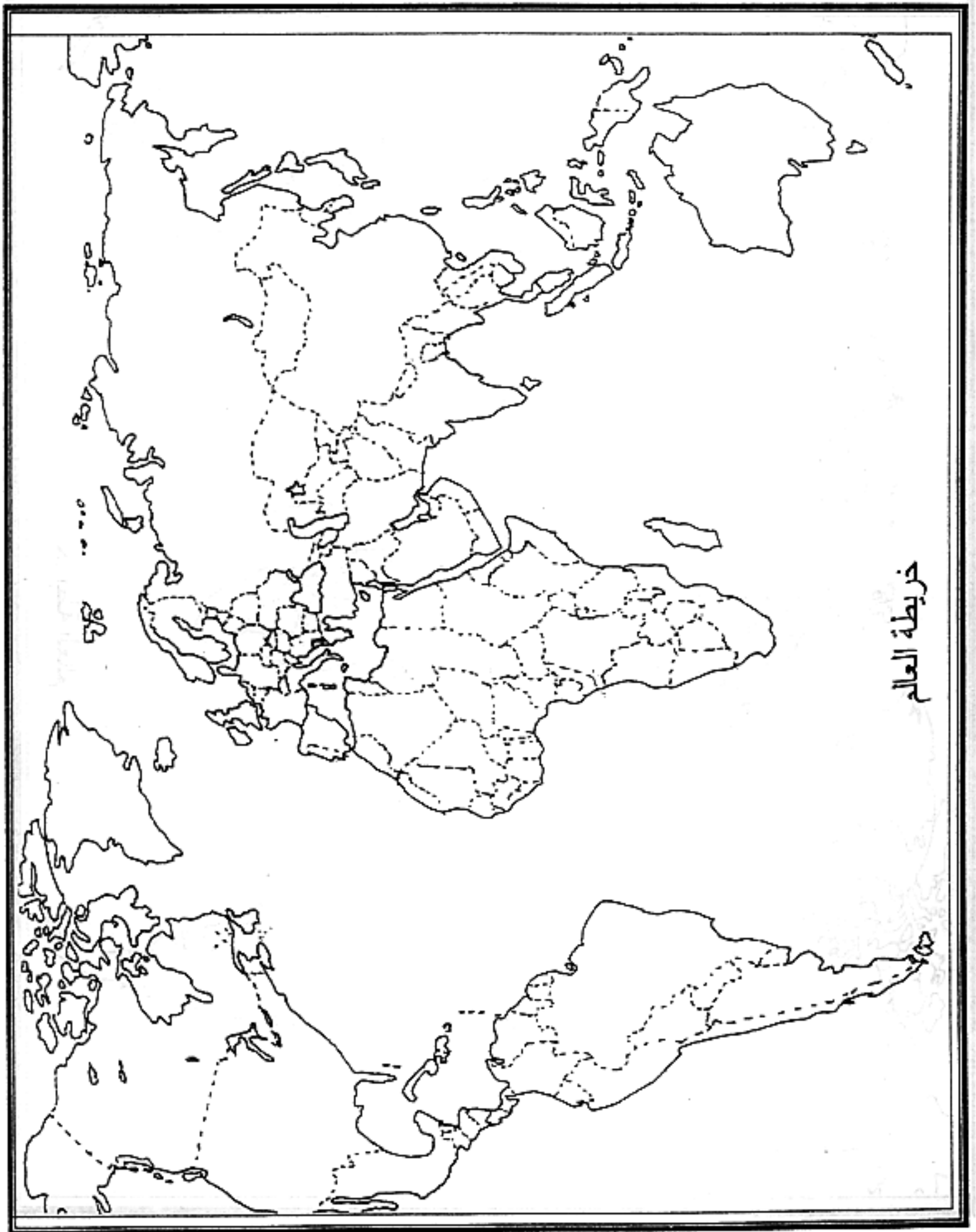
الجزء الثاني (04 نقاط)

" ... إن دول شرقي آسيا تواصل النمو بوتيرة مذهلة ، كما أن التكامل الاقتصادي يواصل ازدياده، ففي عام 1980 وصلت حصة شرقي آسيا من الناتج المحلي الإجمالي 17 % وفي عام 2005 ارتفع الرقم إلى 19% نظرا للنمو الاقتصادي القوي لشرقي آسيا ..."

دليل المستثمرات العالمي / اليابان قبلة المستثمرين

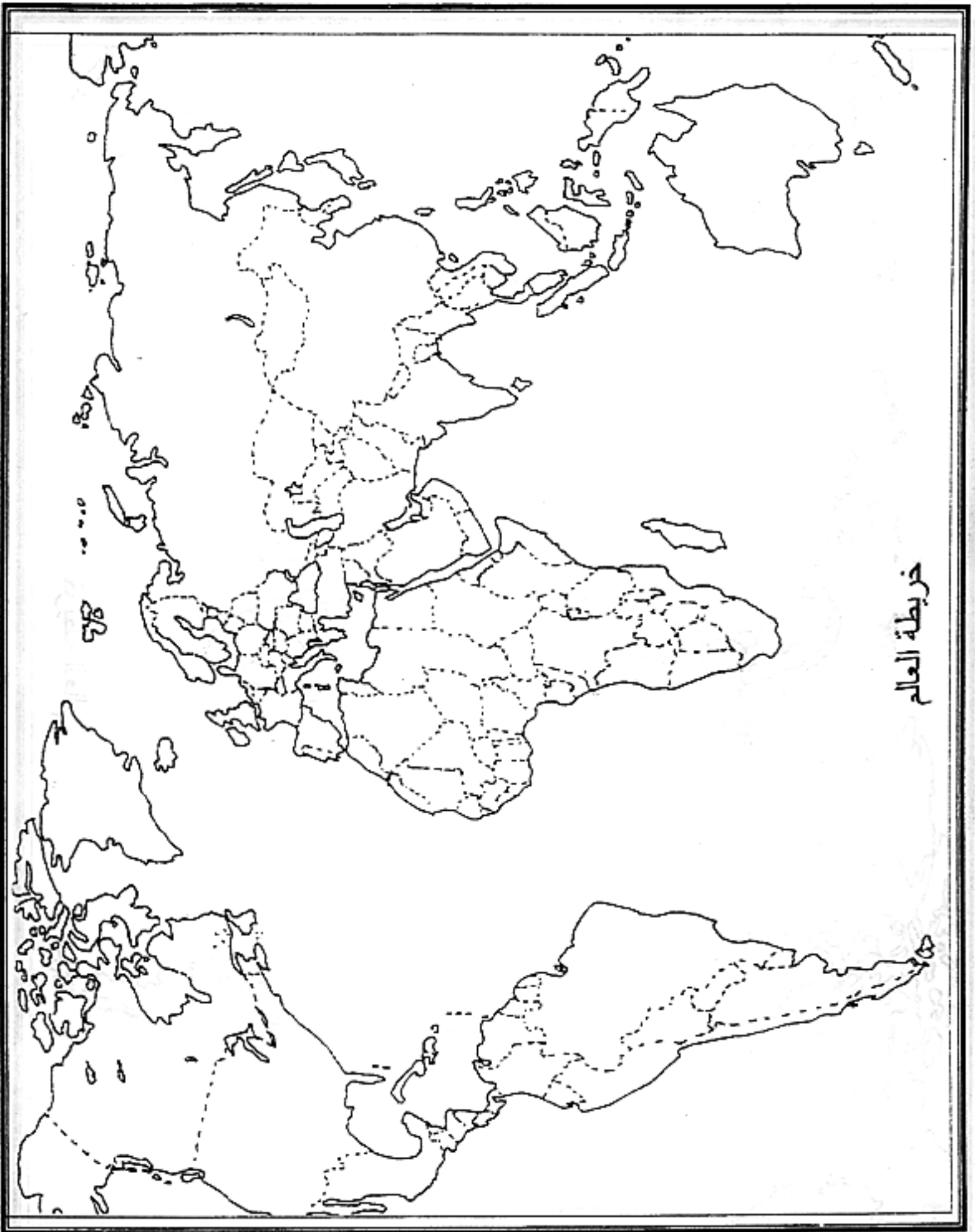
المطلوب :

- انطلاقا من الفقرة واعتمادا على ما درست اكتب مقالا جغرافيا تجيب فيه عن:
- 1- إمكانات التكامل الاقتصادي بين دول المنطقة .
 - 2- انعكاسات التكامل على التنمية الاقتصادية لدول المنطقة .



خريطة العالم

ينجز العمل المطلوب على الخريطة وتعاد مع أوراق الإجابة



خريطة العالم

ينجز العمل المطلوب على الخريطة وتعاد مع أوراق الإجابة

الإجابة النموذجية وسلم التقييم

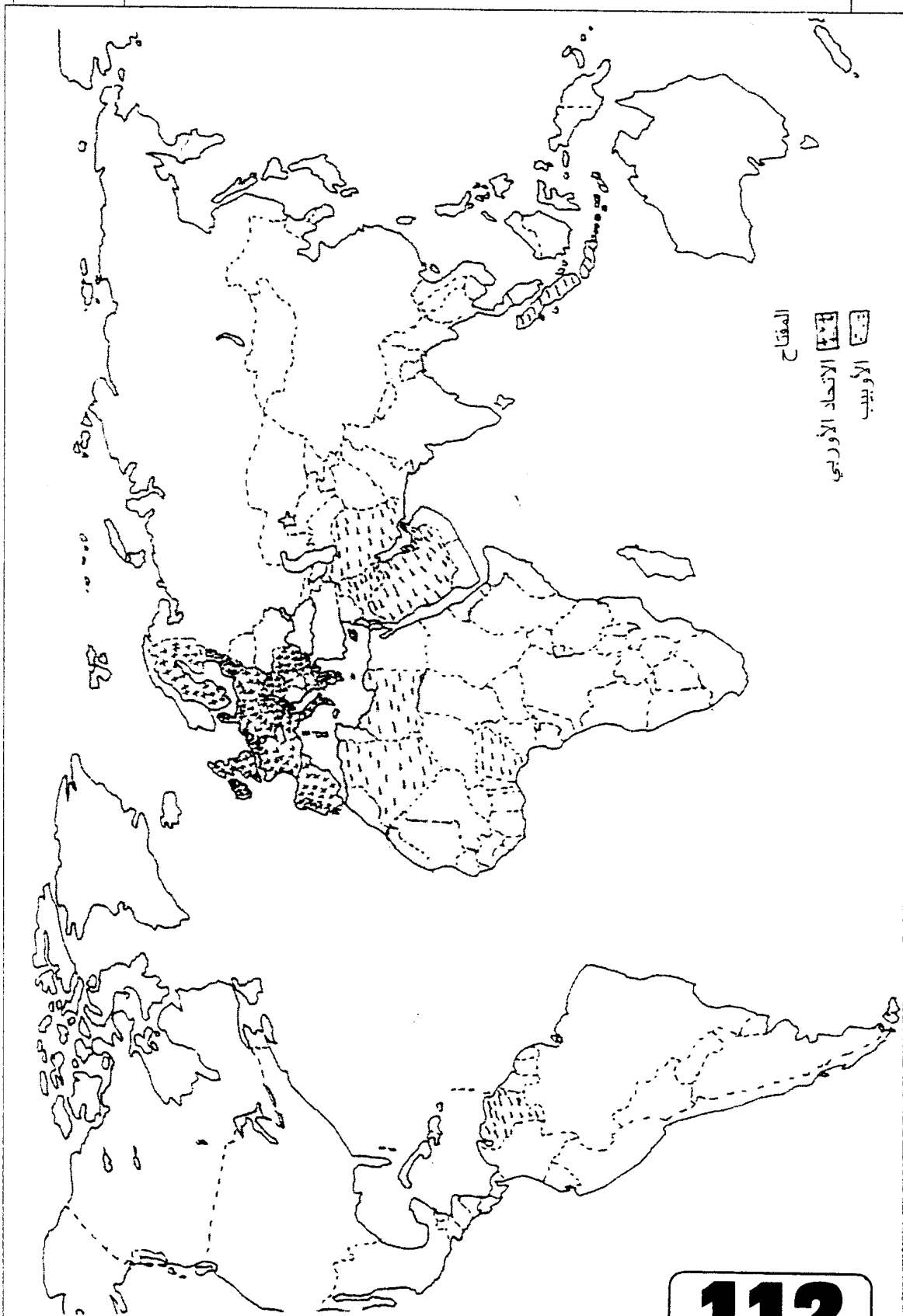
العلامة		عناصر الإجابة	محاور الموضوع
مجزأة	المجموع		
		<p>الموضوع الأول</p> <p>الجزء الأول : (06 نقاط)</p> <p>1- التعريف بالشخصيات :</p> <p>- فرحات عباس : سياسي جزائري (جماعة النخبة)، نشاطه السياسي (1927-1962)، نادى بسياسة الإدماج ثم بالجمهورية الجزائرية المرتبطة بفرنسا، انظم للثورة في سنة 1956 - أول رئيس للحكومة الجزائرية المؤقتة.</p> <p>0.5</p> <p>- مصالي الحاج : سياسي جزائري أول من نادى بالاستقلال التام لجزائر من خلال نجم شمال إفريقيا- حزب الشعب الجزائري، حركة انتصار للحريات الديمقراطية. من أكثر السياسيين تعرضا للسجن والنفى والإقامة الجبرية.</p> <p>0.5</p> <p>2- شرح ما تحته خط :</p> <p>- برنامج متحررا : برنامج الإصلاح الذي أعلن عنه ديغول بقسنطينة 1943 وجسد في قرار 7 مارس 1944.</p> <p>1</p> <p>- برنامج فيوليت : برنامج إصلاحي ينسب إلى موريس فيوليت في عهد حكومة الجبهة الشعبية الفرنسية وقد قوبل بالرفض.</p> <p>1</p> <p>- اعتقالات : تلك الأساليب الفرنسية المتمثلة في السجن، الإقامة الجبرية - النفى...</p> <p>1</p> <p>- رجال اليمين : هم جماعة النخبة الذين طالبوا بالإصلاحات في ظل الشرعية الفرنسية.</p> <p>1</p> <p>- رجال اليسار : التيار الاستقلالي (حزب الشعب الجزائري) المطالب والتمسك بالاستقلال.</p> <p>1</p>	06
		<p>الجزء الثاني : (04 نقاط)</p> <p>- علاقة مالطا بنهاية الحرب الباردة أو</p> <p>- التعريف بلقاء مالطا</p> <p>0.5</p> <p>1- أهداف الاتفاق :</p> <p>- تجنب قيام حرب نووية.</p> <p>0.5</p> <p>- إنهاء صراع الحرب الباردة</p> <p>0.5</p>	المقدمة :

تابع الإجابة اختبار مادة : التاريخ والجغرافيا .. الشعبة : التسيير والاقتصاد

العلامة		عناصر الإجابة	محاوَر الموضوع
المجموع	مجزأة		
04	0.5 0.5 0.5 0.5 0.5	<p>2- انعكاساته على العلاقات الدولية :</p> <ul style="list-style-type: none"> - قيام الوحدة الألمانية - حل المنظمات الاقتصادية والعسكرية للاتحاد السوفياتي (الكوميكون - حلف وارسو) - انهيار المعسكر الشيوعي - انفراد المعسكر الغربي بزعامة انورم، بقيادة العالم. <p>الدبلوماسية الرأسمالية أطاحت بالاشتراكية واستراتيجيتها.</p>	الخاتمة :
06	1 1 1 1 0.25 0.75×2 0.25	<p>الجغرافيا :</p> <p>الجزء الأول : (06 نقاط)</p> <p>1- شرح المفاهيم :</p> <ul style="list-style-type: none"> - الدول المتخلفة : هي مجموع دول إفريقيا، آسيا ، أمريكا اللاتينية التي خضعت للاستعمار المباشر وغير المباشر واستقلت حديثا، تعرف بدول العالم الثالث - الدول النامية - الدول السائرة في طريق النمو - دول عالم الجنوب، تتميز بعدم مواكبة التطور الحاصل في عالم الشمال. - الدول الصناعية : الدول المتقدمة اقتصاديا وتكنولوجيا، والقطاع الصناعي يغلب على اقتصادها وفي مقدمتها مجموعة الثمانية. - الكتل الاقتصادية : هي التجمعات ذات الطابع الاقتصادي، القارية، الجهوية، الإقليمية والعالمية، هدفها التعاون وتقوية الروابط فيما بينها بانتهاج السياسات الموحدة. - التعاون : مبدأ هام في بناء العلاقات الدولية تنص عليه المواثيق والمعاهدات الأممية والأعراف غايته نبذ الصراع والخلاف والاستغلال وتحقيق التآزر والتضامن بين الشعوب والدول. <p>2- تلوين الدول المشكلة لـ :</p> <ul style="list-style-type: none"> - الاتحاد الأوروبي - منظمة الأوبسب. ○ العنوان ○ التوقيع ○ المفتاح 	
	0.5 0.25 0.25 0.25 0.25	<p>الجزء الثاني : (04 نقاط)</p> <p>وثيقة جغرافية تتضمن نسبة مساهمة بعض الدول من العالمين المتقدم والمتخلف في مجال التجارة الدولية لسنة 2005.</p> <p>1- التباين في نسبة المساهمة في التجارة الدولية بين المجموعتين :</p> <ul style="list-style-type: none"> - مجموعة الدول المتقدمة (الو.م.أ ، اليابان، فرنسا، كوريا ج) نسبة 26,07% تفوقهم الو.م.أ بنسبة 13,45% . - مجموعة الدول المتخلفة (مصر، مالي) بنسبة 0,14% ويعود هذا التباين إلى ○ سيطرة العالم المتقدم على أسواق التجارة العالمية. ○ حاجيات العالم المتخلف للموارد الضرورية الزراعية والصناعية. 	المقدمة :

العلامة		عناصر الإجابة	محاور الموضوع
المجموع	مجزأة		
04	0.25	<p>○ الاعتماد الكلي لأسواق عالم الجنوب على منتوجات عالم الشمال لأسباب التاريخية.</p> <p>2- التباين في نسبة صادرات المواد الأولية :</p> <p>- مجموعة الدول المتقدمة (الوج.أ ، اليابان، فرنسا) مساهمة المواد الأولية في صادرات كل دولة ضعيفة تمثلها فرنسا بنسبة 17 % من مجموع صادراتها وأدناها اليابان بنسبة 03 % من مجموع صادراته.</p> <p>- مجموعة الدول المتخلفة (مصر، مالي) تمثل بنسبة عالية في صادرات مواردها الأولية مصر 63 % . مالي 59 % ويعود ذلك إلى :</p> <p>* العالم المتقدم:</p> <p>- فقير من حيث الموارد الأولية هذا من جهة وللحفاظ على موارده الأولية كاحتياطي أو استغلال محلي من جهة ثانية.</p> <p>* العالم المتخلف :</p> <p>- يمثل نسبة عالية من مجموع صادراته كمادة خام نظرا لضعف الامكانيات وعدم وجود صناعات تحويلية ورتباط المواد الأولية بالرأسمال والشركات الأجنبية.</p>	الخاتمة :
	0.25		
	0.25		
	0.25		
	01		
0.5		اختلاف في المواد المصدرة والمستوردة بين عالم الشمال والجنوب يعكس واقعا اقتصاديا غير متكافئ وتبعية عالم الجنوب للشمال المصنع.	

خريطة العالم - توقيع الاتحاد الأوربي ودول منظمة الأوبسب

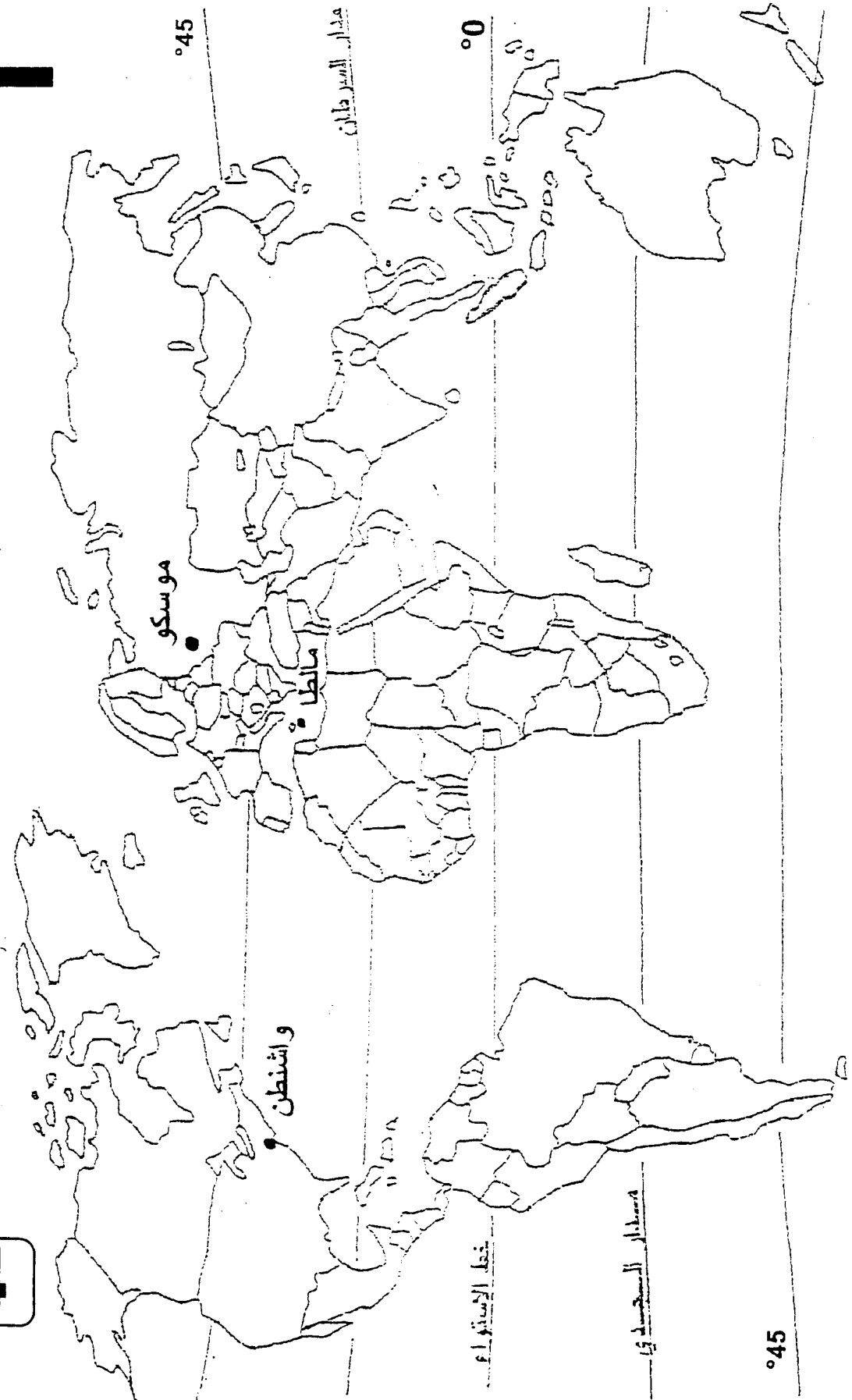


العلامة		عناصر الإجابة	محاور الموضوع
مجزأة	المجموع		
		الموضوع الثاني	
		تاريخ : الجزء الأول	
		1 - تعريف الشخصيتين:	
06	1.50	- غورباتشوف : رئيس الاتحاد السوفياتي بين 1985-1989 عرف بإصلاحات الغلاسنوست والبريسترويكا، في عهده تفكك الاتحاد السوفياتي وبدأ انهيار المعسكر الشيوعي، استقال من الحزب الشيوعي في 1991.	
	1.50	- ريغن: رئيس الولايات المتحدة 1981-1989، عرف بمعاداته للشيوعية، وعرف بحرب النجوم للتفوق على التسليح النووي السوفياتي.	
	1.50	2 - مفهوم الحرب الباردة: صراع إيديولوجي عقائدي بين المعسكرين، استخدمت فيه جميع الوسائل ما عدا السلاح لتحقيق مكاسب مادية أو معنوية.	
	1.50	3 - التبعين على الخريطة: واشنطن، موسكو، مانطا	
		الجزء الثاني	
	0.50	تصاعد المد التحرري في الهند الصينية والمغرب العربي	المقدمة
	0.50	1 - عوامل انتصار الحركة التحررية في الهند الصينية :- الدعم الشيوعي	
	0.50	- ضعف وتراجع الاستعمار التقليدي	العرض
04	0.25	- نجاح الثورة الشيوعية في الصين	
	0..25	- التنظيم المحكم للحركة التحررية .	
	0.25	2 - الظروف الخارجية لقيام الثورة التحريرية :- تأثير صراع الحرب الباردة،	
	0.50	- نجاح الثورة المصرية .	
	0.25	- اندلاع ثورتين تونس والمغرب .	
	0.50	- انهزام القوات الفرنسية في الهند الصينية .	الخاتمة
	0.50	رغم الوسائل المسخرة إلا أن الاستعمار الفرنسي فشل في احتواء المد التحرري .	



تحديد المواقع الجغرافية

خريطة العالم



45°

مقدار الجحش

خط الاستواء

واشنطن

موسكو

مالطا

45°

0°

مقدار السرطان

الإجابة اختبار مادة : التاريخ والجغرافيا الشعبة : التسيير والاقتصاد

العلامة		عناصر الإجابة	الموضوع	
المجموع	مجزأة			
06	01	<p>الجغرافيا</p> <p><u>الجزء الأول 06 نقاط</u></p> <p>1- شرح ماتحته خط .</p> <ul style="list-style-type: none"> • استراتيجية ./ هي جملة من الإجراءات التنظيمية (خطة) تخص مجال التنمية تأخذ بعين الاعتبار كل الامكانيات المتاحة بغية الوصول إلى تحقيق الأهداف المنشودة . • التخلف : هو وضعية اقتصادية تتميز بالتأخر عن ركب الدول المتطورة في جميع المجالات ويتضح ذلك من خلال مؤشرات كثيرة . <p>سياسية</p> <p>اقتصادية واجتماعية</p> <ul style="list-style-type: none"> • العالم الثالث ./ يقصد به مجموعة الدول التي استقلت حديثا ومن مرادفاته . (عالم الجنوب ، العالم المتخلف ، العالم النامي ، الدول السائرة في ضيق النمو) . <p>2- <u>تلوين الدول المتخلفة على خريطة العالم .</u></p>		
	0.75			
	0.50			
	0.75			
	01			
	01			
	01			
	0.50			
	0.50			
04	0.50	<p><u>الجزء الثاني 04 نقاط</u></p> <p>وثيقة جغرافية تبين نسب النمو الاقتصادي في شرقي آسيا .</p>	ثنية	
	0.25	<p>1- <u>امكانيات التكامل الاقتصادي بين دول المنطقة</u> .</p> <ul style="list-style-type: none"> - وفرة المواد الأولية (الطاقوية ، المعدنية ، الفلاحية) - اليد العاملة المؤهلة + البسيطة . - القوة التكنولوجية - القوة المالية - الشركات العملاقة (اليابانية والكورية) - سعة السوق - استراتيجية الموقع (الاعتماد على الأسطول البحري) . 	رض	
	0.25			
	0.25			
	0.25			
	0.25			
	0.25			
	0.25			
	0.50			
	0.50			
0.25				
0.50				
	0.50	<p>التكامل والتكامل ركيزتان من ركائز النجاح والتفوق .</p>	ثنية	

تابع الإجابة اختبار مادة : التاريخ والجغرافيا .الشعبة : تسيير واقتصاد

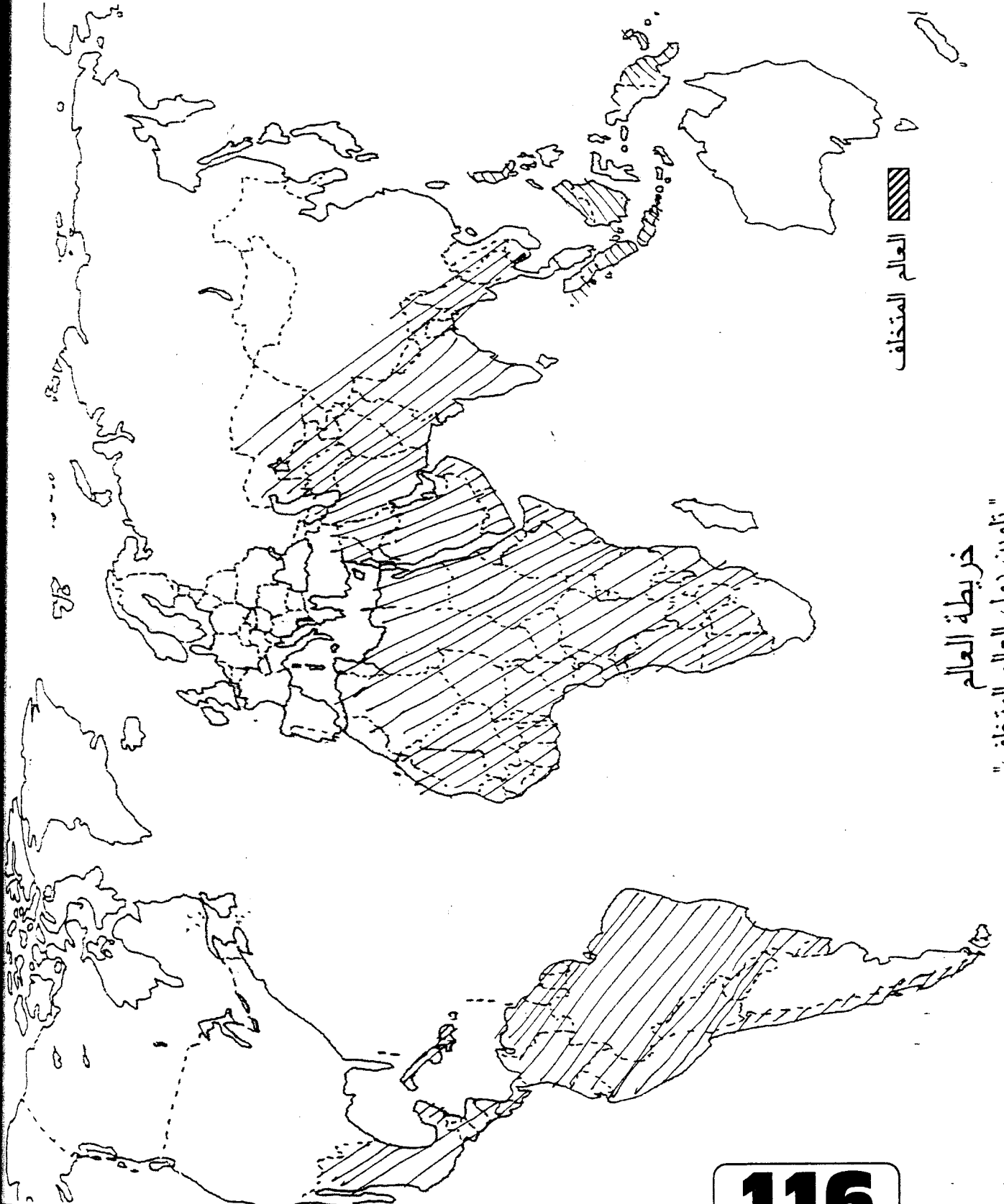
محاوور الموضوع

عناصر الإجابة

العلامة

المجموع

مجزأة



العالم المتخالف

خريطة العالم
تلوين دول العالم المتخالف